



آزمون ورودی پایه دوم

به نام خدا

کلاس :

نام و نام خانوادگی :

سلام بچه ها : پاسخ درست را با علامت* در پاسخ نامه مشخص کنید . موفق باشید

۱- زهرا خانم ۹ عدد سیب دارد . اگر او ۳ عدد از آنها را به خواهرش بدهد آنگاه برای او چند عدد سیب باقی خواهد ماند ؟

الف) ۷ عدد (ب) ۶ عدد (ج) ۵ عدد (د) ۸ عدد

۲- به شکل ها نگاه کنید و بگویید از بلندگوی آخر چه عددی بیرون می آید ؟



۳- اگر در جدول ۷ یکی و شش ده تایی داشته باشیم آنگاه چه عددی خواهیم داشت ؟

الف) هفتاد و شش (ب) شصت و هفت (ج) هفده (د) سیزده



۴- شکل مقابل چه عددی را نشان می دهد ؟

الف) ۵۴ (ب) ۹ (ج) ۴۵ (د) ۹۰

۵- کدام حیوان از بقیه سنگین تر است ؟



د



ج




ب



الف

۶- اگر از سیب های مقابل ۳ تا سیب را بخوریم آنگاه.....



الف) ۴ (ب) ۴ تا می شود .

ج) ۴ تا باقی می ماند. (د) ۳ تا می شود.

۷- کدام عبارت برای شکل مناسب تر است ؟

الف) $۸ - ۶ = ۲$ (ب) $۸ - ۲ = ۶$

ج) $۶ - ۴ = ۲$ (د) $۸ - ۶ = ۲$





۸- طول کدام عکس بلندتر از بقیه است ؟

د ج ب الف

۹- کدام گزینه درست است ؟

الف) ۱۸ یعنی یکی و ۸ ده تایی . (ب) ۱۸ یعنی ۱ ده تایی و ۸ یکی

ج) ۲۰ یعنی ۲ تا یکی و ۰ ده تایی (د) ۱۵ یعنی ۵ ده تایی و ۱ یکی

۱۰- کدام گزینه درست است ؟

الف) $۹ > ۶$ (ب) $۸ < ۷$ (ج) $۵ > ۴$ (د) $۷ = ۸$

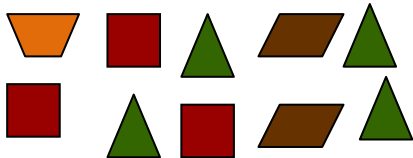


۱۱- کدام عدد هشتاد و هفت است ؟

۱۲- محمد ۲ عدد گردو داشت . و تعدادی هم از برادرش گرفت و تعداد گردوهایش ۹ تا شد . محمد

چند عدد گردو از برادرش گرفت ؟

الف) ۶ تا (ب) ۸ تا (ج) ۵ تا (د) ۷ تا



۱۳- در شکل مقابل چندتا مربع می بینید ؟

الف) ۳ تا (ب) ۲ تا (ج) ۱ تا (د) ۴ تا

۱۴- علی ۷ عدد نان داشت . تعدادی از نان های خود را به فقیر داد . حالا او ۴ عدد نان دارد

حساب کنید او چند عدد نان به فقیر بخشیده است ؟

الف) ۴ نان (ب) ۲ نان (ج) ۳ نان (د) ۵ نان

۱۵- در شکل چند ریال می بینید ؟



الف) ۱۴ ریال (ب) ۱۹ ریال (ج) ۲۰ ریال (د) ۲۱ ریال

۱۶- کدام ماده در اطراف ما به هر سه حالت دیده می شود؟

(د) آتش

(ج) آب

(ب) هوا

(الف) خاک

۱۷- کدام آب برای رشد گلدان مقابل مناسب تر است؟



(د) آب صابون

(ج) آب لوله کشی

(ب) آب دریا

(الف) آب نمک

۱۸- کدام یک از وسایل زیر جذب آهن ربا می شود؟



د



ج



ب



الف

۱۹- چه چیز باعث بیماری ما می شود؟

(د) داروها

(ب) گرما (ج) میکروب

(الف) سرما

۲۰- پوست بدن کدام جانور پوشیده از پولک است؟



(د)



(ج)



(ب)



(الف)

۲۱- غذای کدام جانور زیر فقط گیاه است؟



د



ج



ب



الف

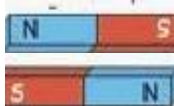
۲۲- کدام آهنرباها به درستی کنار یکدیگر قرار گرفته اند؟



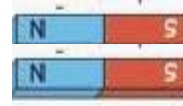
ب



الف

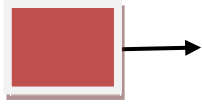


د

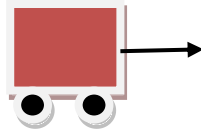


ج

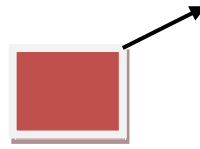
۲۳- حرکت دادن کدام جعبه راحت تر است؟



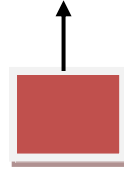
د



ج



ب



الف

۲۴- برای شناختن کدام شکل زیر از بینی استفاده می کنیم؟



د



ج



ب



الف

۲۵- سنگ های مقابل در کجا پیدا می شوند؟



الف) بیابان ب) جنگل ج) رودخانه د) کوهستان

۲۶- چگونه می توان فهمید که داخل این جعبه چیست؟



الف) با بو کردن ب) بادیدن ج) با لمس کردن د) با هر سه مورد

۲۷- کدام مورد زیر به سلامتی دندان هایمان بیشتر کمک می کند؟



د



ج



ب



الف

۲۸- کدام یک از جانوران زیر برای خود لانه می سازد؟

الف) خرگوش ب) پلنگ ج) شیر د) خرس

۲۹- کدام یک از وسایل زیر هم نور و هم گرما دارد؟

الف) اتو ب) چراغ قوه ج) شمع د) تلویزیون

۳۰- کدام خاک آب بیشتری را در خود نگه می دارد؟

الف) خاک بیابان ب) خاک باغچه ج) خاک کنار دریا د) خاک پایین کوه



موفق باشید