

نام و نام خانوادگی :

تاریخ :



ریاضی دوم دبستان فصل‌های ۱ و ۲

۱. حاصل جمع‌ها را با رنگ کردن مربع‌ها به دست آورید.

$5 + 3 + 4 + 7 = \dots\dots\dots$




$7 + 2 + 4 = \dots\dots\dots$

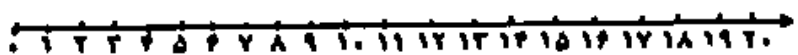


۲. حاصل جمع و تفریق زیر را روی محور نشان دهید :

$50 + 40 - 30 = \dots\dots\dots$




$6 + 8 - 5 = \dots\dots\dots$



۳. با رقم‌های ۶ و ۳ چند عدد دو رقمی می‌توان نوشت ؟ آن‌ها را به ترتیب از کم‌تر به بیشتر بنویس

.....

۴. تا می‌توانید دسته‌های ده تایی جدا کنید و در جاهای خالی عدد مناسب بنویسید :



ده تایی	یکی

با عدد :

با حروف :

۵ - همه‌ی عددهای دو رقمی را که می‌توان با رقم‌های ۲ و ۳ برای یکی‌ها و ۴ و ۵ برای ده تایی‌ها نوشت را پیدا

کنید و از طریق جدول نظام‌دار بنویسید.

ده تایی	یکی	→	○
.....	→	○
.....	→	○
.....	→	○

.....

۶. جواب جمع و تفریق‌ها را به صورت تقریبی به دست آورید :

$51 \rightarrow \dots\dots\dots$

$68 \rightarrow \dots\dots\dots$

$\underline{+ 28} \rightarrow \underline{+} \dots\dots\dots$

$\underline{- 41} \rightarrow \underline{-} \dots\dots\dots$

.....

.....

۷. الگوی عددی زیر را با رسم شکل کامل کنید :

..... و و و ۱۲ و ۶



۸. جمع ها را کامل کن : + = ۶ + = ۶ + = ۶

..... + = ۶ + = ۶ + = ۶

..... + = ۶

۹. حاصل جمع های زیر را به دست آورید :

$$۴۰ + ۷ + ۲۰ + ۵ + ۳۰ + ۵ = \dots\dots\dots$$

$$۵ + ۵ + ۴۰ + ۴ + ۲۰ = \dots\dots\dots$$

۱۰. پریسا ۴۶ دقیقه به نوار قرآن گوش داد و سپس ۳۴ دقیقه روان خوانی آن آیات را تمرین کرد. پریسا چند دقیقه برای قرآن خواندن وقت گذاشته است ؟

۱۱- حاصل جمع ها را با رسم چوب خط پیدا کنید و بنویسید:

$۹ + ۶ = \dots\dots\dots$

$۶ + ۷ + ۵ = \dots\dots\dots$

۱۲- امروز شانزدهم ماه است . ۶ روز قبل چه روزی از ماه بوده است ؟

روی محور نشان

۱۳ . ساعت از چند گذشته و به چند مانده است ؟



ساعت از گذشته است.

ساعت به مانده است.