




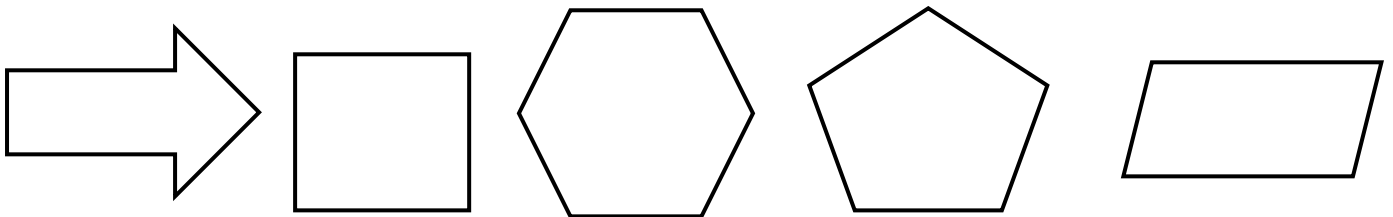


### ریاضی دوم دبستان فصل‌های ۳ و ۴

۱. الگوی شکلی زیر را تا شکل پنجم ادامه بده و در زیر هر شکل الگوی عددی آن را بنویس

			.....	.....
.....	.....	.....	.....	.....
شکل ۱	شکل ۲	شکل ۳	شکل ۴	شکل ۵

۲. دلبندم هر یک از شکل‌های زیر را با کمک خط تقارن به دو قسمت مساوی تقسیم کن.:




۳. با شابلون یک مربع و یک مستطیل بکش و شباهت و تفاوت این دو شکل را بنویسید :

شباهت : .....

تفاوت : .....

۴. ساعت یک ربع مانده به ۵ را روی شکل نشان دهید.



ربع ساعت دیگر ساعت چند می شود ؟ .....

۵. اگر فاطمه ۱۰ تاسکه ی ده ریالی به بانک تحویل بدهد، بانک چند سکه ی ۱۰۰ ریالی به او می دهد ؟

.....

۶. الگوی عددی زیر را ادامه دهید :

..... - ..... - ..... - ۱۳ - ۹ - ۵ - ۱

..... - ..... - ..... - ۱۶ - ۹ - ۴ - ۱

۷. پاسخ سوالات زیر را بنویسید :

عدد ۳۷۵ به ۳۷۰ نزدیک تر است یا به ۳۸۰ ؟ .....  
عدد ۳۱۴ به ..... نزدیک تر است یا به ..... ؟ .....

۸. تمام عدد های سه رقمی را که با کارت های ۸ و ۳ و ۵ می توان نوشت، به گونه ای که جمع رقم ای یکان و صدگان آن برابر رقم دهگان باشد بنویس :

.....

۹. عدد های زیر را با رقم و با حروف بنویس :

۵۰۱ ( ..... )      ۶۹۷ ( ..... )

ششصد و شصت: .....      هفتصد و چهار: .....

۱۰. در یک مسابقه سمانه ۱۰۴ امتیاز داشت. به یک سوال پاسخ نادرست داد و ۷ امتیاز از دست داد. حالا چند امتیاز دارد ؟ .....

۱۱. حاصل جمع و تفریق زیر را با حذف رقم یکان و دهگان به صورت تقریبی بنویس .

۸۹۴ → .....      ۳۹۵ → .....

  ۲۴۷   → .....        ۴۰۶   → .....

۱۲. سه قسمت دیگر شکل را با توجه به خط تقارن کامل کن .

