

نام و نام خانوادگی :

تاریخ :



ریاضی دوم دبستان فصل‌های ۷ و ۸

۱. - در جای خالی عدد مناسب بنویس :

۹			
۷			
	+۸	۱۹	-۶
			۲۷

۲- الگوهای عددی را ادامه بده .

۲۲۴ - ۲۲۶ - ۲۲۸

۵۵۰ - ۵۵۵ - ۵۶۰

۳. برای عبارت های زیر شکل بکش :

۳ تا ۷ تایی می شود

۵ تا ۳ تایی می شود

۴. مشخص کن هر کدام از عدد های زیر زوج است یا فرد ؟

۵۷۴

۶۸۳

۳۴۱

۷۵۶

۴۹۲

۲۱۰

۵. سمانه وضعیت هوایی روزهای مختلف ۴ هفته را یادداشت کرده است.

۸ روز آفتابی - ۶ روز ابری - ۷ روز بارانی - بقیه روزها هم نیمه ابری بود

نمودار وضعیت آب و هوایی را در جدول بنویس و رسم کن.

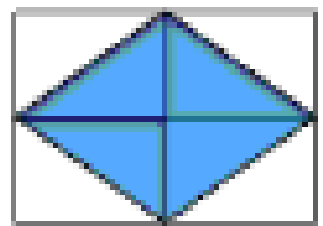




تعداد روز	وضعیت هوا
	آفتابی
	ابر
	بارانی
	نیمه ابری

۶. سارا ۳ دفتر و یک خط کش خرید و ۸۵۰ ریال پول داد. قیمت هر دفتر ۲۰۰ تومان بود.

قیمت خط کش را پیدا کن؟

۷. جمله ها را با نوشتن عدد مناسب کامل کنید و نشان دهید چه بخشی از شکل رنگ شده .



..... قسمت از قسمت

..... قسمت از قسمت

..... قسمت از قسمت

۸. پاسخ پرسش های زیر را بنویس :

عدد ۲۳ را می توان به صورت ده تایی و قسمت از ۱۰ قسمت مساوی بیان کرد .

عدد ۵۷ را می توان به صورت ده تایی و قسمت از ۱۰ قسمت مساوی بیان کرد .

