

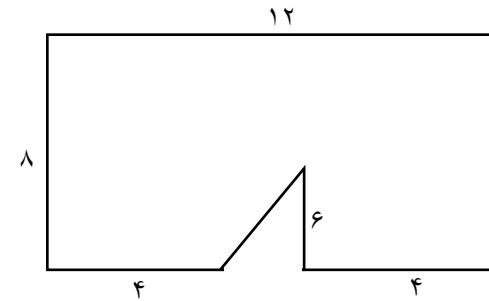
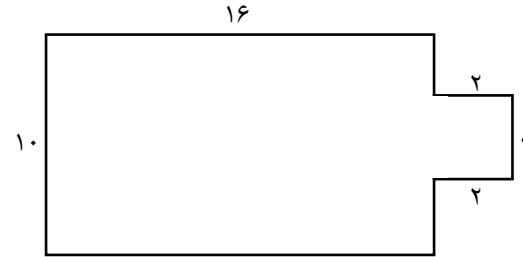
به نام خدا

نام و نام خانوادگی:



موضوع: ریاضی فصل ۶- محیط و مساحت

۱- با تقسیم بندی های مناسب مساحت شکل های زیر را پیدا کنید.



۲- ارتفاع مثلثی ۲۰ سانتی متر و قاعده ی آن ۱۵ سانتی متر است. مساحت آن چند سانتی متر مربع است؟

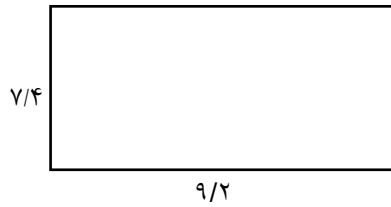
به نام خدا

نام و نام خانوادگی:

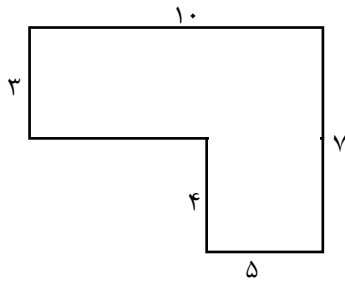


موضوع: ریاضی فصل ۶- محیط و مساحت

۳- می خواهیم دور این مستطیل را ۲ دور سیم کشی کنیم، به چند متر سیم نیاز داریم؟



۴- محیط شکل زیر را به دست آورید.



۵- به سوالات زیر پاسخ دهید.

الف) $7/4$ متر چند سانتی متر است؟

ب) $10/1$ متر چند سانتی متر است؟

پیروز باشید.