

# سؤالات موضوعی نهایی

((هندسه ۲))

پایه دوازدهم رشته می ریاضی و فیزیک

سال تحصیلی ۱۴۰۲-۱۴۰۳

آخرین نسخه: شهریور ۱۴۰۲

# (( فصل اوّل : ماتریس و کاربردها ))

\*\*\*

## درس ۱ : ماتریس و اعمال روی ماتریس ها

### (\* مفهوم ماتریس و ماتریس های خاص

۱	دی ۱۳۹۷	۰/۲۵ نمره
---	---------	-----------

۱ : جای خالی را با عبارت مناسب پر کنید.

هر ماتریس قطری که درایه های روی قطر اصلی آن با هم برابر باشند، را ماتریس ..... می نامند.

۲	تیر ۱۳۹۸	۱ نمره
---	----------	--------

۲ : در ماتریس  $A = [a_{ij}]_{3 \times 3}$  که  $a_{ij} = \begin{cases} i - 2j & i < j \\ -i + j & i \geq j \end{cases}$  می باشد. مجموع درایه های ستون دوم ماتریس  $A$  را

به دست آورید.

۳	دی ۱۳۹۸	۰/۲۵ نمره
---	---------	-----------

۳ : جای خالی را با عبارت مناسب پر کنید.

در ماتریس  $A = [a_{ij}]_{4 \times 3}$  که در آن  $a_{ij} = \frac{2i}{j-1}$  باشد، درایه های واقع در سطر سوم و ستون دوم ماتریس  $A$  برابر

است با : .....

۴	دی ۱۳۹۸	۰/۲۵ نمره
---	---------	-----------

۴ : درستی یا نادرستی عبارت زیر را مشخص کنید.

هر ماتریس اسکالر یک ماتریس قطری است.

۵	خرداد ۱۳۹۹	۰/۲۵ نمره
---	------------	-----------

۵ : جای خالی را با عبارت مناسب پر کنید.

اگر ماتریسی قطری باشد و تمام درایه های روی قطر اصلی با هم برابر باشند، آن را یک ماتریس ..... می نامیم.

سئوالات موضوعی امتحانات نهایی کشوری فصل اول درس هندسه ۳ پایه‌ی دوازدهم رشته‌ی ریاضی فیزیک

۶	خرداد ۱۳۹۹ خارج کشور	۰/۲۵ نمره
---	----------------------	-----------

۶: در جای خالی عبارت ریاضی مناسب قرار دهید.

اگر ماتریس  $A$  فقط از یک سطر تشکیل شده باشد (فقط دارای یک سطر باشد) آنگاه آن را یک ماتریس ..... می‌نامیم.

۷	خرداد ۱۳۹۹ خارج کشور	۰/۲۵ نمره
---	----------------------	-----------

۷: درستی یا نادرستی گزاره‌ی زیر را معلوم کنید.

ماتریس مربعی که تمام درایه‌های غیر واقع بر قطر اصلی آن صفر باشند، ماتریس اسکالر نامیده می‌شود.

۸	شهریور ۱۳۹۹	۰/۲۵ نمره
---	-------------	-----------

۸: جای خالی را با عبارت مناسب پر کنید.

در ماتریس قطری  $A = \begin{bmatrix} ۳ & ۰ \\ m-۱ & ۴ \end{bmatrix}$  مقدار  $m$  برابر ..... است.

۹	دی ۱۳۹۹	۰/۲۵ نمره
---	---------	-----------

۹: اگر  $A = [a_{ij}]$  یک ماتریس  $۳ \times ۳$  با درایه‌های  $i = j$  ۲ باشد، درایه‌های  $a_{۳۳}$  و  $a_{۳۱}$  و  $a_{۱۲}$  را

$$a_{ij} = \begin{cases} i-j & i < j \\ ۲ & i = j \\ i+j & i > j \end{cases}$$

به دست آورید.

۱۰	شهریور ۱۴۰۰	۰/۲۵ نمره
----	-------------	-----------

۱۰: جای خالی را با عبارت مناسب پر کنید.

ماتریس مربعی که همه‌ی درایه‌های غیر واقع بر قطر اصلی آن صفر باشند را ماتریس .... گویند.

۱۱	دی ۱۴۰۰	۰/۲۵ نمره
----	---------	-----------

۱۱: جای خالی را با عبارت مناسب پر کنید.

هر آرایش مستطیلی از اعداد حقیقی، شامل تعداد سطر و ستون ..... نامیده می‌شود.

(\*) ماتریس‌های مساوی

۱	شهریور ۱۳۹۸	۱/۲۵ نمره
---	-------------	-----------

۱: اگر  $A = \begin{bmatrix} ۲x & ۵ \\ z & ۱ \end{bmatrix}$  و  $B = \begin{bmatrix} ۳ & ۲x+y \\ -۲ & ۱ \end{bmatrix}$  و  $A = B$ ، در این صورت حاصل  $x + y + z$  را بیابید.

۲	شهریور ۱۳۹۹	۱/۵ نمره
---	-------------	----------

۲: اگر دو ماتریس  $A = \begin{bmatrix} x-1 & 8 \\ 3 & z+1 \end{bmatrix}$  و  $B = \begin{bmatrix} y+1 & x-2 \\ 3 & 4 \end{bmatrix}$  مساوی باشند. مقدار  $x + y + z$  را بیابید.

۳	دی ۱۴۰۰	۱/۲۵ نمره
---	---------	-----------

۳: اگر  $A = \begin{bmatrix} 2x & 5 \\ z & 1 \end{bmatrix}$  و  $B = \begin{bmatrix} 3 & 2x+y \\ -2 & 1 \end{bmatrix}$  و  $A = B$  در این حاصل  $x + 2y + 3z$  را به دست آورید.

### (\*) اعمال روی ماتریس ها

۱	دی ۱۳۹۷	۰/۲۵ نمره
---	---------	-----------

۱: جای خالی را با یک کلمه ی مناسب پر کنید.

حاصل ضرب ماتریس های خاصیت جابجایی .....

۲	دی ۱۳۹۷	۱ نمره
---	---------	--------

۲: درستی یا نادرستی عبارت های زیر را مشخص کنید.

الف: اگر ماتریس  $A = \begin{bmatrix} 1 & 2 & -2 \\ 1 & 0 & -1 \\ 2 & 1 & 2 \end{bmatrix}$  باشد. مجموع درایه های سطر دوم  $A^3$  برابر ۵ می باشد.

ب: اگر  $A^2 = A$  باشد. در این صورت داریم:  $(A + I)^2 = I + 3A$

۳	دی ۱۳۹۷	۱/۲۵ نمره
---	---------	-----------

۳: اگر ماتریس  $A$  به صورت زیر تعریف شده باشد. ماتریس  $2A - 3I$  را به دست آورید.

$$A = [a_{ij}]_{3 \times 3}, \quad a_{ij} = \begin{cases} i \cdot j & i > j \\ i^2 & i = j \\ 2i - j & i < j \end{cases}$$

۴	دی ۱۳۹۷	۱/۵ نمره
---	---------	----------

۴: اگر ضرب ماتریس های  $A = \begin{bmatrix} x & y \\ 2 & -1 \end{bmatrix}$  و  $B = \begin{bmatrix} 4 & 3 \\ 3 & 4 \end{bmatrix}$  تعویض پذیر باشد.

حاصل  $[x \ 2 \ -y] \times \begin{bmatrix} 3 \\ 2 \\ -x \end{bmatrix}$  را بیابید.

۵	خرداد ۱۳۹۸	۰/۲۵ نمره
---	------------	-----------

۵: درستی یا نادرستی عبارت زیر را مشخص کنید.

اگر برای ماتریس های متمایز  $A$  و  $B$  و  $C$  داشته باشیم،  $AB = AC$  آنگاه لزوماً  $B = C$  است.

سئوالات موضوعی امتحانات نهایی کشوری فصل اول درس هندسه ۳ پایه‌ی دوازدهم رشته‌ی ریاضی فیزیک

نمره ۱/۲۵	خرداد ۱۳۹۸	۶
-----------	------------	---

۶: در معادله‌ی ماتریسی  $\begin{bmatrix} 1 & -2 \\ -3 & 6 \end{bmatrix} \begin{bmatrix} -1 \\ 1 \end{bmatrix} = 0$  مقدار  $x$  را بیابید.

نمره ۱/۵	دی ۱۳۹۸	۷
----------	---------	---

۷: اگر  $A = \begin{bmatrix} 0 & 2 \\ -1 & 0 \end{bmatrix}$  باشد، ماتریس  $A^Y$  را به دست آورید.

نمره ۱/۲۵	دی ۱۳۹۸	۸
-----------	---------	---

۸: ماتریس‌های  $A = \begin{bmatrix} 1 & 0 & 2 \\ 0 & -1 & 1 \\ 2 & 1 & 0 \end{bmatrix}$  و  $B = \begin{bmatrix} a+b & 2 & 2 \\ 2 & 2 & -1 \\ 2 & -1 & 4a+b \end{bmatrix}$  را در نظر بگیرید. مقادیر  $a$  و  $b$  را

چنان بیابید که داشته باشیم:  $A^2 - B = \bar{O}$  (ماتریس صفر است).

نمره ۰/۲۵	خرداد ۱۳۹۹	۹
-----------	------------	---

۹: درستی و نادرستی عبارت زیر را مشخص کنید.

در حالت کلی حاصل ضرب ماتریس‌ها خاصیت جابجایی دارد.

نمره ۱/۲۵	خرداد ۱۳۹۹ خارج کشور	۱۰
-----------	----------------------	----

۱۰: اگر  $A = \begin{bmatrix} 4 & 2 \\ b & -1 \end{bmatrix}$  و  $B = \begin{bmatrix} 2 & -1 \\ 2 & a \end{bmatrix}$ ، مقادیر  $a$  و  $b$  را طوری به دست آورید که حاصل ضرب  $A \times B$

ماتریس قطری باشد.

نمره ۱/۲۵	شهریور ۱۳۹۹	۱۱
-----------	-------------	----

۱۱: معادله‌ی ماتریسی  $\begin{bmatrix} 1 & 0 \\ -1 & 4 \end{bmatrix} \begin{bmatrix} 3 \\ -1 \end{bmatrix} = 0$  را حل کنید.

نمره ۰/۲۵	دی ۱۳۹۹	۱۲
-----------	---------	----

۱۲: جای خالی را با عبارت مناسب پر کنید.

حاصل ضرب ماتریس‌ها، خاصیت جابجایی ..... .

نمره ۰/۲۵	دی ۱۳۹۹	۱۳
-----------	---------	----

۱۳: درستی یا نادرستی عبارات زیر را مشخص کنید.

اگر برای ماتریس‌های متمایز  $A$  و  $B$  و  $C$  داشته باشیم،  $AB = AC$ ، آنگاه لزوماً  $B = C$  است.

۱۴	دی ۱۳۹۹	۱ نمره
----	---------	--------

۱۴: مقادیر  $x$  و  $y$  را از معادله ی زیر به دست آورید.

$$[x \quad 2] \times \begin{bmatrix} 2 & 4 \\ \cdot & -1 \end{bmatrix} = [4 \quad y-2]$$

۱۵	دی ۱۳۹۹	۱ نمره
----	---------	--------

۱۵: اگر  $A = \begin{bmatrix} 4 & a \\ b & -1 \end{bmatrix}$  و  $B = \begin{bmatrix} 1 & -2 \\ 3 & 2 \end{bmatrix}$ ، مقادیر  $a$  و  $b$  را طوری به دست آورید که  $A \times B$  ماتریس قطری

باشد.

۱۶	خرداد ۱۴۰۰	۲۵/۰ نمره
----	------------	-----------

۱۶: درستی و نادرستی عبارات زیر را مشخص کنید.

اگر ماتریس  $A$  و  $B$  دو ماتریس هم مرتبه و  $r$  یک عدد حقیقی و مخالف صفر باشد و  $rA = rB$ ، آنگاه داریم:  $A = B$

۱۷	خرداد ۱۴۰۰	۱ نمره
----	------------	--------

۱۷: دو ماتریس  $A = \begin{bmatrix} 2 & m-2 & \cdot \\ \cdot & 3 & \cdot \\ n+1 & \cdot & 3 \end{bmatrix}$  و  $B = \begin{bmatrix} 2 & 1 & 1 \\ m & \cdot & n \\ 3 & -1 & 2 \end{bmatrix}$  مفروض اند، اگر  $A$  یک ماتریس قطری

باشد، حاصل  $AB$  را محاسبه کنید.

۱۸	شهریور ۱۴۰۰	۲۵/۰ نمره
----	-------------	-----------

۱۸: درستی یا نادرستی عبارت زیر را مشخص کنید.

اگر  $A$  و  $B$  دو ماتریس  $3 \times 3$  دلخواه باشند، آنگاه عبارت  $(A+B)^2 = A^2 + 2AB + B^2$  همواره برقرار است.

۱۹	شهریور ۱۴۰۰	۱/۵ نمره
----	-------------	----------

۱۹: اگر  $A = \begin{bmatrix} 4 & a \\ b & -1 \end{bmatrix}$  و  $B = \begin{bmatrix} 1 & -2 \\ 3 & 2 \end{bmatrix}$  باشد، مقادیر  $a$  و  $b$  را طوری به دست آورید که حاصل ضرب  $A \times B$  ماتریس قطری باشد.



درس ۲: وارون ماتریس و دترمینان

(\*) دترمینان

۱	دی ۱۳۹۷	۰/۷۵ نمره
---	---------	-----------

۱: اگر  $A$  ماتریس  $3 \times 3$  باشد و  $|A| = -2$ . حاصل  $|A|.A|$  را بیابید.

۲	خرداد ۱۳۹۸	۱ نمره
---	------------	--------

۲: اگر  $A = \begin{bmatrix} 2 & 3 & 4 \\ 0 & 2 & 3 \\ 0 & 1 & 2 \end{bmatrix}$  باشد، حاصل  $|A^3|$  را محاسبه کنید.

۳	تیر ۱۳۹۸	۰/۲۵ نمره
---	----------	-----------

۳: جای خالی را با عبارت مناسب پر کنید.

دترمینان هر ماتریس قطری برابر است با حاصل ضرب ..... .

۴	تیر ۱۳۹۸	۱ نمره
---	----------	--------

۴: اگر  $A$  ماتریس  $3 \times 3$  باشد و  $|A| = 2$ . حاصل  $|\frac{1}{|A|}A|$  را بیابید.

۵	شهریور ۱۳۹۸	۰/۲۵ نمره
---	-------------	-----------

۵: جای خالی را با عبارت مناسب پر کنید.

اگر  $A = \begin{bmatrix} 2 & 0 & 0 \\ 0 & -3 & 0 \\ 0 & 0 & 5 \end{bmatrix}$  باشد، مقدار  $|A|$  برابر است با .....

۶	شهریور ۱۳۹۸	۲ نمره
---	-------------	--------

۶: اگر ماتریس  $A = [a_{ij}]_{3 \times 3}$  که  $a_{ij} = \begin{cases} i^2 - 1 & i = j \\ i - j & i > j \\ j - i & i < j \end{cases}$  و  $B = \begin{bmatrix} 2 & 1 & 0 \\ -1 & 3 & 2 \\ 2 & 0 & 5 \end{bmatrix}$  باشد.

الف) حاصل ماتریس  $A \times B$  را به دست آورید.

ب) دترمینان ماتریس  $B$  را به دست آورید.

۷	دی ۱۳۹۸	۰/۲۵ نمره
---	---------	-----------

۷: جای خالی را با عبارت مناسب پر کنید.

اگر  $A = \begin{bmatrix} -2 & 0 & 0 \\ -1 & 4 & 0 \\ 0 & 1 & -1 \end{bmatrix}$  باشد، مقدار  $| -A |$  برابر است با .....

۸	دی ۱۳۹۸	۱/۲۵ نمره
---	---------	-----------

۸: اگر  $A = \begin{bmatrix} 2 & 4 & 1 \\ -1 & 3 & 2 \end{bmatrix}$  و  $B = \begin{bmatrix} 1 & -1 \\ 0 & 1 \\ 2 & 3 \end{bmatrix}$  دو ماتریس باشند. دترمینان ماتریس  $BA$  را بدست آورید.

۹	خرداد ۱۳۹۹	۰/۲۵ نمره
---	------------	-----------

۹: درستی و نادرستی عبارت زیر را مشخص کنید.

اگر  $A$  یک ماتریس  $3 \times 3$  و  $|A| = 2$  باشد، آنگاه  $|2A| = 16$  است.

۱۰	خرداد ۱۳۹۹	۱/۷۵ نمره
----	------------	-----------

۱۰: دو ماتریس  $A = \begin{bmatrix} 2 & m-2 \\ n+1 & 1 \end{bmatrix}$  و  $B = \begin{bmatrix} 2 & 1 & 1 \\ m & 0 & n \\ 3 & -1 & 2 \end{bmatrix}$  مفروض اند. اگر  $A$  یک ماتریس قطری باشد،

حاصل  $|A| + |B|$  را محاسبه کنید.

۱۱	خرداد ۱۳۹۹ خارج کشور	۰/۷۵ نمره
----	----------------------	-----------

۱۱: اگر  $A = \begin{bmatrix} -1 & 0 & 0 \\ 0 & 2 & 2 \\ -4 & 4 & 5 \end{bmatrix}$ ، در این صورت حاصل  $|A|A$  را بیابید.

۱۲	شهریور ۱۳۹۹	۰/۲۵ نمره
----	-------------	-----------

۱۲: جای خالی را با عبارت مناسب پر کنید.

اگر  $A$  یک ماتریس  $3 \times 3$  و  $|A| = 5$  باشد، آنگاه  $|\frac{1}{4}A|$  برابر ..... است.

۱۳	شهریور ۱۳۹۹	۱/۵ نمره
----	-------------	----------

۱۳: اگر  $A = \begin{bmatrix} 2 & 1 & -1 \\ 0 & 1 & -2 \\ 0 & 3 & 4 \end{bmatrix}$  و  $B = \begin{bmatrix} 3 & 1 & 0 \\ 0 & -1 & 0 \\ 0 & 3 & 2 \end{bmatrix}$  باشند، حاصل  $|A| + |B^2|$  را بیابید.

۱۴	شهریور ۱۳۹۹	۲ نمره
----	-------------	--------



۱۴: اگر  $A = \begin{bmatrix} 0 & 4 \\ 2 & 1 \end{bmatrix}$  باشد، مقادیر  $m$  و  $n$  را طوری بیابید که رابطه‌ی  $A^2 = mA + nI_2$  برقرار باشد.

( $I_2$  ماتریس همانی است.)

۱۵	دی ۱۳۹۹	۱/۲۵ نمره
----	---------	-----------

۱۵: اگر  $A = \begin{bmatrix} 2 & 3 & 2 \\ 1 & 2 & 3 \\ -1 & -2 & 1 \end{bmatrix}$  و  $B = \begin{bmatrix} 3 & 0 & 0 \\ 0 & -1 & 0 \\ 0 & 0 & 2 \end{bmatrix}$  و  $I_3$  ماتریس همانی  $3 \times 3$  باشد، حاصل عبارت زیر را به

دست آورید.

$$|A + B| + |2I_3| =$$

۱۶	خرداد ۱۴۰۰	۰/۲۵ نمره
----	------------	-----------

۱۶: جای خالی را با عدد یا عبارت مناسب پر کنید.

اگر ماتریس  $\begin{bmatrix} 2 & 0 & f \\ 0 & a & 0 \\ e & c & b \end{bmatrix}$  اسکالر باشد، حاصل دترمینان ماتریس برابر ..... است.

۱۷	شهریور ۱۴۰۰	۱/۷۵ نمره
----	-------------	-----------

۱۷: دو ماتریس  $A = \begin{bmatrix} -1 & 1 \\ 0 & 2 \\ -2 & 3 \end{bmatrix}$  و  $B = \begin{bmatrix} 1 & -1 & 0 \\ -2 & 3 & -2 \end{bmatrix}$  را در نظر بگیرید.

الف: آیا جمع دو ماتریس  $A$  و  $B$  تعریف می‌شود؟ چرا؟

ب: حاصل  $|A \times B|$  را به دست آورید.

۱۸	دی ۱۴۰۰	۰/۲۵ نمره
----	---------	-----------

۱۸: درستی و نادرستی عبارت زیر را مشخص کنید.

اگر  $A$  و  $B$  دو ماتریس  $2 \times 2$  باشند، آنگاه  $|AB| = |A| |B|$

۱۹	دی ۱۴۰۰	۲ نمره
----	---------	--------

۱۹: اگر  $A = [2i - 3j]_{3 \times 2}$  و  $B_{2 \times 3} = \begin{cases} -1 & i \neq j \\ 0 & i = j \end{cases}$  باشد، دترمینان ماتریس  $AB$  را به دست آورید.

۲۰	دی ۱۴۰۰	۰/۷۵ نمره
----	---------	-----------

۲۰: اگر  $A$  ماتریس  $3 \times 3$  و  $|A| = 4$  باشد. دترمینان ماتریس  $A \times A$  را به دست آورید.

**(\*) وارون ماتریس**

۱	خرداد ۱۳۹۸	۰/۲۵ نمره
---	------------	-----------

۱: جای خالی را با عبارت مناسب پر کنید.

شرط لازم و کافی برای اینکه ماتریس مربعی  $A$  وارون پذیر باشد، آن است که دترمینان ماتریس  $A$  ..... باشد.

۲	شهریور ۱۳۹۸	۰/۷۵ نمره
---	-------------	-----------

۲: مقدار  $m$  را طوری بیابید که ماتریس  $A = \begin{bmatrix} m & 4 \\ 1 & 2 \end{bmatrix}$  وارون پذیر نباشد.

۳	خرداد ۱۳۹۹	۰/۲۵ نمره
---	------------	-----------

۳: جای خالی را با عبارت مناسب پر کنید.

اگر  $A = \begin{bmatrix} a & 8 \\ 3 & -4 \end{bmatrix}$  وارون پذیر نباشد، مقدار  $a$  برابر ..... است.

۴	خرداد ۱۳۹۹	۱/۲۵ نمره
---	------------	-----------

۴: الف: اگر  $A = \begin{bmatrix} |A| & 8 \\ 3 & 5 \end{bmatrix}$  در این صورت حاصل  $|A|$  را بیابید.

ب: ماتریس وارون  $A$  را حساب کنید.

۵	خرداد ۱۴۰۰	۱/۵ نمره
---	------------	----------

۵: اگر  $2A = \begin{bmatrix} |A| & -4 \\ 1 & |A| \end{bmatrix}$  باشد، در این حاصل  $|A^{-1}|$  را بیابید.

۶	شهریور ۱۴۰۰	۱ نمره
---	-------------	--------

۶: ماتریس  $A^{-1} = \begin{bmatrix} 2 & -1 \\ 2 & 3 \end{bmatrix}$  مفروض است، ماتریس  $A$  را به دست آورید.

**(\*) حل دستگاه معادلات**

۱	دی ۱۳۹۷	۱ نمره
---	---------	--------

۱: دستگاه زیر به ازای چه مقادیر  $m$  دارای جواب منحصر به فرد می باشد.

$$\begin{cases} (m-3)x + 3y = m \\ 4x + (m+1)y = 2 \end{cases}$$

سئوالات موضوعی امتحانات نهایی کشوری فصل اول درس هندسه ۳ پایه‌ی دوازدهم رشته‌ی ریاضی فیزیک

نمره ۱/۲۵	خرداد ۱۳۹۸	۲
-----------	------------	---

۲: مقدار  $m$  را چنان بیابید که دستگاه  $\begin{cases} mx + 3y = -3 \\ 4x + (m + 4)y = 2 \end{cases}$  جواب نداشته باشد.

نمره ۰/۲۵	تیر ۱۳۹۸	۳
-----------	----------	---

۳: درستی یا نادرستی عبارت زیر را مشخص کنید.

در دستگاه  $\begin{cases} ax + by = c \\ a'x + b'y = c' \end{cases}$ ، اگر داشته باشیم  $\frac{a}{a'} = \frac{b}{b'} = \frac{c}{c'}$  در این حالت دستگاه هیچ جوابی ندارد.

نمره ۱/۵	تیر ۱۳۹۸	۴
----------	----------	---

۴: دستگاه دو معادله دو مجهولی زیر را به روش ماتریس وارون حل کنید.

$$\begin{cases} 3x + 2y = 4 \\ x - y = 3 \end{cases}$$

نمره ۰/۲۵	شهریور ۱۳۹۸	۵
-----------	-------------	---

۵: درستی یا نادرستی عبارت زیر را مشخص کنید.

در دستگاه  $\begin{cases} ax + by = c \\ a'x + b'y = c' \end{cases}$ ، اگر  $A = \begin{bmatrix} a & b \\ a' & b' \end{bmatrix}$  ماتریس ضرایب باشد و  $|A| \neq 0$ ، در این حالت دستگاه هیچ جوابی ندارد.

نمره ۱/۵	شهریور ۱۳۹۸	۶
----------	-------------	---

۶: دستگاه  $\begin{cases} 3x - 4y = 1 \\ -x + 2y = 1 \end{cases}$  را با استفاده از ماتریس وارون حل کنید.

نمره ۱/۲۵	دی ۱۳۹۸	۷
-----------	---------	---

۷: جواب دستگاه زیر را در صورت وجود با استفاده از ماتریس وارون بیابید.

$$\begin{cases} 3x - 5y = -1 \\ 2x + y = 8 \end{cases}$$

نمره ۱/۲۵	خرداد ۱۳۹۹	۸
-----------	------------	---

۸: در تساوی  $\begin{bmatrix} 2 & 4 \\ 1 & 2 \end{bmatrix} \begin{bmatrix} 2 \\ 1 \end{bmatrix} = 0$  مقدار  $x$  را بیابید.

سؤالات موضوعی امتحانات نهایی کشوری فصل سوم درس هندسه ۳ پایه ی دوازدهم رشته ی ریاضی فیزیک

۲ نمره	۱۳۹۹ خرداد	۹
--------	------------	---

الف :  $m$  را طوری بیابید که دستگاه معادلات  $\begin{cases} 2mx + 3y = 1 \\ 2x - y = 3 \end{cases}$  دارای جواب منحصر بفرد باشد.

ب : جواب دستگاه مذکور را به ازای  $m = 2$  با استفاده از ماتریس وارون محاسبه کنید.

۱/۵ نمره	۱۳۹۹ خرداد خارج کشور	۱۰
----------	----------------------	----

۱۰ : دستگاه معادلات خطی تشکیل دهید که  $A = \begin{bmatrix} 3 & -5 \\ 4 & 2 \end{bmatrix}$  ماتریس ضرایب دستگاه بوده و  $B = \begin{bmatrix} 1 \\ 10 \end{bmatrix}$  ماتریس

معلومات آن باشد و سپس جواب دستگاه را با استفاده از  $A^{-1}$  بیابید.

۰/۲۵ نمره	۱۳۹۹ شهریور	۱۱
-----------	-------------	----

۱۱ : درستی یا نادرستی عبارت زیر را مشخص کنید.

الف : در دستگاه  $\begin{cases} ax + by = c \\ a'x + b'y = c' \end{cases}$  ، اگر  $\frac{a}{a'} = \frac{b}{b'} = \frac{c}{c'}$  باشد، دستگاه جواب منحصر بفرد دارد.

۲ نمره	۱۳۹۹ شهریور	۱۲
--------	-------------	----

۱۲ : به ازای چه مقداری از  $m$  دستگاه معادلات  $\begin{cases} x - 2y = 3 \\ mx + 6y = -4 \end{cases}$  فاقد جواب است؟

ب : دستگاه معادلات  $\begin{cases} x - 2y = 3 \\ 2x + 6y = -4 \end{cases}$  را با استفاده از  $A^{-1}$  حل کنید.

۱/۵ نمره	۱۳۹۹ دی	۱۳
----------	---------	----

۱۳ : دستگاه مقابل را با استفاده از  $A^{-1}$  حل کنید.

$$\begin{cases} 3x - 5y = -1 \\ 2x + y = 8 \end{cases}$$

۱ نمره	۱۴۰۰ خرداد	۱۴
--------	------------	----

۱۴ : جواب دستگاه زیر را در صورت وجود، با استفاده از ماتریس وارون بیابید.

$$\begin{cases} 3x - 4y = 7 \\ 2x + y = 1 \end{cases}$$

۱/۲۵ نمره	۱۴۰۰ شهریور	۱۵
-----------	-------------	----

۱۵ : مقدار  $m$  را طوری بیابید که دستگاه معادلات خطی  $\begin{cases} 2x + my = 1 \\ (m-1)x + y = 3 \end{cases}$  جواب نداشته باشد.

۱۶: اگر ماتریس  $A$  را ماتریس ضرایب و  $X$  را ماتریس مجهولات و  $B$  را ماتریس معلومات دستگاه دو معادله و دو

مجهولی  $\begin{cases} 2x - y = 4 \\ -4x + 3y = 2 \end{cases}$  در نظر بگیریم. از تساوی  $AX = B$  ماتریس  $X$  را به دست آورید.



# (( فصل دوّم : آشنایی با مقاطع مخروطی ))

## درس ۱: آشنایی با مقاطع مخروطی

### (\*) مقاطع مخروطی

۱	دی ۱۳۹۷	۰/۲۵ نمره
---	---------	-----------

۱: درستی یا نادرستی عبارت زیر را مشخص کنید.

صفحه‌ای با مولد سطح مخروطی دواری، موازی است و از رأس آن عبور نمی‌کند. فصل مشترک صفحه و سطح مخروطی، یک بیضی است.

۲	خرداد ۱۳۹۸	۰/۲۵ نمره
---	------------	-----------

۲: درستی یا نادرستی عبارت زیر را مشخص کنید.

در حالتی که صفحه‌ی  $P$  بر محور سطح مخروطی عمود نباشد و با مولد آن ( $d$ ) نیز موازی نباشد و تنها یکی از دو نیمه‌ی مخروط را قطع کند. فصل مشترک حاصل یک بیضی خواهد بود.

۳	شهریور ۱۳۹۸	۰/۲۵ نمره
---	-------------	-----------

۳: درستی یا نادرستی عبارت زیر را مشخص کنید.

در حالتی که صفحه‌ی  $P$  بر محور سطح مخروطی  $l$  عمود باشد و از رأس عبور نکند، فصل مشترک حاصل یک دایره خواهد بود.

۴	خرداد ۱۳۹۹ خارج کشور	۰/۲۵ نمره
---	----------------------	-----------

۴: در جای خالی عبارت ریاضی مناسب قرار دهید.

در حالتی که صفحه‌ی  $P$  بر محور سطح مخروطی  $L$  عمود باشد و از رأس آن عبور کند، شکل حاصل یک ..... خواهد بود.

۵	دی ۹۹	۰/۲۵ نمره
---	-------	-----------

۵: جای خالی را با عبارت مناسب پر کنید.

در حالتی که صفحه‌ی  $P$  بر محور سطح مخروطی عمود نباشد و با مولد آن نیز موازی نباشد و تنها یکی از دو نیمه‌ی مخروط را قطع کند. فصل مشترک حاصل یک ..... خواهد بود.

سئوالات موضوعی امتحانات نهایی کشوری فصل دوم درس هندسه ۳ پایه ی دوازدهم رشته ی ریاضی فیزیک

۶	خرداد ۱۴۰۰	۰/۲۵ نمره
---	------------	-----------

۶: جای خالی را با عدد یا عبارت مناسب پر کنید.

اگر صفحه ی  $P$  یا مولد ( $d$ ) موازی باشد و از رأس سطح مخروطی عبور کند. در این صورت فصل مشترک صفحه ی  $P$  و سطح مخروطی یک ..... است.

۷	شهریور ۱۴۰۰	۰/۲۵ نمره
---	-------------	-----------

۷: اگر صفحه ی  $P$  به گونه ای باشد که هر دو تکه ی بالایی و پایینی سطح مخروطی را قطع کند و شامل محور باشد، در این صورت فصل مشترک صفحه ی  $P$  و سطح مخروطی یک هذلولی است.

۸	دی ۱۴۰۰	۰/۲۵ نمره
---	---------	-----------

۸: درستی و نادرستی عبارت زیر را مشخص کنید.

در حالتی که صفحه ی  $P$  بر محور سطح مخروطی ( $l$ ) عمود باشد و از رأس آن عبور نکند، فصل مشترک حاصل یک دایره خواهد بود.

(\*) مکان هندسی

۱	دی ۱۳۹۷	۰/۲۵ نمره
---	---------	-----------

۱: درستی یا نادرستی عبارت زیر را مشخص کنید.

مکان هندسی نقاطی که از دو خط متقاطع  $d$  و  $d'$  به یک فاصله اند. نیمساز زاویه ی بین آن دو خط می باشد.

۲	خرداد ۱۳۹۸	۰/۲۵ نمره
---	------------	-----------

۲: جای خالی را با عبارت مناسب کامل کنید.

مکان هندسی، مجموعه ی نقاطی از صفحه (یا فضا) است که همه ی آنها یک ..... داشته باشند و همچنین هر نقطه که آن ویژگی را داشته باشد، عضو این مجموعه باشد.

۳	تیر ۱۳۹۸	۰/۲۵ نمره
---	----------	-----------

۳: جای خالی را با عبارت مناسب پر کنید.

مکان هندسی نقاطی که مجموع فواصلشان از دو نقطه ی ثابت، یک مقدار ثابت باشد، یک ..... است.

۴	تیر ۱۳۹۸	۱/۵ نمره
---	----------	----------

۴: دو نقطه ی  $A$  و  $B$  و خط  $d$  که شامل هیچ یک نیست در صفحه مفروض اند، نقطه ای بیابید که از  $A$  و  $B$  به یک فاصله بوده و از  $d$  به فاصله ی ۳ سانتی متر باشد. (پیرامون وجود جواب بحث کنید).

۵	شهریور ۱۳۹۸	۱/۵ نمره
---	-------------	----------

سؤالات موضوعی امتحانات نهایی کشوری فصل سوم درس هندسه ۳ پایه ی دوازدهم رشته ی ریاضی فیزیک

۵: نقاط  $A$  و  $B$  و  $C$  در صفحه مفروض اند. نقطه ای بیابید که از  $A$  و  $B$  به یک فاصله و از نقطه ی به فاصله ی ۳ سانتی متر باشد. (در مورد تعداد نقاط در حالت های مختلف بحث کنید).

۶	دی ۱۳۹۸	۱/۵ نمره
---	---------	----------

۶: نقاط  $A$  و  $B$  و  $C$  در صفحه مفروضند. نقطه ای بیابید که از  $A$  و  $B$  به یک فاصله بوده و از  $C$  به فاصله ی ۳ سانتی باشد. (پیرامون جواب مسئله بحث کنید).

۷	خرداد ۱۳۹۹	۰/۲۵ نمره
---	------------	-----------

۷: درستی و نادرستی عبارت زیر را مشخص کنید.

مکان هندسی مرکز همه ی دایره هایی با شعاع ثابت  $r$  که بر دایره ی  $C(O, r)$  در صفحه ی این دایره مماس خارج اند، دایره ی  $C'(O, 2r)$  است.

۸	خرداد ۱۳۹۹	۱/۵ نمره
---	------------	----------

۸: نقاط  $A$  و  $B$  و  $C$  و  $D$  در صفحه مفروض اند، نقطه ای در این صفحه بیابید که از  $A$  و  $B$  به یک فاصله و از  $C$  و  $D$  نیز به یک فاصله باشد. (بحث کنید).

۹	خرداد ۱۳۹۹ خارج کشور	۰/۲۵ نمره
---	----------------------	-----------

۹: درستی یا نادرستی گزاره ی زیر را معلوم کنید.

مکان هندسی مرکزهای همه ی دایره هایی با شعاع ثابت  $r$  که بر خط  $d$  در صفحه مماس اند، دو خط به موازات  $d$  و به فاصله ی  $r$  از  $d$  است.

۱۰	شهریور ۱۳۹۹	۰/۵ نمره
----	-------------	----------

۱۰: درستی یا نادرستی عبارات زیر را مشخص کنید.

الف: مکان هندسی، مجموعه ی نقاطی از صفحه (یا فضا) است که همه ی آنها یک ویژگی مشترک داشته باشند و همچنین هر نقطه که آن ویژگی را داشته باشد عضو این مجموعه باشد.

ب: هرگاه صفحه ی  $P$  بر محور سطح مخروطی عمود باشد و از رأس آن عبور نکند، شکل حاصل یک دایره است.

۱۱	دی ۱۳۹۹	۰/۲۵ نمره
----	---------	-----------

۱۱: درستی یا نادرستی عبارت زیر را مشخص کنید.

مکان هندسی نقاطی از صفحه که از دو خط متقاطع  $d$  و  $d'$  به یک فاصله اند، نیمساز زاویه ی بین آن دو خط می باشد.



سئالات موضوعی امتحانات نهایی کشوری فصل دوم درس هندسه ۳ پایه ی دوازدهم رشته ی ریاضی فیزیک

۱/۵ نمره	دی ۱۳۹۹	۱۲
----------	---------	----

۱۲: نقطه ی  $A$  و خط  $d$  در صفحه ی مفروض اند. نقطه ای را بیابید که از  $A$  به فاصله ی ۲ سانتی متر و از خط  $d$  به فاصله ی ۳ سانتی متر باشد. در مورد روش حل بحث کنید.

۰/۲۵ نمره	خرداد ۱۴۰۰	۱۳
-----------	------------	----

۱۳: درستی و نادرستی عبارت زیر را مشخص کنید.  
مکان هندسی مرکزهای همه ی دایره هایی در صفحه که بر خط  $d$  در نقطه ی ثابت  $A$  مماس اند، یک نیم خط عمود بر خط  $d$  در نقطه ی  $A$  است.

۰/۲۵ نمره	شهریور ۱۴۰۰	۱۴
-----------	-------------	----

۱۴: جای خالی را با عبارت مناسب پر کنید.  
مکان هندسی، مجموعه ی نقاطی از صفحه یا فضا است که همه ی آنها یک ویژگی ..... داشته باشند و همچنین هر نقطه که آن ویژگی را داشته باشد، عضو این مجموعه باشد.

۰/۲۵ نمره	دی ۱۴۰۰	۱۵
-----------	---------	----

۱۵: جای خالی را با عبارت مناسب پر کنید.  
مکان هندسی، مجموعه ی نقاطی از صفحه (یا فضا) است که همه ی آنها یک ویژگی ..... داشته باشند و همچنین هر نقطه که ویژگی را داشته باشد، عضو این مجموعه باشد.



درس ۲: دایره

(\*) دایره

۱/۵ نمره	دی ۱۳۹۷	۱
----------	---------	---

۱: معادله ی دایره ای را بنویسید که نقاط  $A(۴, -۱)$  و  $B(-۲, ۱)$  دو سر قطری از آن باشند.

۱ نمره	دی ۱۳۹۷	۲
--------	---------	---

۲: حدود  $a$  را طوری به دست آورید که  $x^2 + y^2 - 3x + 5y + a = 0$  بتواند معادله ی یک دایره باشد.

۱/۷۵ نمره	دی ۱۳۹۷	۳
-----------	---------	---

۳: دایره های  $x^2 + y^2 - 2x = 4$  و  $x^2 + y^2 = 4$  نسبت به هم چه وضعی دارند؟

۱/۵ نمره	خرداد ۱۳۹۸	۴
----------	------------	---

۴: معادله‌ی دایره‌ی ای را بنویسید که خطوط  $x + y = 1$  و  $x - y = 3$  شامل قطرهایی از آن بوده و خط  $4x + 3y = -5$  بر آن مماس باشد.

۵	خرداد ۱۳۹۸	۱ نمره
---	------------	--------

۵: از نقطه‌ی  $A(2,3)$  روی دایره‌ی  $x^2 + y^2 - 2x - 2y = 3$  مماسی بر دایره رسم کرده ایم. معادله‌ی این خط مماس را به دست آورید.

۶	تیر ۱۳۹۸	۱/۵ نمره
---	----------	----------

۶: دایره‌های  $x^2 + y^2 = 1$  و  $x^2 + y^2 - 6x - 2y + 9 = 0$  نسبت به هم چه وضعی دارند؟

۷	شهریور ۱۳۹۸	۱ نمره
---	-------------	--------

۷: معادله‌ی دایره‌ی ای را بنویسید که نقطه‌ی  $O(-2,3)$  مرکز آن و  $M(1,-1)$  یک نقطه از آن باشد.

۸	شهریور ۱۳۹۸	۱/۲۵ نمره
---	-------------	-----------

۸: وضعیت خط  $x + y = 2$  و دایره‌ی  $x^2 + y^2 = 2$  را نسبت به هم مشخص کنید.

۹	دی ۱۳۹۸	۰/۲۵ نمره
---	---------	-----------

۹: درستی یا نادرستی عبارت زیر را مشخص کنید.

معادله‌ی ضمنی  $x^2 + y^2 + ax + by + c = 0$  معادله‌ی یک دایره است، اگر و تنها اگر  $a^2 + b^2 < 4c$  باشد.

۱۰	دی ۱۳۹۸	۱/۵ نمره
----	---------	----------

۱۰: معادله‌ی دایره‌ی ای را بنویسید که مرکز آن  $O(2,-2)$  بوده و بر دایره‌ی  $x^2 + y^2 + 2x - 4y = 4$  مماس خارج باشد.

۱۱	دی ۱۳۹۸	۱/۲۵ نمره
----	---------	-----------

۱۱: وضعیت خط  $3x + y = 0$  را نسبت به دایره‌ی  $x^2 + y^2 - 4x - 4y + 7 = 0$  مشخص کنید.

۱۲	خرداد ۱۳۹۹	۱/۲۵ نمره
----	------------	-----------

۱۲: معادله‌ی دایره‌ی ای را بنویسید که  $O(-1,-1)$  مرکز آن بوده و روی خط  $2x + y = 2$  وترى به طول ۴ ایجاد کند.

۱۳	خرداد ۱۳۹۹	۱ نمره
----	------------	--------

۱۳: وضعیت نقطه‌ی  $A(1,-2)$  نسبت به دایره‌ی  $x^2 + y^2 - 2x + 2y = 0$  را تعیین کنید.

۱۴	خرداد ۱۳۹۹ خارج کشور	۱/۵ نمره
----	----------------------	----------

۱۴: معادله ی دایره ای را بنویسید که  $O(0,1)$  مرکز آن بوده و روی خط به معادله ی  $x + y = 2$  و تری به طول  $2\sqrt{2}$  جدا کند.

۱۵	خرداد ۱۳۹۹ خارج کشور	۱ نمره
----	----------------------	--------

۱۵: وضعیت دو دایره ی  $x^2 + y^2 - 2x = 4$  و  $x^2 + y^2 = 4$  را نسبت به هم مشخص کنید.

۱۶	شهریور ۱۳۹۹	۰/۲۵ نمره
----	-------------	-----------

۱۶: درستی یا نادرستی عبارت زیر را مشخص کنید.

رابطه ی  $x^2 + y^2 - 2x - 4y + 10 = 0$  معادله ی یک دایره است.

۱۷	شهریور ۱۳۹۹	۱/۲۵ نمره
----	-------------	-----------

۱۷: معادله ی دایره ای را بنویسید که  $O(3,1)$  مرکز آن بوده و بر خط به معادله ی  $4x + 3y + 5 = 0$  مماس باشد.

۱۸	شهریور ۱۳۹۹	۱/۲۵ نمره
----	-------------	-----------

۱۸: وضعیت خط  $x - y - 1 = 0$  و دایره ی  $x^2 + y^2 - 2x + 4y + 3 = 0$  را نسبت به هم مشخص کنید.

۱۹	شهریور ۱۳۹۹	۲ نمره
----	-------------	--------

۱۹: معادله ی دایره ای را بنویسید که مرکز آن  $O(0,1)$  باشد و با دایره به معادله ی

$$x^2 + y^2 - 8x + 4y + 16 = 0$$

مماس داخل باشد.

۲۰	دی ۱۳۹۹	۰/۲۵ نمره
----	---------	-----------

۲۰: درستی یا نادرستی عبارات زیر را مشخص کنید.

نقطه ی  $(3, -2)$  روی دایره ی  $x^2 + y^2 + 2x = 0$  قرار دارد.

۲۱	دی ۱۳۹۹	۱/۲۵ نمره
----	---------	-----------

۲۱: معادله ی دایره ای را بنویسید که خطوط  $x + y = 1$  و  $x - y = 3$  شامل قطرهایی از آن بوده و خط

$4x + 3y = -5$  بر آن مماس باشد.

۲۲	دی ۱۳۹۹	۲ نمره
----	---------	--------

۲۲: وضعیت دو دایره ی  $(x-1)^2 + y^2 = 1$  و  $x^2 + (y-1)^2 = 1$  را نسبت به هم مشخص کنید.

۲۳	خرداد ۱۴۰۰	۱ نمره
----	------------	--------

۲۳: معادله دایره ای را بنویسید که مرکز آن  $O(2,1)$  بوده و بر خط  $3x + 4y = -5$  مماس باشد.

۱/۵ نمره	۱۴۰۰ خرداد	۲۴
----------	------------	----

۲۴: وضعیت دایره  $x^2 + y^2 - 6x - 2y + 9 = 0$  با دایره ای به مرکز مبدأ مختصات و شعاع یک را نسبت به هم مشخص کنید.

۰/۲۵ نمره	۱۴۰۰ شهریور	۲۵
-----------	-------------	----

۲۵: نقطه  $(3, -2)$  روی دایره  $x^2 + y^2 + 2x = 0$  قرار دارد.

۱/۵ نمره	۱۴۰۰ شهریور	۲۶
----------	-------------	----

۲۶: معادله دایره ای را بنویسید که  $O(0,1)$  مرکز آن بوده و روی خط به معادله  $x + y = 2$  وترى به طول  $2\sqrt{2}$  جدا کند.

۱ نمره	۱۴۰۰ شهریور	۲۷
--------	-------------	----

۲۷: در نقطه  $A(2,3)$  روی دایره  $x^2 + y^2 - 2x - 2y = 3$  مماسی بر آن رسم کرده ایم. معادله این خط مماس را به دست آورید.

۱ نمره	۱۴۰۰ دی	۲۸
--------	---------	----

۲۸: معادله دایره ای را بنویسید که مرکز آن  $O(2,3)$  بوده و  $M(1,1)$  یک نقطه از آن باشد.

۱/۵ نمره	۱۴۰۰ دی	۲۹
----------	---------	----

۲۹: در نقطه  $A(2,3)$  روی دایره به معادله  $x^2 + y^2 - 2x - 2y = 3$  مماسی بر دایره رسم کرده ایم، معادله این خط مماس را به دست آورید.

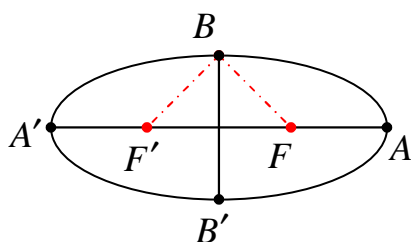


### درس ۳: بیضی و سهمی

#### (\*) بیضی

۱/۵ نمره	۱۳۹۷ دی	۱
----------	---------	---

۱: در بیضی شکل مقابل طول قطر بزرگ دو برابر طول قطر



کوچک باشد، اندازه زاویه  $FBF'$  را تعیین کنید.

۲	دی ۱۳۹۷	۱/۵ نمره
---	---------	----------

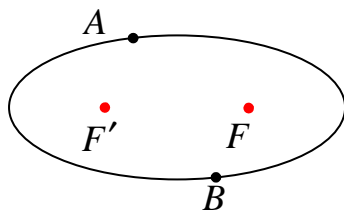
۲: جای خالی را با عبارت مناسب کامل کنید.

در حالتی که خروج از مرکز بیضی برابر صفر باشد، بیضی تبدیل به یک ..... می شود.

۳	خرداد ۱۳۹۸	۱/۵ نمره
---	------------	----------

۳: اگر خروج از مرکز بیضی برابر  $\frac{3}{5}$  و طول قطر کوچک بیضی ۱۶ باشد. طول قطر بزرگ بیضی و فاصله‌ی کانونی آن را به دست آورید.

۴	خرداد ۱۳۹۸	۱/۲۵ نمره
---	------------	-----------

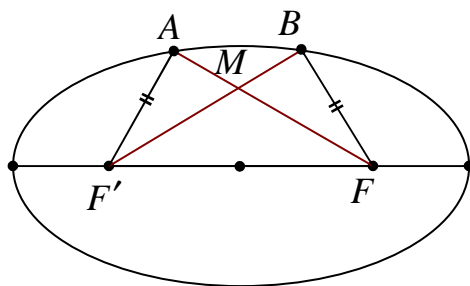


۴: دو نقطه‌ی  $A$  و  $B$  مطابق شکل، روی بیضی و نقاط  $F$  و  $F'$  کانون های بیضی اند. اگر  $AF' = BF$  باشد، ثابت کنید دو پاره خط  $AF$  و  $BF'$  موازی اند.

۵	تیر ۱۳۹۸	۱/۲۵ نمره
---	----------	-----------

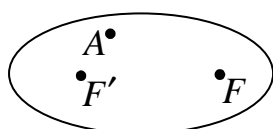
۵: اگر  $A(2, 12)$  و  $A'(2, -8)$  دو رأس بیضی ( $AA'$  قطر بزرگ بیضی) و خروج از مرکز بیضی برابر  $\frac{3}{5}$  باشد. فاصله‌ی کانونی بیضی را به دست آورید.

۶	تیر ۱۳۹۸	۱/۵ نمره
---	----------	----------



۶: دو نقطه‌ی  $A$  و  $B$  روی یک بیضی و  $F$  و  $F'$  کانون های بیضی اند. با توجه به شکل، اگر  $AF' = BF$  باشد. نشان دهید مثلث  $FMF'$  متساوی الساقین است.

۷	شهریور ۱۳۹۸	۱/۲۵ نمره
---	-------------	-----------



۷: در شکل مقابل نقطه‌ی  $A$  داخل بیضی و نقاط  $F$  و  $F'$  کانون های بیضی اند. ثابت کنید که مجموع فواصل نقطه‌ی  $A$  از  $F$  و  $F'$  کوچکتر از قطر بزرگ بیضی است.

نمره ۱/۲۵	شهریور ۱۳۹۸	۸
-----------	-------------	---

۸: بیضی با قطرهای ۶ و ۱۰ مفروض است، خروج از مرکز بیضی را به دست آورید.

نمره ۰/۲۵	دی ۱۳۹۸	۹
-----------	---------	---

۹: درستی یا نادرستی عبارت زیر را مشخص کنید.

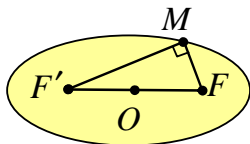
در حالتی که خروج از مرکز بیضی برابر یک باشد، بیضی تبدیل به یک پاره خط می شود.

نمره ۱/۵	دی ۱۳۹۸	۱۰
----------	---------	----

۱۰: نقطه  $M$  روی بیضی به اقطار ۶ و ۱۰ واحد به گونه ای قرار دارد که فاصله ی

آن تا مرکز بیضی برابر ۴ واحد است. در صورتی که بدانیم مثلث  $MFF'$  قائم الزاویه

است. طول  $MF$  را بدست آورید. ( $F$  و  $F'$  کانون های بیضی هستند).



نمره ۰/۲۵	خرداد ۱۳۹۹	۱۱
-----------	------------	----

۱۱: جای خالی را با عبارت مناسب پر کنید.

اگر مجموع فواصل نقطه  $A$  از دو کانون بیضی بیشتر از طول بزرگ باشد، نقطه  $A$  در ..... بیضی است.

نمره ۰/۲۵	خرداد ۱۳۹۹	۱۲
-----------	------------	----

۱۲: درستی و نادرستی عبارت زیر را مشخص کنید.

در حالتی که خروج از مرکز بیضی برابر یک باشد، بیضی تبدیل به یک دایره می شود.

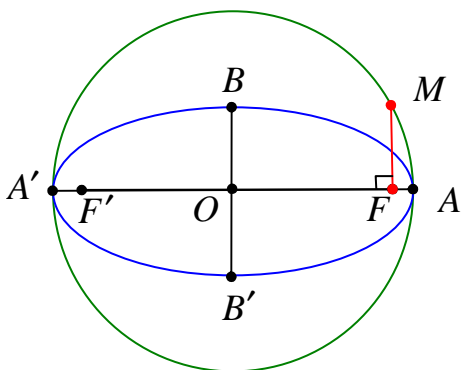
نمره ۱	خرداد ۱۳۹۹	۱۳
--------	------------	----

۱۳: قطر دایره  $C$  مانند شکل مقابل، قطر بزرگ بیضی است. و از

کانون  $F$  عمودی بر قطر  $AA'$  رسم کرده ایم تا دایره را در نقطه  $M$

مانند  $M$  قطع کند. ثابت کنید که اندازه  $MF$  برابر نصف اندازه ی قطر

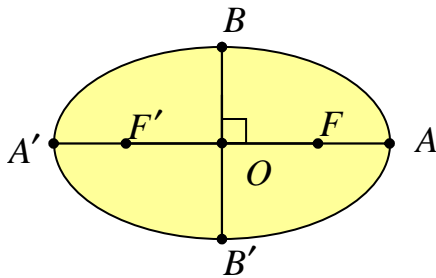
کوچک بیضی است.



۱۴	خرداد ۱۳۹۹	۱/۵ نمره
----	------------	----------

۱۴: در بیضی مقابل طول قطر بزرگ  $\sqrt{2}$  برابر طول قطر کوچک

است. اندازه ی زاویه ی  $FBF'$  چند درجه است؟



۱۵	خرداد ۱۳۹۹	۱ نمره
----	------------	--------

۱۵: اگر در یک بیضی طول قطر کوچک ۲۴ و فاصله ی کانون تا مرکز آن برابر ۵ باشد، خروج از مرکز بیضی را به دست

آورید.

۱۶	خرداد ۱۳۹۹ خارج کشور	۰/۲۵ نمره
----	----------------------	-----------

۱۶: در جای خالی عبارت ریاضی مناسب قرار دهید.

در صورتی که خروج از مرکز بیضی برابر ..... باشد، بیضی تبدیل به یک دایره می شود.

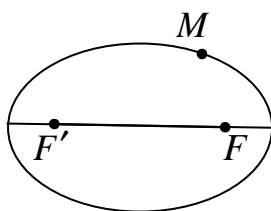
۱۷	خرداد ۱۳۹۹ خارج کشور	۱/۵ نمره
----	----------------------	----------

۱۷: در یک بیضی خروج از مرکز برابر  $\frac{4}{5}$  و اندازه ی قطر بزرگ بیضی برابر ۲۰ است. طول قطر کوچک بیضی و اندازه ی

کانونی آن را بیابید.

۱۸	خرداد ۱۳۹۹ خارج کشور	۱/۲۵ نمره
----	----------------------	-----------

۱۸: در شکل مقابل نقطه ی  $M$  روی بیضی و کانون های  $F$  و  $F'$  مشخص شده اند.



خط  $d$  را به گونه ای رسم کنید که در نقطه ی  $M$  بر بیضی مماس باشد و سپس از

نقطه ی  $F'$  خطی موازی با  $MF$  رسم کنید تا خط  $d$  را در نقطه ای مانند  $N$  قطع کند.

ثابت کنید  $NF' = MF'$

۱۹	شهریور ۱۳۹۹	۰/۲۵ نمره
----	-------------	-----------

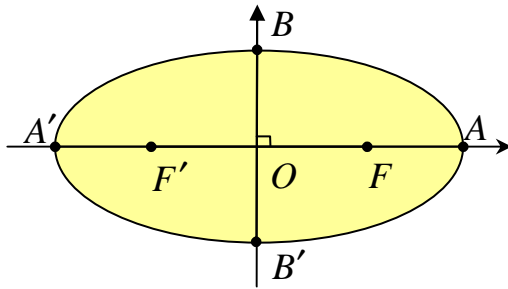
۱۹: جای خالی را با عبارت مناسب پر کنید.

اگر طول قطر بزرگ بیضی دو برابر فاصله ی کانونی آن باشد، خروج از مرکز بیضی برابر .... است.

۲۰	شهریور ۱۳۹۹	۱/۲۵ نمره
----	-------------	-----------

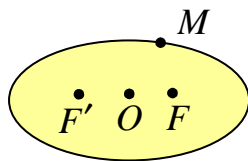
۲۰: مرکز بیضی مقابل بر مبدأ مختصات و قطرهای آن مانند شکل بر محورهای  $x$  و  $y$  منطبق هستند و فاصله ی  $F$  از

هر دو نقطه ی  $O$  و  $A$  برابر ۴ است. طول قطر کوچک بیضی را محاسبه کنید.



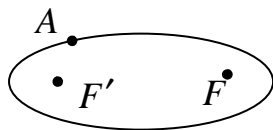
۲۱	شهریور ۱۳۹۹	۱ نمره
----	-------------	--------

۲۱: در شکل مقابل نقطه ی  $M$  روی بیضی و کانون های  $F$  و  $F'$  مشخص شده اند. خط  $d$  را به گونه ای رسم کنید که در نقطه ی  $M$  بر بیضی مماس باشد و سپس از نقطه ی  $F'$  خطی موازی با  $MF$  رسم کنید تا خط  $d$  را در نقطه ای مانند  $N$  قطع کند. ثابت کنید:  $MF' = NF'$



۲۲	دی ۱۳۹۹	۱ نمره
----	---------	--------

۲۲: دو نقطه ی  $A$  و  $B$  مطابق شکل روی بیضی و نقاط  $F$  و  $F'$  کانون های بیضی اند. اگر  $AF' = BF'$  باشد، ثابت کنید دو پاره خط  $AF$  و  $BF$  موازیند.



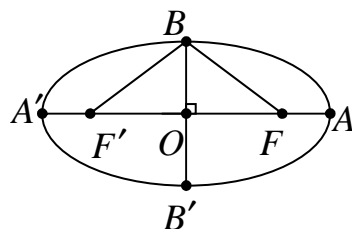
۲۳	خرداد ۱۴۰۰	۰/۲۵ نمره
----	------------	-----------

۲۳: جای خالی را با عدد یا عبارت مناسب پر کنید.

در بیضی، در حالتی که  $\frac{c}{a} = 0$  بیضی به ..... تبدیل می شود.

۲۴	خرداد ۱۴۰۰	۱ نمره
----	------------	--------

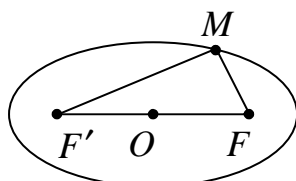
۲۴: در بیضی شکل مقابل، اگر  $OA = a$  و  $OB = b$  و  $OF = c$  باشد، ثابت کنید:  $a^2 = b^2 + c^2$



۲۵	خرداد ۱۴۰۰	۱/۵ نمره
----	------------	----------

۲۵: نقطه ی  $M$  روی بیضی به اقطار ۱۰ و ۶ واحد به گونه ای قرار دارد که فاصله ی آن تا مرکز بیضی برابر ۴ واحد است. الف) نشان دهید مثلث  $MFF'$  قائم الزویه است.

ب) طول  $MF$  را به دست آورید. ( $F$  و  $F'$  کانون های بیضی هستند و  $MF < MF'$ )





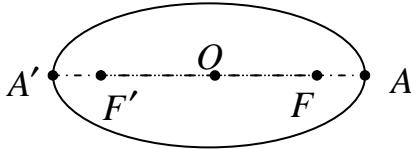
۱/۲۵ نمره

شهریور ۱۴۰۰

۲۶

۲۶: در بیضی روبرو نقاط  $A$  و  $A'$  دو سر قطر بزرگ و نقاط  $F$  و  $F'$  کانون های بیضی هستند. ثابت

$$A'F' = AF$$

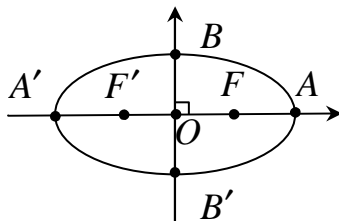


۱/۲۵ نمره

شهریور ۱۴۰۰

۲۷

۲۷: در بیضی مقابل، طول قطر کوچک  $\frac{\sqrt{3}}{2}$  طول قطر بزرگ است. اندازه ی زاویه ی  $F'BF$  را به دست آورید.



۰/۲۵ نمره

شهریور ۱۴۰۰

۲۸

۲۸: جای خالی را با عبارت مناسب پر کنید.

در حالتی که  $\frac{c}{a} = 1$  بیضی به یک ..... تبدیل می شود.

۰/۲۵ نمره

دی ۱۴۰۰

۲۹

۲۹: درستی و نادرستی عبارت زیر را مشخص کنید.

در حالتی که خروج از مرکز بیضی برابر صفر باشد، بیضی تبدیل به یک پاره خط می شود.

۰/۲۵ نمره

دی ۱۴۰۰

۳۰

۳۰: جای خالی را با عبارت مناسب پر کنید.

اگر مجموع فواصل نقطه ی  $A$  از کانون بیضی بیشتر از طول قطر بزرگ باشد، نقطه ی  $A$  در ..... بیضی است.

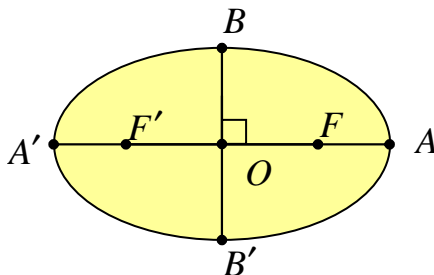
۱/۲۵ نمره

دی ۱۴۰۰

۳۱

۳۱: اگر در یک بیضی، طول قطر بزرگ دو برابر طول قطر کوچک

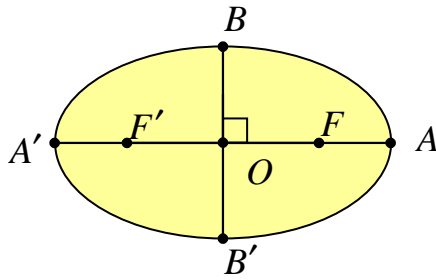
باشد، اندازه ی زاویه ی  $FBF'$  چند درجه است؟



نمره ۱/۲۵

دی ۱۴۰۰

۳۲



۱۰: در بیضی روبرو:  $OA = OA' = a$

و  $OB = OB' = b$  و  $OF = OF' = c$

ثابت کنید:  $b^2 + c^2 = a^2$

(\*) سهمی

نمره ۱/۲۵

دی ۱۳۹۷

۱

۱: معادله سهمی را بنویسید که  $F(1, -2)$  کانون و  $K(1, 2)$  رأس آن باشد. سپس خط هادی آن را بنویسید.

نمره ۲

خرداد ۱۳۹۸

۲

۲: سهمی  $y^2 - 2y + 8x + 9 = 0$  مفروض است.

الف: مختصات رأس، مختصات کانون و معادله خط هادی را به دست آورید.

ب: نمودار سهمی را رسم کنید.

نمره ۲

تیر ۱۳۹۸

۳

۳: سهمی به معادله  $y^2 = 4x - 4y$  مفروض است. مختصات رأس سهمی، مختصات کانون سهمی و معادله خط

هادی را بنویسید و سپس نمودار سهمی را رسم کنید.

نمره ۰/۲۵

شهریور ۱۳۹۸

۴

۴: جای خالی را با عبارت مناسب پر کنید.

مکان هندسی نقاطی از صفحه که از یک خط ثابت در آن صفحه و از یک نقطه ثابت غیر واقع بر آن خط در آن صفحه

به یک فاصله باشند را ..... می نامیم.

نمره ۱/۲۵

شهریور ۱۳۹۸

۵

۵: اگر نقطه  $A(2, 3)$  رأس سهمی و  $y = 7$  معادله خط هادی سهمی باشد.

الف: معادله سهمی را بنویسید.

ب: مختصات کانون سهمی را به دست آورید.

سئالات موضوعی امتحانات نهایی کشوری فصل دوم درس هندسه ۳ پایه ی دوازدهم رشته ی ریاضی فیزیک

۶	دی ۱۳۹۸	نمره ۱/۷۵
---	---------	-----------

۶: سهمی  $y^2 = 4x - 4$  مفروض است. به مرکز کانون سهمی و به شعاع ۳ واحد دایره ای رسم می کنیم. معادله ی دایره را بنویسید و سپس مختصات نقاط برخورد دایره و سهمی را بیابید.

۷	خرداد ۱۳۹۹	نمره ۰/۲۵
---	------------	-----------

۷: جای خالی را با عبارت مناسب پر کنید.

هر شعاع نوری که موازی با محور سهمی به بدنه ی سهمی بتابد، بازتاب آن از ..... خواهد گذشت.

۸	خرداد ۱۳۹۹	نمره ۲/۵
---	------------	----------

۸: الف: مختصات رأس، کانون و معادله ی خط هادی سهمی  $x^2 - 4y + 8x = 0$  را به دست آورید.  
ب: نمودار سهمی را با استفاده از نقاط کمکی رسم کنید.

۹	خرداد ۱۳۹۹	نمره ۲
---	------------	--------

۹: سهمی  $y^2 = 4x - 4$  مفروض است. به مرکز کانون سهمی و به شعاع ۳ دایره ای رسم می کنیم. مختصات نقاط برخورد دایره و سهمی را بیابید.

۱۰	خرداد ۱۳۹۹ خارج کشور	نمره ۲
----	----------------------	--------

۱۰: سهمی  $x^2 = 2y - 4x$  مفروض است. مختصات رأس و کانون سهمی را یافته و مختصات نقطه ی برخورد سهمی و محور های مختصات را بیابید.

۱۱	شهریور ۱۳۹۹	نمره ۰/۲۵
----	-------------	-----------

۱۱: جای خالی را با عبارت مناسب پر کنید.

سهمی مکان هندسی نقاطی از یک صفحه است که از یک خط ثابت در آن صفحه و از یک ..... ثابت غیر واقع بر آن خط در آن صفحه به یک فاصله باشند.

۱۲	شهریور ۱۳۹۹	نمره ۱/۷۵
----	-------------	-----------

۱۲: مختصات کانون، مختصات رأس و معادله ی خط هادی سهمی به معادله ی  $y^2 - 6y + 16x + 25 = 0$  را تعیین کنید.

۱۳	شهریور ۱۳۹۹	نمره ۱/۲۵
----	-------------	-----------

۱۳: معادله ی سهمی را بنویسید که  $A(4,6)$  رأس و  $y = 3$  معادله ی خط هادی آن باشد.

۱۴	دی ۱۳۹۹	نمره ۰/۲۵
----	---------	-----------

۱۴: جای خالی را با عبارت مناسب پر کنید.

رأس سهمی به معادله  $y^2 + 2x - 2y = 0$  ، نقطه‌ای به مختصات ..... است.

۱۵	دی ۱۳۹۹	۱/۲۵ نمره
----	---------	-----------

۱۵: معادله سهمی را بنویسید که  $A(1,2)$  رأس و  $F(1,-2)$  کانون آن باشد. سپس خط هادی آن را بیابید.

۱۶	خرداد ۱۴۰۰	۰/۲۵ نمره
----	------------	-----------

۱۶: درستی و نادرستی عبارت زیر را مشخص کنید.

در یک سهمی، هر شعاع نوری که موازی با محور سهمی به بدنه سهمی بتابد، بازتاب آن از کانون سهمی خواهد گذشت.

۱۷	خرداد ۱۴۰۰	۱/۲۵ نمره
----	------------	-----------

۱۷: اگر نقطه‌ی  $A(2,3)$  رأس سهمی و  $y = 7$  معادله‌ی خط هادی سهمی باشد.

الف: معادله سهمی را به دست آورید. ب: مختصات کانون سهمی را بیابید.

۱۸	خرداد ۱۴۰۰	۰/۷۵ نمره
----	------------	-----------

۱۸: در یک دیش مخابراتی به شکل سهمی با دهانه‌ی دایره‌ای به قطر ۶۰ واحد و گودی (عمق) ۹ واحد، مفروض است. فاصله‌ی کانونی این دیش را به دست آورید.

۱۹	شهریور ۱۴۰۰	۲ نمره
----	-------------	--------

۱۹: سهمی به معادله  $y^2 - 2y + 8x + 9 = 0$  را در نظر بگیرید.

الف: مختصات رأس، کانون و معادله‌ی خط هادی سهمی را به دست آورید.

ب: نمودار سهمی را رسم کنید.

۲۰	دی ۱۴۰۰	۲ نمره
----	---------	--------

۲۰: سهمی  $y^2 = 2x + 4y$  را در نظر بگیرید.

الف: مختصات رأس، کانون و خط هادی سهمی را به دست آورید.

ب: نقاط برخورد سهمی با محورهای مختصات را به دست آورید.



# (( فصل سوم : بردارها ))



درس ۱ : معرفی فضای سه بعدی

(\*) فضای دو بعدی

(\*) فضای سه بعدی

۱	خرداد ۱۳۹۸	۰/۲۵ نمره
---	------------	-----------

۱ : درستی یا نادرستی عبارت زیر را مشخص کنید.

نقطه‌ی  $A(2, -3, 0)$  روی صفحه‌ی  $xoy$  قرار دارد.

۲	خرداد ۱۳۹۸	۱/۵ نمره
---	------------	----------

۲ : به سئوالات زیر پاسخ دهید.

الف : معادله‌ی صفحه‌ی ای را بنویسید که از نقطه‌ی  $A(2, 3, 4)$  بگذرد و با صفحه‌ی  $xoy$  موازی باشد.

ب : معادلات  $\begin{cases} x = 0 \\ z = 0 \end{cases}$  مربوط به کدام محور است؟

پ : در فضای  $R^3$  ، نقطه‌ی  $A$  به طول ۲ روی محور طول ها و نقطه‌ی  $B(-4, 6, -3)$  مفروض اند. مختصات نقطه‌ی وسط  $AB$  را بیابید.

۳	تیر ۱۳۹۸	۰/۵ نمره
---	----------	----------

۳ : نقاط  $A(2, 1, 3)$  و  $B(-1, 1, 3)$  در فضای  $R^3$  مفروض اند. معادلات مربوط به پاره خط  $AB$  را بنویسید.

۴	شهریور ۱۳۹۸	۱/۲۵ نمره
---	-------------	-----------

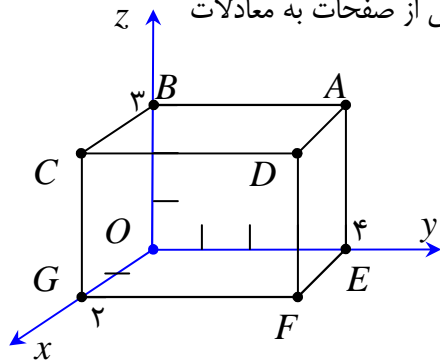
۴ : نقاط  $A(3, 1, 2)$  و  $B(3, -2, 2)$  در  $R^3$  مفروض اند.

الف: طول پاره خط  $AB$  را به دست آورید.

ب : معادلات مربوط به پاره خط  $AB$  را بنویسید.

۵	دی ۱۳۹۸	۱/۵ نمره
---	---------	----------

۵: وجه های مکعب مستطیل مشخص شده در شکل مقابل، قسمت هایی از صفحات به معادلات



$(x=0, x=2)$  و  $(y=0, y=4)$  و  $(z=0, z=3)$  هستند.

الف: مختصات نقطه‌ی  $A$  را مشخص کنید.

ب: معادلات مربوط به یال  $AD$  و وجه  $CDFG$  را بنویسید.

۶	خرداد ۱۳۹۹ خارج کشور	۲۵/۰ نمره
---	----------------------	-----------

۶: درستی یا نادرستی گزاره‌ی زیر را معلوم کنید.

نقطه‌ی  $(-2, -1, 0)$  روی صفحه‌ی  $YOZ$  قرار دارد.

۷	خرداد ۱۳۹۹ خارج کشور	۱ نمره
---	----------------------	--------

۷: نمودار مربوط به معادلات  $\begin{cases} y=0 \\ z=0 \end{cases}$  چه شکلی است و چه ارتباطی با نمودار معادله‌ی  $y=0$  دارد؟ چرا؟

۸	شهریور ۱۳۹۹	۲ نمره
---	-------------	--------

۸:

الف: نمودار مربوط به معادلات  $\begin{cases} x=0 \\ z=0 \end{cases}$  در فضای  $R^3$  چه شکلی است و چه ارتباطی با نمودار  $x=0$  دارد؟

ب: اگر  $\vec{a} = (2, -1, 3)$  و  $\vec{b} = \vec{i} + 2\vec{j}$  باشد. اندازه‌ی بردار  $\vec{a} + 2\vec{b}$  را به دست آورید.

۹	دی ۱۳۹۹	۱ نمره
---	---------	--------

۹: نقاط  $A(1, 2, 1)$  و  $B(2, 2, 1)$  و  $C(3, 2, -1)$  را در فضا در نظر می‌گیریم، کدام‌ها روی خط  $\begin{cases} y=2 \\ z=1 \end{cases}$  قرار دارند؟

چرا؟

۱۰	خرداد ۱۴۰۰	۲۵/۰ نمره
----	------------	-----------

۱۰: جای خالی را با عدد یا عبارت مناسب پر کنید.

در فضای  $R^3$ ، نقطه‌ی  $(-3, 2, -5)$  در ناحیه‌ی (کنج) ..... دستگاه مختصات قرار دارد.

۱۱	خرداد ۱۴۰۰	۱/۵ نمره
----	------------	----------

۱۱: به سوالات زیر پاسخ دهید.

الف) اگر  $y = b$  معادله‌ی صفحه‌ی  $R^3$  باشد که از نقطه‌ی  $A = (2, -3, 4)$  بگذرد، مقدار عددی  $b$  چقدر است؟

ب) معادلات  $\begin{cases} x = 0 \\ y = 0 \end{cases}$  مربوط به کدام محور در دستگاه مختصات  $R^3$  است؟

پ) در فضای  $R^3$ ، نقطه ی  $A$  به عرض ۲ و ارتفاع ۳ روی  $YOZ$  و نقطه ی  $B(-4, 6, -3)$  مفروض اند، مختصات وسط پاره خط  $AB$  را بیابید.

۱۲	شهریور ۱۴۰۰	۲ نمره
----	-------------	--------

۱۲: نقطه ی  $A$  به طول ۲ روی محور  $x$  ها و نقطه ی  $B$  روی صفحه ی  $XOZ$  به طول ۱ و ارتفاع ۳ در فضای سه بعدی مفروض اند.

الف: مختصات نقاط  $A$  و  $B$  را مشخص کنید.

ب: طول پاره خط  $AB$  را محاسبه کنید.

پ: مختصات وسط پاره خط  $AB$  را به دست آورید.

۱۳	دی ۱۴۰۰	۲۵/۰ نمره
----	---------	-----------

۱۳: درستی و نادرستی عبارت زیر را مشخص کنید.

نقطه با مختصات  $(-2, 3, -4)$  در ناحیه (کنج) شماره ۵ محورهای مختصات سه بعدی واقع است.

۱۴	دی ۱۴۰۰	۲ نمره
----	---------	--------

۱۴: الف: در فضای سه بعدی نقطه ی  $A$  روی محور  $x$  ها به طول ۲ و نقطه ی  $B$  در صفحه ی  $YOX$  با عرض ۳ و

ارتفاع ۴ مفروض است. فاصله ی وسط پاره خط  $AB$  تا مبدأ مختصات را به دست آورید.

ب: اگر طول و عرض و ارتفاع اتاقی ۴ متر و ۵ متر و ۳ متر باشد، طول قطر اتاق که دو نقطه ی مقابل را به هم وصل می کنید را به دست آورید.



(\*) بردارها

۱	دی ۱۳۹۷	۱ نمره
---	---------	--------

۱: اگر  $\vec{a} = 3\vec{i} - 2\vec{j} - \vec{k}$  و  $\vec{b} = (3, 1, -1)$  و  $r = 2$  باشد، بردار  $r\vec{b} - \vec{a}$  را به دست آورید.

۲	خرداد ۱۳۹۸	۱ نمره
---	------------	--------

۲: اگر  $\vec{a} = 2\vec{i} - \vec{k}$  و  $\vec{b} = (1, 2, 1)$  باشد، طول بردار  $\vec{a} - 2\vec{b}$  را به دست آورید.

۳	تیر ۱۳۹۸	۷۵/۰ نمره
---	----------	-----------

۳: اگر  $\vec{a} = 2\vec{j} - 3\vec{k}$  و  $\vec{b} = (0, 1, -1)$  باشند، بردار  $\vec{c} = 2\vec{b} - \vec{a}$  را به دست آورید.

۴	خرداد ۱۳۹۹ خارج کشور	۰/۲۵ نمره
---	----------------------	-----------

۴: در جاهای خالی عبارت ریاضی مناسب قرار دهید.

اگر دو بردار مانند  $\vec{a}$  و  $\vec{b}$  ، .... باشند، آنگاه یکی از آنها مضرب دیگری است.

۵	خرداد ۱۳۹۹ خارج کشور	۱/۵ نمره
---	----------------------	----------

۵: اگر  $\vec{a} = (\sqrt{8}, 2, 4)$  و  $\vec{b} = -6\vec{j} + 8\vec{k}$  و  $r = \frac{-1}{2}$

الف: طول بردار  $r\vec{b}$  را مشخص کنید. ب: بردار  $r\vec{a} + \vec{b}$  را بیابید.

۶	دی ۹۹	۱/۵ نمره
---	-------	----------

۶: دو بردار  $\vec{a} = (1, 2, -1)$  و  $\vec{b} = (0, 2, -1)$  را در نظر بگیرید.

الف: بردار  $\vec{a}$  در کدام ناحیه از فضای  $R^3$  واقع است. (شماره‌ی ناحیه ذکر شود).

ب: طول بردار  $2\vec{a} - \vec{b}$  را به دست آورید.

۷	شهریور ۱۴۰۰	۰/۲۵ نمره
---	-------------	-----------

۷: بردار  $\vec{a} = 2\vec{j} - \vec{k}$  در فضا سه بعدی بر کدام صفحه‌ی مختصات سه بعدی منطبق است؟ از بین گزینه‌های زیر انتخاب کنید.

$xoy$  و  $yoZ$  و  $xoz$



## درس ۲: ضرب داخلی و ضرب خارجی دو بردار

### (\*) ضرب داخلی و خواص آن

۱	دی ۱۳۹۷	۱ نمره
---	---------	--------

۱: برای دو بردار غیر صفر  $\vec{a}$  و  $\vec{b}$  ، ثابت کنید  $\vec{a}$  و  $\vec{b}$  برهم عمودند اگر و فقط اگر  $\vec{a} \cdot \vec{b} = 0$

۲	خرداد ۱۳۹۸	۰/۲۵ نمره
---	------------	-----------

۲: جای خالی را با عبارت مناسب پر کنید.

حاصل ضرب داخلی دو بردار غیر صفر  $\vec{a}$  و  $\vec{b}$  که بر هم عمود هستند، برابر..... است.

۳	تیر ۱۳۹۸	۱ نمره
---	----------	--------

۳: برای دو بردار  $\vec{a}$  و  $\vec{b}$  ثابت کنید:  $\|\vec{a} \cdot \vec{b}\| \leq \|\vec{a}\| \times \|\vec{b}\|$

۴	تیر ۱۳۹۸	۱/۵ نمره
---	----------	----------

۴: مقدار  $m$  را طوری تعیین کنید که زاویه‌ی بین دو بردار  $\vec{a} = (m, -1, 2)$  و  $\vec{b} = (1, -1, 0)$  برابر ۴۵ درجه باشد.



۵	شهریور ۱۳۹۸	۰/۲۵ نمره
---	-------------	-----------

۵: جای خالی را با عدد مناسب کامل کنید.

اگر برای دو بردار  $\vec{a}$  و  $\vec{b}$  داشته باشیم:  $\vec{a} \cdot \vec{b} = \|\vec{a}\| \times \|\vec{b}\|$  در این صورت زاویه‌ی بین دو بردار  $\vec{a}$  و  $\vec{b}$  برابر ..... است.

۶	دی ۱۳۹۸	۱ نمره
---	---------	--------

۶: اگر بردار  $\vec{a} = (a_1, a_2, a_3)$  باشد، ثابت کنید:  $\vec{a} \cdot \vec{a} = \|\vec{a}\|^2$

۷	دی ۱۳۹۸	۰/۲۵ نمره
---	---------	-----------

۷: درستی یا نادرستی عبارت زیر را تعیین کنید.

اگر برای دو بردار غیر صفر  $\vec{a}$  و  $\vec{b}$  داشته باشیم:  $\vec{a} \cdot \vec{b} = \|\vec{a}\| \times \|\vec{b}\|$  در این صورت  $\theta = \frac{\pi}{2}$  است. ( $\theta$  زاویه‌ی بین دو بردار  $\vec{a}$  و  $\vec{b}$  است.)

۸	خرداد ۱۳۹۹ خارج کشور	۱/۲۵ نمره
---	----------------------	-----------

۸: زاویه‌ی بین دو بردار  $\vec{a} = (0, -1, -1)$  و  $\vec{b} = (2, -1, -2)$  را به دست آورید.

۹	دی ۹۹	۱ نمره
---	-------	--------

۹: برای هر دو بردار غیر صفر  $\vec{a}$  و  $\vec{b}$ ، ثابت کنید: اگر  $\vec{a} \cdot \vec{b} = 0$  باشد، آنگاه  $\vec{a}$  و  $\vec{b}$  بر هم عمودند.

۱۰	خرداد ۱۴۰۰	۰/۲۵ نمره
----	------------	-----------

۱۰: درستی و نادرستی عبارت زیر را مشخص کنید.

اگر زاویه‌ی بین دو بردار مخالف صفر، منفرجه باشد، آنگاه ضرب داخلی آنها یک عدد حقیقی مثبت است.

۱۱	خرداد ۱۴۰۰	۱/۲۵ نمره
----	------------	-----------

۱۱: اگر  $\vec{a}$  و  $\vec{b}$  و  $\vec{c}$  بردارهایی باشند، به ترتیب با طول‌های ۱ و ۲ و ۳ با این ویژگی که  $\vec{a} + \vec{b} + \vec{c}$  مقدار عددی عبارت

$\vec{a} \cdot \vec{b} + \vec{b} \cdot \vec{c} + \vec{c} \cdot \vec{a}$  را به دست آورید.



(\*) تصویر قائم یک بردار بر امتداد بردار دیگر

۱	دی ۱۳۹۷	۱ نمره
---	---------	--------

۱: اگر  $\vec{a} = (-1, -3, 0)$  و  $\vec{b} = (3, -4, 2)$  و  $\vec{c} = (-1, 1, 4)$  باشند، آنگاه تصویر قائم  $\vec{a}$  بر امتداد  $\vec{b} + \vec{c}$  را به دست آورید.

سئوالات موضوعی امتحانات نهایی کشوری فصل سوم درس هندسه ۳ پایه‌ی دوازدهم رشته‌ی ریاضی فیزیک

نمره ۱/۷۵	خرداد ۱۳۹۸	۲
-----------	------------	---

۲: بردارهای  $\vec{a} = (1, -3, 2)$  و  $\vec{b} = (-2, 1, -5)$  را در نظر بگیرید و سپس تصویر قائم بردار  $\vec{a}$  را بر امتداد بردار  $\vec{b}$  به دست آورید.

نمره ۱	تیر ۱۳۹۸	۳
--------	----------	---

۳: تصویر قائم بردار  $\vec{a} = (5, -1, 2)$  را بر امتداد بردار  $\vec{b} = (1, -1, 0)$  بیابید.

نمره ۱/۲۵	شهریور ۱۳۹۸	۴
-----------	-------------	---

۴: ثابت کنید که اگر دو بردار  $\vec{a}$  و  $\vec{b}$  در یک راستا باشند، آنگاه تصویر قائم  $\vec{a}$  بر امتداد  $\vec{b}$ ، برابر خود  $\vec{a}$  می‌شود.

نمره ۱/۵	دی ۱۳۹۸	۵
----------	---------	---

۵: بردارهای  $\vec{a} = (1, 2, 3)$  و  $\vec{b} = (-2, 0, 2)$  مفروض اند:

الف: تصویر قائم بردار  $\vec{a}$  بر امتداد بردار  $\vec{b}$  را به دست آورید.

ب: طول بردار  $2\vec{a} - \vec{b}$  را محاسبه کنید.

نمره ۲	خرداد ۱۳۹۹	۶
--------	------------	---

۶: بردارهای  $\vec{a} = (-2, 0, 2)$  و  $\vec{b} = 2\vec{j} + 2\vec{k}$  را در نظر بگیرید.

الف: زاویه‌ی بین دو بردار  $\vec{a}$  و  $\vec{b}$  را به دست آورید.

ب: تصویر قائم بردار  $\vec{a} + \vec{b}$  را بر امتداد بردار  $\vec{b}$  به دست آورید.

نمره ۱	دی ۱۳۹۹	۷
--------	---------	---

۷: بردارهای  $\vec{a} = (2, -1, 2)$  و  $\vec{b} = (1, -1, 0)$  را در نظر بگیرید. تصویر قائم بردار  $\vec{a}$  را بر امتداد بردار  $\vec{b}$  بیابید.

نمره ۱/۵	خرداد ۱۴۰۰	۸
----------	------------	---

۸: اگر  $\vec{a} = (1, -3, 4)$  و  $\vec{b} = (3, -4, 2)$  و  $\vec{c} = (-1, 1, 4)$  باشند، آنگاه تصویر قائم بردار  $\vec{a}$  بر امتداد  $\vec{b} + \vec{c}$  را به دست آورید.

نمره ۱/۲۵	شهریور ۱۴۰۰	۹
-----------	-------------	---

۹: تصویر قائم بردار  $\vec{a} = (2, -1, 2)$  را بر امتداد بردار  $\vec{b} = (1, -1, 0)$  بیابید.



(\*) ضرب خارجی دو بردار

نمره ۱/۵	دی ۱۳۹۷	۱
----------	---------	---

۱: برادرهای  $\vec{a}$  و  $\vec{b}$  مفروض اند. اگر  $\|\vec{a}\| = 3$  و  $\|\vec{b}\| = 26$  و  $\|\vec{a} \times \vec{b}\| = 72$  باشد، مقدار  $\vec{a} \cdot \vec{b}$  را محاسبه کنید.

۲	خرداد ۱۳۹۸	۰/۷۵ نمره
---	------------	-----------

۲: بردارهای  $\vec{a} = (1, -3, 2)$  و  $\vec{b} = (-2, 1, -5)$  را در نظر بگیرید و برداری عمود بر این دو بردار بنویسید.

۳	خرداد ۱۳۹۸	۱ نمره
---	------------	--------

۳: ثابت کنید،

دو بردار غیر صفر  $\vec{a}$  و  $\vec{b}$  که بر هم عمود هستند، اگر و فقط اگر  $\vec{a} \times \vec{b} = \vec{o}$

۴	تیر ۱۳۹۸	۱/۲۵ نمره
---	----------	-----------

۴: بردارهای  $\vec{a}$  و  $\vec{b}$  مفروض اند. اگر  $\|\vec{a}\| = 3$  و  $\|\vec{b}\| = 8$  و  $\|\vec{a} \times \vec{b}\| = 12$  باشد، مقدار  $\vec{a} \cdot \vec{b}$  را محاسبه کنید.

۵	شهریور ۱۳۹۸	۰/۲۵ نمره
---	-------------	-----------

۵: درستی یا نادرستی عبارت زیر را مشخص کنید.

برای بردار غیر صفر  $\vec{a}$  در  $R^3$  داریم،  $\vec{a} \times \vec{a} = \vec{o}$

۶	شهریور ۱۳۹۸	۱ نمره
---	-------------	--------

۶: اگر  $\vec{i}$  و  $\vec{j}$  و  $\vec{k}$  بردارهای واحد در  $R^3$  باشند، حاصل  $(\vec{j} \times \vec{k}) \cdot \vec{i}$  را به دست آورید.

۷	دی ۱۳۹۸	۰/۲۵ نمره
---	---------	-----------

۷: جای خالی را با عبارت مناسب پر کنید.

اگر  $\vec{i}$  و  $\vec{j}$  و  $\vec{k}$  بردارهای واحد در  $R^3$  باشند، حاصل  $(\vec{i} \times \vec{j}) \cdot \vec{k}$  برابر است با .....

۸	خرداد ۱۳۹۹	۲ نمره
---	------------	--------

۸: دو بردار  $\vec{a} = (3, -2, 1)$  و  $\vec{b} = -2\vec{i} + \vec{j} - \vec{k}$  را در نظر بگیرید.

الف: بردار  $\vec{a}$  در کدام از فضای  $R^3$  واقع (شماره ی ناحیه ذکر شود).

ب: طول بردار  $\vec{a} + 2\vec{b}$  را حساب کنید.

پ: برداری عمود بر دو بردار  $\vec{a}$  و  $\vec{b}$  را پیدا کنید.

۹	خرداد ۱۳۹۹ خارج کشور	۰/۲۵ نمره
---	----------------------	-----------

۹: درستی یا نادرستی گزاره های زیر را معلوم کنید.

برای هر دو بردار  $\vec{a}$  و  $\vec{b}$ ، نامساوی  $\|\vec{a} \times \vec{b}\| \geq \|\vec{a}\| \times \|\vec{b}\|$  برقرار است.

۱۰	خرداد ۱۳۹۹ خارج کشور	۱/۲۵ نمره
----	----------------------	-----------

۱۰: ثابت کنید دو بردار غیر صفر  $\vec{a}$  و  $\vec{b}$  با هم موازی هستند، اگر و فقط اگر  $\vec{a} \times \vec{b} = \vec{o}$ .

۲ نمره	شهریور ۱۳۹۹	۱۱
--------	-------------	----

۱۱: بردارهای  $\vec{a} = (2, -1, 2)$  و  $\vec{b} = (1, -1, 0)$  را در نظر بگیرید.

الف: زاویه‌ی بین دو بردار  $\vec{a}$  و  $\vec{b}$  را به دست آورید.

ب: برداری عمود بر دو بردار  $\vec{a}$  و  $\vec{b}$  پیدا کنید.

۲۵/۰ نمره	دی ۹۹	۱۲
-----------	-------	----

۱۲: جای خالی را با عبارت مناسب پر کنید.

حاصل ضرب خارجی دو بردار غیر صفر  $\vec{a}$  و  $\vec{b}$  که با هم موازی هستند، برابر بردار ..... است.

۲۵/۰ نمره	دی ۹۹	۱۳
-----------	-------	----

۱۳: درستی یا نادرستی عبارت زیر را مشخص کنید.

برای دو بردار غیر صفر  $\vec{a}$  و  $\vec{b}$ ، حاصل  $\vec{a} \cdot (\vec{b} \times \vec{c}) = 0$  است.

۲۵/۱ نمره	خرداد ۱۴۰۰	۱۴
-----------	------------	----

۱۴: ثابت کنید: دو بردار غیر صفر  $\vec{a}$  و  $\vec{b}$  با هم موازی هستند، اگر و فقط اگر  $\vec{a} \times \vec{b} = \vec{0}$

۲۵/۰ نمره	شهریور ۱۴۰۰	۱۵
-----------	-------------	----

۱۵: برای سه بردار  $\vec{i}$  و  $\vec{j}$  و  $\vec{k}$  به طول‌های واحد روی محورهای مختصات در  $R^3$ ، داریم:  $\vec{i} \times \vec{j} = \vec{k}$

۲۵/۱ نمره	شهریور ۱۴۰۰	۱۶
-----------	-------------	----

۱۶: بردارهای  $\vec{a}$  و  $\vec{b}$  به طول‌های ۳ و  $\|\vec{a}\| = 26$  و  $\|\vec{b}\| = 72$  و اندازه‌ی ضرب خارجی  $\|\vec{a} \times \vec{b}\|$  مفروض اند.

اگر زاویه‌ی بین دو بردار  $\vec{a}$  و  $\vec{b}$  کمتر از ۹۰ درجه باشد. مقدار ضرب داخلی دو بردار را به دست آورید.

۲۵/۰ نمره	دی ۱۴۰۰	۱۷
-----------	---------	----

۱۷: جای خالی را با عبارت مناسب پر کنید.

اگر برای دو بردار  $\vec{a}$  و  $\vec{b}$  داشته باشیم،  $\|\vec{a} \cdot \vec{b}\| = \|\vec{a}\| \times \|\vec{b}\|$  در این صورت زاویه‌ی بین دو بردار  $\vec{a}$  و  $\vec{b}$  برابر ..... است.

۲ نمره	دی ۱۴۰۰	۱۸
--------	---------	----

۱۸: بردارهای  $\vec{a} = (2, -1, 2)$  و  $\vec{b} = (1, -1, 0)$  را در نظر بگیرید.

الف: زاویه‌ی بین دو بردار  $\vec{a}$  و  $\vec{b}$  را به دست آورید.

ب : برداری عمود بر دو بردار  $\vec{a}$  و  $\vec{b}$  پیدا کنید.

۱۹	دی ۱۴۰۰	۱/۵ نمره
----	---------	----------

۱۹ : بردارهای  $\vec{a}$  و  $\vec{b}$  مفروض اند، به طوری که  $\|\vec{a}\| = ۳$  و  $\|\vec{b}\| = ۲۶$  و  $\|\vec{a} \times \vec{b}\| = ۷۲$  ، اگر زاویه ی بین بردارها کمتر از قائمه باشد، مقدار  $\vec{a} \cdot \vec{b}$  را به دست آورید.



**(\*) مساحت متوازی الاضلاع و حجم متوازی السطوح**

۱	دی ۱۳۹۷	۱ نمره
---	---------	--------

۱ : مساحت متوازی الاضلاعی که توسط بردارهای  $\vec{a} = (۱,۰,۱)$  و  $\vec{b} = (۰,۱,۱)$  تولید می شود را به دست آورید؟

۲	خرداد ۱۳۹۸	۱ نمره
---	------------	--------

۲ : مقدار  $m$  را طوری تعیین کنید که سه بردار  $\vec{a} = (۱, m, -۱۱)$  و  $\vec{b} = (۲, ۳, -۱)$  و  $\vec{c} = (۱, -۱, ۳)$  در یک صفحه باشند.

۳	خرداد ۱۳۹۸	۱/۲۵ نمره
---	------------	-----------

۳ : اگر طول بردارهای  $\vec{a}$  و  $\vec{b}$  به ترتیب ۴ و ۶ و  $\vec{a} \cdot \vec{b} = ۱۲$  باشد. مساحت مثلث بنا شده توسط دو بردار  $\vec{a}$  و  $\vec{b}$  را به دست آورید.

۴	تیر ۱۳۹۸	۱ نمره
---	----------	--------

۴ : حجم متوازی السطوحی را محاسبه کنید که توسط بردارهای  $\vec{a} = (۲, ۱, ۰)$  و  $\vec{b} = (۱, ۰, ۲)$  و  $\vec{c} = (۳, ۲, ۱)$  تولید می شود.

۵	تیر ۱۳۹۸	۲ نمره
---	----------	--------

۵ : سه بردار  $\vec{a} = (۲, ۳, ۱)$  و  $\vec{b} = (-۱, ۱, ۰)$  و  $\vec{c} = (۲, ۱, -۲)$  مفروض اند.

الف : برداری عمود بر دو بردار  $\vec{a} + \vec{b}$  و  $\vec{c}$  به دست آورید.

ب : حجم متوازی السطوحی که توسط سه بردار  $\vec{a}$  و  $\vec{b}$  و  $\vec{c}$  تولید می شود را به دست آورید.

۶	دی ۱۳۹۸	۱/۵ نمره
---	---------	----------

۶ : اگر  $A(-۱, ۲, ۰)$  و  $B(۱, ۰, -۱)$  و  $C(۰, -۱, ۱)$  سه رأس مثلث  $ABC$  باشند، مساحت این مثلث را با استفاده از ضرب خارجی بردارها به دست آورید.

۷	خرداد ۱۳۹۹ خارج کشور	۲/۲۵ نمره
---	----------------------	-----------

۷ : برداری های  $\vec{a} = (-۴, ۳, -۵)$  و  $\vec{b} = (۱, -۱, ۱)$  را در نظر بگیرید.

الف : تصویر قائم  $\vec{a}$  بر امتداد  $\vec{b}$  را به دست آورید.

ب : برداری عمود بر دو بردار  $\vec{a}$  و  $\vec{b}$  بنویسید.

ج : مساحت مثلث پدید آمده توسط بردارهای  $\vec{a}$  و  $\vec{b}$  را بیابید.

۱ نمره	دی ۹۹	۸
--------	-------	---

۸: مساحت متوازی الاضلاعی را به دست آورید که توسط بردارهای  $\vec{a} = (3, 2, 1)$  و  $\vec{b} = (2, 0, 1)$  بوجود می آید.

۲ نمره	خرداد ۱۴۰۰	۹
--------	------------	---

۹: سه برابر  $\vec{a} = (2, 3, 1)$  و  $\vec{b} = (-1, 1, 0)$  و  $\vec{c} = (2, 1, -2)$  مروض اند.

الف) برداری عمود بر دو بردار  $2\vec{b} - \vec{c}$  و  $\vec{c}$  را به دست آورید.

ب) حجم متوازی السطوحی که توسط سه بردار  $\vec{a}$  و  $\vec{b}$  و  $\vec{c}$  تولید می شود را به دست آورید.

۱ نمره	شهریور ۱۴۰۰	۱۰
--------	-------------	----

۱۰: مقدار  $m$  را طوری تعیین کنید که سه بردار  $\vec{a} = (2, -1, 3)$  و  $\vec{b} = (0, m, -1)$  و  $\vec{c} = (1, -2, 3)$  در یک صفحه باشند.



## پاسخ سئوالات موضوعی نهایی

### فصل اول هندسه ۳ پایه دوازدهم ریاضی فیزیک

#### درس ۱: ماتریس و اعمال روی ماتریس ها

#### (\* مفهوم ماتریس و ماتریس های خاص

۱: اسکالر

۲:

$$a_{12} = 1 - 2(2) = -3 \text{ و } a_{22} = -2 + 2 = 0 \text{ و } a_{32} = -3 + 2 = -1$$

$$a_{12} + a_{22} + a_{32} = -3 + 0 + (-1) = -4$$

۶: سطری

۳: ۶

۷: نادرست

۴: درست

۸:  $m=1$

۵: اسکالر

۹:

$$a_{33} = 2 \text{ و } a_{31} = 3 + 1 = 4 \text{ و } a_{12} = 1 - 2 = -1$$

۱۰: قطری

۱۱: ماتریس

#### (\* ماتریس های مساوی

۱:

$$A=B \rightarrow \begin{cases} 2x=3 \rightarrow x=\frac{3}{2} \\ 2x+y=5 \xrightarrow{x=\frac{3}{2}} y=2 \Rightarrow x+y+z=\frac{3}{2}+2+(-2)=\frac{3}{2} \\ z=-2 \end{cases}$$

$$\begin{cases} x-1=y+1 \\ x-2=8 \longrightarrow x=10, y=8, z=3 \rightarrow x+y+z=21 \\ z+1=4 \end{cases} \quad : 2$$

: 3

$$A=B \rightarrow \begin{bmatrix} 2x & 5 \\ z & 1 \end{bmatrix} = \begin{bmatrix} 3 & 2x+y \\ -2 & 1 \end{bmatrix}$$

$$\rightarrow \begin{cases} 2x=3 \\ 2x+y=5 \rightarrow x=\frac{3}{2}, y=2 \rightarrow x+2y+3z=-\frac{1}{2} \\ z=-2 \end{cases}$$

### (\*) اعمال روی ماتریس ها

۱: ندارد.

۲: الف: نادرست      ب: درست

: 3

$$A = \begin{bmatrix} 1 & 0 & -1 \\ 2 & 4 & 1 \\ 3 & 6 & 9 \end{bmatrix}$$

$$2A - 3I = \begin{bmatrix} 2 & 0 & -2 \\ 4 & 8 & 2 \\ 6 & 12 & 18 \end{bmatrix} - \begin{bmatrix} 3 & 0 & 0 \\ 0 & 3 & 0 \\ 0 & 0 & 3 \end{bmatrix} = \begin{bmatrix} 2 & 0 & -2 \\ 4 & 8 & 2 \\ 6 & 12 & 18 \end{bmatrix} + \begin{bmatrix} -3 & 0 & 0 \\ 0 & -3 & 0 \\ 0 & 0 & -3 \end{bmatrix}$$



$$= \begin{bmatrix} -۱ & ۰ & -۱ \\ ۴ & ۵ & ۲ \\ ۶ & ۱۲ & ۱۵ \end{bmatrix}$$

:۴

$$A \times B = \begin{bmatrix} x & y \\ ۲ & -۱ \end{bmatrix} \times \begin{bmatrix} ۴ & ۳ \\ ۳ & ۴ \end{bmatrix} = \begin{bmatrix} ۴x+۳y & ۳x+۴y \\ ۵ & ۲ \end{bmatrix}$$

$$B \times A = \begin{bmatrix} ۴ & ۳ \\ ۳ & ۴ \end{bmatrix} \times \begin{bmatrix} x & y \\ ۲ & -۱ \end{bmatrix} = \begin{bmatrix} ۴x+۶ & ۴y-۳ \\ ۳x+۸ & ۳y-۴ \end{bmatrix}$$

$$A \times B = B \times A \rightarrow \begin{cases} ۳x+۸=۵ \rightarrow x=-۱ \\ ۳y-۴=۲ \rightarrow y=۲ \end{cases}$$

$$\Rightarrow [x \quad ۲ \quad -y] \times \begin{bmatrix} ۳ \\ ۲ \\ -x \end{bmatrix} = [-۱ \quad ۲ \quad -۲] \times \begin{bmatrix} ۳ \\ ۲ \\ ۱ \end{bmatrix} = -۳+۴-۲=-۱$$

:۵ نادرست

:۶

$$[۳x-۶ \quad -۶x+۱۲] \begin{bmatrix} -۱ \\ ۱ \end{bmatrix} = ۰ \rightarrow -۳x+۶-۶x+۱۲=۰ \rightarrow -۹x+۱۸=۰ \rightarrow x=۲$$

:۷

$$A^T = \begin{bmatrix} ۰ & ۲ \\ -۱ & ۰ \end{bmatrix} \times \begin{bmatrix} ۰ & ۲ \\ -۱ & ۰ \end{bmatrix} = \begin{bmatrix} -۲ & ۰ \\ ۰ & -۲ \end{bmatrix} = -۲ \begin{bmatrix} ۱ & ۰ \\ ۰ & ۱ \end{bmatrix} = -۲I$$

$$A^V = (A^T)^T \cdot A = (-۲I)^T \cdot A = -۲I^T A = -۲IA = -۲A = -۲ \begin{bmatrix} ۰ & ۲ \\ -۱ & ۰ \end{bmatrix}$$

:۸

$$A^T = B \rightarrow \begin{bmatrix} ۵ & ۲ & ۲ \\ ۲ & ۲ & -۱ \\ ۲ & -۱ & ۵ \end{bmatrix} = \begin{bmatrix} a+b & ۲ & ۲ \\ ۲ & ۲ & -۱ \\ ۲ & -۱ & ۴a+b \end{bmatrix} \rightarrow \begin{cases} a+b=۵ \\ ۴a+b=۵ \end{cases} \rightarrow a=۰, \quad b=۵$$

۹: نادرست

: ۱۰

$$A \times B = \begin{bmatrix} 4 & 2 \\ b & -1 \end{bmatrix} \times \begin{bmatrix} 2 & -1 \\ 2 & a \end{bmatrix} = \begin{bmatrix} 12 & -4+2a \\ 2b-2 & -b-a \end{bmatrix}$$

و چون در ماتریس قطری باید درایه های غیر واقع بر قطر اصلی صفر باشد، پس:

$$-4+2a=0 \rightarrow 2a=4 \rightarrow a=2 \quad \text{و} \quad 2b-2=0 \rightarrow 2b=2 \rightarrow b=1$$

: ۱۱

$$\begin{bmatrix} x & 3 \end{bmatrix} \begin{bmatrix} 1 & 0 \\ -1 & 4 \end{bmatrix} \begin{bmatrix} 3 \\ -1 \end{bmatrix} = 0 \rightarrow \begin{bmatrix} x-3 & 12 \end{bmatrix} \begin{bmatrix} 3 \\ -1 \end{bmatrix} = 0 \rightarrow 3x-21=0 \rightarrow x=7$$

۱۲: ندارد.

۱۳: نادرست

: ۱۴

$$[2x \quad 4x-2] = [4 \quad y-2] \rightarrow \begin{cases} 2x=4 \rightarrow x=2 \\ 4x-2=y-2 \rightarrow y=8 \end{cases}$$

: ۱۵

$$A \times B = \begin{bmatrix} 4 & a \\ b & -1 \end{bmatrix} \times \begin{bmatrix} 1 & -2 \\ 3 & 2 \end{bmatrix} = \begin{bmatrix} 4+3a & -8+2a \\ b-2 & -2b-2 \end{bmatrix}$$

$$\rightarrow \begin{cases} 2a-8=0 \rightarrow 2a=8 \rightarrow a=4 \\ b-3=0 \rightarrow b=3 \end{cases}$$

۱۶: درست

: ۱۷

$$\begin{cases} m-2=0 \\ n+1=0 \end{cases} \rightarrow m=2, \quad n=-1$$

$$AB = \begin{bmatrix} 2 & 0 & 0 \\ 0 & 3 & 0 \\ 0 & 0 & 3 \end{bmatrix} \times \begin{bmatrix} 2 & 1 & 1 \\ 2 & 0 & -1 \\ 3 & -1 & 2 \end{bmatrix} = \begin{bmatrix} 4 & 2 & 2 \\ 6 & 0 & -3 \\ 9 & -3 & 6 \end{bmatrix}$$

۱۸ : نادرست

: ۱۹

$$A \times B = \begin{bmatrix} 4 & a \\ b & -1 \end{bmatrix} \times \begin{bmatrix} 1 & -2 \\ 3 & 2 \end{bmatrix} = \begin{bmatrix} 4+3a & -8+2a \\ b-3 & -2b-2 \end{bmatrix}$$

$$\rightarrow \begin{cases} -8+2a=0 \rightarrow a=4 \\ b-3=0 \rightarrow b=3 \end{cases}$$

### درس ۲: وارون ماتریس و دترمینان

#### (\*) دترمینان

: ۱

$$\|A\| \cdot \|A\| = \|-2A\| = (-2)^3 \|A\| = -8 \times (-2) = 16$$

: ۲

$$\|A\| = 2(4-3) = 2 \rightarrow \|A^3\| = \|A\|^3 = 8$$

۳ : درایه های روی قطر اصلی

: ۴

$$\left| \frac{1}{|A|} \cdot A \right| = \left| \frac{1}{2} A \right| = \left( \frac{1}{2} \right)^3 \|A\| = \frac{1}{8} \times 2 = \frac{1}{4}$$

۵ : -۳۰

: ۶

$$A = \begin{bmatrix} 0 & 1 & 2 \\ 1 & 3 & 1 \\ 2 & 1 & 8 \end{bmatrix}$$

$$A \times B = \begin{bmatrix} 0 & 1 & 2 \\ 1 & 3 & 1 \\ 2 & 1 & 8 \end{bmatrix} \times \begin{bmatrix} 2 & 1 & 0 \\ -1 & 3 & 2 \\ 2 & 0 & 5 \end{bmatrix} = \begin{bmatrix} 3 & 3 & 12 \\ 1 & 10 & 11 \\ 19 & 5 & 42 \end{bmatrix}$$

$$|B| = 2(-1)^{1+1} \times \begin{vmatrix} 3 & 2 \\ 0 & 5 \end{vmatrix} + 1(-1)^{1+2} \times \begin{vmatrix} -1 & 2 \\ 2 & 5 \end{vmatrix} + 0(-1)^{1+3} \times \begin{vmatrix} -1 & 3 \\ 2 & 0 \end{vmatrix}$$

$$= 2(15) - 1(-9) + 0(-6) = 39$$

۷ : ۸-

۸ :

$$BA = \begin{bmatrix} 1 & -1 \\ 0 & 1 \\ 2 & 3 \end{bmatrix} \times \begin{bmatrix} 2 & 4 & 1 \\ -1 & 3 & 2 \end{bmatrix} = \begin{bmatrix} 3 & 1 & -1 \\ -1 & 3 & 2 \\ 1 & 17 & 8 \end{bmatrix}$$

$$|BA| = 3(-1)^{1+1} \times \begin{vmatrix} 2 & 1 \\ 17 & 8 \end{vmatrix} + 1(-1)^{1+2} \times \begin{vmatrix} -1 & 2 \\ 1 & 8 \end{vmatrix} + -1(-1)^{1+3} \times \begin{vmatrix} -1 & 3 \\ 1 & 17 \end{vmatrix}$$

$$|BA| = 3(-1 \cdot 0) - 1(-1 \cdot 0) - 1(-2 \cdot 0) = -3 \cdot 0 + 1 \cdot 0 + 2 \cdot 0 = 0$$

۹ : درست

۱۰ :

$$\begin{cases} m - 2 = 0 \\ n + 1 = 0 \end{cases} \rightarrow m = 2, n = -1$$

$$\rightarrow A = \begin{bmatrix} 2 & m - 2 \\ n + 1 & 1 \end{bmatrix} = \begin{bmatrix} 2 & 0 \\ 0 & 1 \end{bmatrix} \rightarrow |A| = 2$$

$$\rightarrow B = \begin{bmatrix} 2 & 1 & 1 \\ m & 0 & n \\ 3 & -1 & 2 \end{bmatrix} = \begin{bmatrix} 2 & 1 & 1 \\ 2 & 0 & -1 \\ 3 & -1 & 2 \end{bmatrix} \rightarrow |B| = 2(-1) - 1(7) + 1(-2) = -11$$

$$|A| + |B| = 2 + (-11) = -9$$

۱۱ : ابتدا دترمینان ماتریس  $A$  را محاسبه می کنیم. در اینجا این محاسبه را به روش ساروس انجام می دهیم.

$$\begin{bmatrix} -1 & \cdot & \cdot \\ \cdot & 2 & 2 \\ -4 & 4 & 5 \end{bmatrix} \begin{bmatrix} -1 & \cdot & \cdot \\ \cdot & 2 & 2 \\ -4 & 4 & 5 \end{bmatrix}$$

- - - + + +

$$|A| = (-1)(2)(5) + (\cdot)(2)(-4) + (\cdot)(\cdot)(4) - (\cdot)(2)(-4) - (\cdot)(\cdot)(5) - (-1)(2)(4)$$

$$\rightarrow |A| = -10 + 8 = -2$$

$$||A|A| = |-2A| = (-2)^3 |A| = (-8) \times (-2) = 16$$

$$\frac{5}{8} : 12$$

$$: 13$$

$$|A| = 2 \begin{vmatrix} 1 & -2 \\ 3 & 4 \end{vmatrix} = 2 \times 10 = 20$$

$$|B| = 3 \begin{vmatrix} -1 & \cdot \\ 3 & 2 \end{vmatrix} = 3 \times (-2) = -6 \rightarrow |B^T| = |B|^T = 36$$

$$|A| + |B^T| = 20 + 36 = 56$$

$$: 14$$

$$A = \begin{bmatrix} \cdot & 4 \\ 2 & 1 \end{bmatrix} \rightarrow A^T = A \times A = \begin{bmatrix} \cdot & 4 \\ 2 & 1 \end{bmatrix} \times \begin{bmatrix} \cdot & 4 \\ 2 & 1 \end{bmatrix} = \begin{bmatrix} 8 & 4 \\ 2 & 9 \end{bmatrix}$$

$$mA + 2I_T = m \begin{bmatrix} \cdot & 4 \\ 2 & 1 \end{bmatrix} + 2 \begin{bmatrix} 1 & \cdot \\ \cdot & 1 \end{bmatrix} = \begin{bmatrix} \cdot & 4m \\ 2m & m \end{bmatrix} + \begin{bmatrix} n & \cdot \\ \cdot & n \end{bmatrix} = \begin{bmatrix} n & 4m \\ 2m & m+n \end{bmatrix} \rightarrow \begin{cases} n=8 \\ m=1 \end{cases}$$

$$: 15$$

$$|A| = (4 - 9 - 4) - (-4 - 12 + 3) = -9 + 13 = 4$$

$$|B| = -6$$

$$|A+B| + |2I_T| = |A| \times |B| = 8 |I| = (4)(-6) + 8 = -24 + 8 = -16$$

۸ : ۱۶

: ۱۷

الف : خیر، زیرا دو ماتریس هم مرتبه نیستند.

ب :

$$A \times B = \begin{bmatrix} -۱ & ۱ \\ ۰ & ۲ \\ -۲ & ۳ \end{bmatrix} \times \begin{bmatrix} ۱ & -۱ & ۰ \\ -۲ & ۳ & -۲ \end{bmatrix} = \begin{bmatrix} -۳ & ۴ & -۲ \\ -۴ & ۶ & -۴ \\ -۸ & ۱۱ & -۶ \end{bmatrix} \rightarrow |A \times B| = ۰$$

۱۸ : درست

: ۱۹

$$B = \begin{bmatrix} ۰ & -۱ & -۱ \\ -۱ & ۰ & -۱ \end{bmatrix} \text{ و } A = \begin{bmatrix} -۱ & -۴ \\ ۱ & -۲ \\ ۳ & ۰ \end{bmatrix}$$

$$AB = \begin{bmatrix} -۱ & -۴ \\ ۱ & -۲ \\ ۳ & ۰ \end{bmatrix} \times \begin{bmatrix} ۰ & -۱ & -۱ \\ -۱ & ۰ & -۱ \end{bmatrix} = \begin{bmatrix} ۴ & ۱ & ۵ \\ ۲ & -۱ & ۱ \\ ۰ & -۳ & -۳ \end{bmatrix}$$

$$\rightarrow |AB| = ۴(۶) - ۱(-۶) + ۵(-۶) = ۰$$

: ۲۰

$$\|A \times A\| = \|۴A\| = ۴^۳ \|A\| = ۴^۳ \times ۴ = ۴^۴$$

### (\*) وارون ماتریس

۱ : غیر صفر

$$|A| = ۰ \rightarrow ۲m - ۴ = ۰ \rightarrow m = ۲$$

: ۲

۳ : -۶

۴ : الف : گیریم که  $|A| = d$  باشد. در این صورت :

$$d = ۵d - ۲۴ \rightarrow d = ۶$$

ب :

$$A^{-1} = \frac{1}{|A|} A^* = \frac{1}{6} \begin{bmatrix} 5 & -8 \\ -3 & 6 \end{bmatrix}$$

۵ : فرض کنید که  $|A| = d$  باشد. در این صورت :

$$2A = \begin{bmatrix} |A| & -4 \\ 1 & |A| \end{bmatrix} \rightarrow 2A = \begin{bmatrix} d & -4 \\ 1 & d \end{bmatrix} \rightarrow |2A| = \begin{vmatrix} d & -4 \\ 1 & d \end{vmatrix}$$

$$\rightarrow 2|A| = d^2 + 4 \rightarrow 2d = d^2 + 4 \rightarrow d^2 - 2d + 4 = 0 \rightarrow (d - 2)^2 = 0 \rightarrow d = 2$$

$$\rightarrow |A^{-1}| = \frac{1}{|A|} = \frac{1}{2}$$

۶ :

$$A^{-1} = \begin{bmatrix} 2 & -1 \\ 2 & 3 \end{bmatrix} \rightarrow |A^{-1}| = 8$$

$$A = (A^{-1})^{-1} = \frac{1}{|A^{-1}|} (A^{-1})^* = \frac{1}{8} \begin{bmatrix} 3 & 1 \\ -2 & 2 \end{bmatrix}$$

### (\*) حل دستگاه معادلات

۱ :

$$\begin{vmatrix} m-3 & 3 \\ 4 & m+1 \end{vmatrix} \neq 0 \rightarrow (m-3)(m+1) - 12 \neq 0 \rightarrow m \neq 5, m \neq -3$$

$$m \in R - \{5, -3\}$$

۲ :

$$\frac{m}{4} = \frac{3}{m+4} \neq \frac{-3}{2} \rightarrow m(m+4) - 12 = 0 \rightarrow \begin{cases} m = -6 \\ m = 2 \end{cases}$$

که  $m = -6$  قابل قبول نیست.

۳ : نادرست

:۴

$$\begin{cases} 3x + 2y = 4 \\ x - y = 3 \end{cases}$$

$$A = \begin{bmatrix} 3 & 2 \\ 1 & -1 \end{bmatrix} = (3)(-1) - (1)(2) = -3 - 2 = -5$$

$$A^{-1} = \frac{1}{|A|} A^* = \frac{1}{-5} \begin{bmatrix} -1 & -2 \\ -1 & 3 \end{bmatrix} = \begin{bmatrix} \frac{1}{5} & \frac{2}{5} \\ \frac{1}{5} & -\frac{3}{5} \end{bmatrix}$$

$$X = A^{-1}D \rightarrow X = \begin{bmatrix} \frac{1}{5} & \frac{2}{5} \\ \frac{1}{5} & -\frac{3}{5} \end{bmatrix} \times \begin{bmatrix} 4 \\ 3 \end{bmatrix} = \begin{bmatrix} \frac{4}{5} + \frac{6}{5} \\ \frac{4}{5} - \frac{9}{5} \end{bmatrix} = \begin{bmatrix} 2 \\ -1 \end{bmatrix} \Rightarrow x = 2, y = -1$$

:۵ نادرست

:۶

$$\begin{cases} 3x - 4y = 1 \\ -x + 2y = 1 \end{cases}$$

$$A = \begin{bmatrix} 3 & -4 \\ -1 & 2 \end{bmatrix} = (3)(2) - (-1)(-4) = 6 - 4 = 2$$

$$A^{-1} = \frac{1}{|A|} A^* = \frac{1}{2} \begin{bmatrix} 2 & 4 \\ 1 & 3 \end{bmatrix} = \begin{bmatrix} \frac{2}{2} & \frac{4}{2} \\ \frac{1}{2} & \frac{3}{2} \end{bmatrix} = \begin{bmatrix} 1 & 2 \\ \frac{1}{2} & \frac{3}{2} \end{bmatrix}$$

$$X = A^{-1}D \rightarrow X = \begin{bmatrix} 1 & 2 \\ \frac{1}{2} & \frac{3}{2} \end{bmatrix} \times \begin{bmatrix} 1 \\ 1 \end{bmatrix} = \begin{bmatrix} 1 + 2 \\ \frac{1}{2} + \frac{3}{2} \end{bmatrix} = \begin{bmatrix} 3 \\ 2 \end{bmatrix} \Rightarrow x = 3, y = 2$$

:۷

$$A = \begin{bmatrix} 3 & -5 \\ 2 & 1 \end{bmatrix} \longrightarrow |A| = 13 \neq 0. \text{ لذا دستگاه دارای جواب است.}$$



$$A^{-1} = \frac{1}{|A|} A^* = \frac{1}{13} \begin{bmatrix} 1 & 5 \\ -2 & 3 \end{bmatrix}$$

$$\begin{bmatrix} x \\ y \end{bmatrix} = A^{-1} D = \frac{1}{13} \begin{bmatrix} 1 & 5 \\ -2 & 3 \end{bmatrix} \begin{bmatrix} -1 \\ 8 \end{bmatrix} = \begin{bmatrix} 3 \\ 2 \end{bmatrix} \rightarrow x=3, y=2$$

: ۸

$$\begin{bmatrix} 1 & x \end{bmatrix} \begin{bmatrix} 2 & 4 \\ 1 & 2 \end{bmatrix} \begin{bmatrix} 2 \\ 1 \end{bmatrix} = \begin{bmatrix} 2+x & 4+2x \end{bmatrix} \begin{bmatrix} 2 \\ 1 \end{bmatrix} = 4+2x+4+2x=0 \rightarrow x=-2$$

: ۹

$$\frac{2m}{2} \neq \frac{3}{-1} \rightarrow m \neq -3$$

$$A = \begin{bmatrix} 4 & 3 \\ 2 & -1 \end{bmatrix} \rightarrow |A| = -10 \neq 0$$

$$A^{-1} = \frac{1}{|A|} A^* = \frac{1}{-10} \begin{bmatrix} -1 & -3 \\ -2 & 4 \end{bmatrix}$$

$$\begin{bmatrix} x \\ y \end{bmatrix} = \frac{1}{-10} \begin{bmatrix} -1 & -3 \\ -2 & 4 \end{bmatrix} \begin{bmatrix} 1 \\ 3 \end{bmatrix} \rightarrow \begin{bmatrix} x \\ y \end{bmatrix} = \begin{bmatrix} 1 \\ -1 \end{bmatrix} \rightarrow \begin{cases} x=1 \\ y=-1 \end{cases}$$

۱۰: دستگاه مورد انتظار مسئله به صورت زیر است.

$$\begin{cases} 3x - 5y = 1 \\ 4x + 2y = 10 \end{cases}$$

$$A = \begin{bmatrix} 3 & -5 \\ 4 & 2 \end{bmatrix} \rightarrow |A| = (3)(2) - (-5)(4) = 6 + 20 = 26$$

$$A^{-1} = \frac{1}{|A|} \times A^* = \frac{1}{26} \begin{bmatrix} 2 & 5 \\ -4 & 3 \end{bmatrix}$$

$$X = A^{-1} B = \frac{1}{26} \begin{bmatrix} 2 & 5 \\ -4 & 3 \end{bmatrix} \times \begin{bmatrix} 1 \\ 10 \end{bmatrix} = \begin{bmatrix} 2 \\ 1 \end{bmatrix} \rightarrow x=2, y=1$$

۱۱: نادرست

: ۱۲

الف :

$$\begin{vmatrix} 1 & -2 \\ m & 6 \end{vmatrix} = 0 \rightarrow 6 + 2m = 0 \rightarrow m = -3$$

ب :

$$A^{-1} = \frac{1}{10} \begin{bmatrix} 6 & 2 \\ -2 & 1 \end{bmatrix} \rightarrow \begin{bmatrix} x \\ y \end{bmatrix} = \frac{1}{10} \begin{bmatrix} 6 & 2 \\ -2 & 1 \end{bmatrix} \times \begin{bmatrix} 3 \\ -4 \end{bmatrix} \rightarrow \begin{bmatrix} x \\ y \end{bmatrix} = \begin{bmatrix} 1 \\ -1 \end{bmatrix} \rightarrow \begin{cases} x = 1 \\ y = -1 \end{cases}$$

: ۱۳

دستگاه دارای جواب است.  $|A| = 3 + 10 = 13$   $A = \begin{bmatrix} 3 & -5 \\ 2 & 1 \end{bmatrix}$

$$\begin{cases} 3x - 5y = -1 \\ 2x + y = 8 \end{cases}$$

$$A^{-1} = \frac{1}{13} \begin{bmatrix} 1 & 5 \\ -2 & 3 \end{bmatrix}, \quad B = \begin{bmatrix} -1 \\ 8 \end{bmatrix}$$

$$\rightarrow X = A^{-1}B = \frac{1}{13} \begin{bmatrix} 1 & 5 \\ -2 & 3 \end{bmatrix} \times \begin{bmatrix} -1 \\ 8 \end{bmatrix} = \frac{1}{13} \begin{bmatrix} -1 + 40 \\ 2 + 24 \end{bmatrix} = \begin{bmatrix} 3 \\ 2 \end{bmatrix} \rightarrow x = 3, y = 2$$

: ۱۴

$$A = \begin{bmatrix} 3 & -4 \\ 2 & 1 \end{bmatrix} \rightarrow |A| = 3 + 8 = 11 \text{ دستگاہ جواب دارد.}$$

$$A^{-1} = \frac{1}{|A|} A^* = \frac{1}{11} \begin{bmatrix} 1 & 4 \\ -2 & 3 \end{bmatrix}$$

$$\begin{bmatrix} x \\ y \end{bmatrix} = A^{-1}D = \frac{1}{11} \begin{bmatrix} 1 & 4 \\ -2 & 3 \end{bmatrix} \times \begin{bmatrix} 7 \\ 1 \end{bmatrix} = \begin{bmatrix} 1 \\ -1 \end{bmatrix} \rightarrow \begin{cases} x = 1 \\ y = -1 \end{cases}$$

: ۱۵

$$\frac{a}{a'} = \frac{b}{b'} = \frac{c}{c'} \rightarrow \frac{2}{m-1} = \frac{m}{1} \neq \frac{1}{3} \rightarrow m(m-1) = 2 \rightarrow \begin{cases} m = -1 \\ m = 2 \end{cases}$$

:۱۶

$$A = \begin{bmatrix} 2 & -1 \\ -4 & 3 \end{bmatrix}, X = \begin{bmatrix} x \\ y \end{bmatrix}, B = \begin{bmatrix} 4 \\ 2 \end{bmatrix} \rightarrow X = A^{-1}B = \frac{1}{2} \begin{bmatrix} 3 & 1 \\ 4 & 2 \end{bmatrix} \begin{bmatrix} 4 \\ 2 \end{bmatrix} = \begin{bmatrix} 7 \\ 10 \end{bmatrix}$$



## پاسخ سئوالات موضوعی نهایی

### فصل دوّم هندسه ۳ پایه دوازدهم ریاضی فیزیک

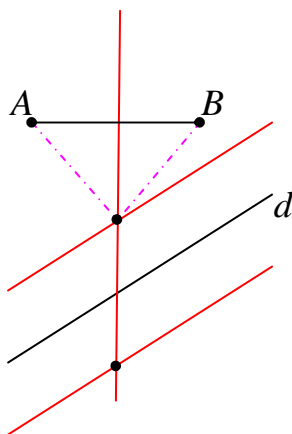
#### درس ۱: آشنایی با مقاطع مخروطی

#### (\*) مقاطع مخروطی

- |           |           |
|-----------|-----------|
| ۱: نادرست | ۵: بیضی   |
| ۲: درست   | ۶: خط     |
| ۳: درست   | ۷: نادرست |
| ۴: نقطه   | ۸: درست   |

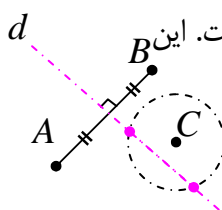
#### (\*) مکان هندسی

- ۱: نادرست  
 ۲: ویژگی مشترک  
 ۳: بیضی



۴: مکان هندسی نقاطی که از  $A$  و  $B$  به یک فاصله اند، عمود منصف  $AB$  و مکان هندسی نقاطی که از  $d$  به فاصله ۳ سانتی متر باشد، دو خط موازی  $d$  به فاصله ۳ سانتی متر در دو طرف آن هستند. بنابراین نقطه‌ی برخورد خط  $l$  (عمود منصف  $AB$ ) و دو خط موازی  $d'$  و  $d''$  خطوط موازی  $d$  جواب مسئله است.

**بحث:** اگر  $l$  یکی از دو خط  $d'$  و  $d''$  را قطع کند دیگری را هم قطع می کند و مسئله د جواب دارد. اگر  $l$  با دو خط  $d'$  و  $d''$  موازی باشد، مسئله جواب ندارد. اگر  $l$  بر یکی از دو خط  $d'$  و  $d''$  منطبق باشد. مسئله بیشمار جواب دارد.



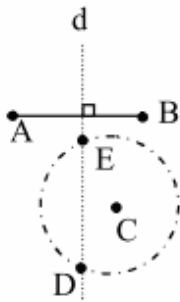
۵: مکان هندسی نقاطی که از  $A$  و  $B$  به یک فاصله باشند، عمود منصف پاره خط  $AB$  است. این خط را رسم می کنیم و آن را خط  $d$  می نامیم. مکان هندسی نقاطی که از نقطه‌ی  $C$  به فاصله ۳ سانتی متر باشند، یک دایره به مرکز  $C$  و شعاع ۳ سانتی متر است. این دایره را رسم می کنیم. محل برخورد دایره و خط  $d$  جواب مسأله است.

بحث :

اگر خط  $d$  دایره را قطع کند، مسأله دو جواب دارد.

اگر خط  $d$  بر دایره مماس باشد، مسأله یک جواب دارد.

اگر خط  $d$  دایره را قطع نکند، مسأله جواب ندارد.



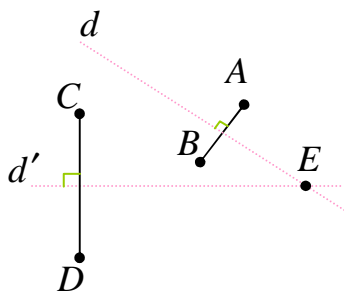
۶: مکان هندسی نقاطی که از  $A$  و  $B$  به یک فاصله اند، عمود منصف پاره خط  $AB$  و مکان هندسی نقاطی که از نقطه‌ی  $C$  به فاصله‌ی ۳ واحد است، دایره‌ای به مرکز  $C$  و شعاع ۳ است. بنابراین نقطه‌ی برخورد خط عمود منصف  $d$  و دایره جواب مسئله است که در شکل مقابل نقاط  $D$  و  $E$  می‌باشند. حال اگر خط عمود منصف  $d$  و دایره یکدیگر را در دو نقطه قطع کنند، مسئله دو جواب دارد و اگر مماس شوند، مسئله یک جواب و در صورتی که یکدیگر را قطع نکنند، مسئله جواب ندارد.

۷: درست

۸: مکان هندسی نقاطی که از  $A$  و  $B$  به یک فاصله اند، عمود منصف پاره خط  $AB$  است. این خط را  $d$  می‌نامیم و مکان هندسی نقاطی که اطراف دو نقطه‌ی  $C$  و  $D$  به یک فاصله باشد، عمود منصف پاره خط  $CD$  در

است. این خط را  $d'$  می‌نامیم. بنابراین نقطه‌ی برخورد خطوط  $d$  و  $d'$  جواب مسئله است. (نقطه‌ی  $E$ )

بحث :



اگر خطوط  $d$  و  $d'$  متقاطع باشند مسئله یک جواب دارد.

اگر خطوط  $d$  و  $d'$  منطبق باشند مسئله بیشمار جواب دارد.

اگر خطوط  $d$  و  $d'$  موازی باشند مسئله جواب ندارد.

۹: درست

۱۰: الف : درست ب : درست

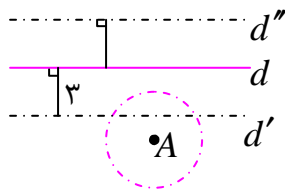
۱۱: درست

۱۲: مکان هندسی نقاطی که از  $A$  به فاصله‌ی سانتی متر باشند، یک دایره به مرکز  $A$  و شعاع ۲ سانتی متر است.

این دایره را رسم می‌کنیم. نقاطی که از  $d$  به فاصله‌ی ۳ سانتی متر باشد، دو خط  $d'$  و  $d''$  در طرفین خط  $d$  و به

موازات  $d$  است، این دو خط را رسم می‌کنیم، محل برخورد  $d'$  و  $d''$  با دایره، مطابق شکل جواب مسأله است.

اگر یکی از دو خط  $d'$  یا  $d''$  دایره را قطع کند، مسأله ۲ جواب دارد.



اگر یکی دو از دو خط  $d'$  یا  $d''$  بر دایره مماس باشد، مسأله یک جواب دارد.

اگر هیچ یک از دو خط  $d'$  یا  $d''$  دایره را قطع نکند، مسأله جواب ندارد.

۱۳: نادرست

۱۴: مشترک

۱۵: مشترک



### درس ۲: دایره

#### (\*) دایره

$$\text{مرکز دایره } O \begin{cases} \frac{4 + (-2)}{2} = 1 \\ \frac{-1 + 1}{2} = 0 \end{cases} \rightarrow O(1, 0) : 1$$

$$\text{طول شعاع دایره } r = \frac{AB}{2} = \frac{\sqrt{6^2 + 2^2}}{2} = \frac{2\sqrt{10}}{2} = \sqrt{10}$$

$$\text{معادله دایره } (x-1)^2 + (y-0)^2 = (\sqrt{10})^2 \rightarrow (x-1)^2 + y^2 = 10$$

: ۲

$$a^2 + b^2 - 4c > 0 \rightarrow 9 + 25 - 4a > 0 \rightarrow 4a < 34 \rightarrow a < \frac{17}{2}$$

: ۳

$$O(0, 0) \text{ و } O'(1, 0) \text{ و } r = 2 \text{ و } r' = \sqrt{5}$$

$$\text{طول خط المکزین } OO' = \sqrt{(1)^2 + (0)^2} = 1$$

$$\left. \begin{array}{l} r + r' = \sqrt{5} + 2 \\ |r - r'| = \sqrt{5} - 2 \end{array} \right\} \rightarrow |r - r'| < OO' < r + r' \rightarrow \text{دو دایره متقاطع می باشند.}$$

: ۴

$$\begin{cases} x + y = 1 \\ x - y = 3 \end{cases} \rightarrow \begin{cases} x = 2 \\ y = -1 \end{cases} \rightarrow O(2, -1)$$

$$R = \frac{|4(2) + 3(-1) + 5|}{\sqrt{4^2 + 3^2}} = \frac{10}{5} = 2 \text{ شعاع دایره } ۲$$

$$\rightarrow (x - 2)^2 + (y + 1)^2 = 4 \text{ معادلهی دایره}$$

: ۵

$$x^2 + y^2 - 2x - 2y = 3 \rightarrow O \begin{cases} \alpha = 1 \\ \beta = 1 \end{cases}$$

$$m_{OA} = \frac{3-1}{2-1} = 2 \rightarrow m' = -\frac{1}{2}$$

$$\rightarrow y - 3 = -\frac{1}{2}(x - 2) \text{ معادلهی خط مماس}$$

: ۶

$$x^2 + y^2 = 1 \rightarrow \begin{cases} O_1(0,0) \\ R_1 = 1 \end{cases}$$

$$x^2 + y^2 - 6x - 2y + 9 = 0 \rightarrow \begin{cases} O_2(-\frac{a}{2}, -\frac{b}{2}) \rightarrow O_2(3, 1) \\ R_2 = \frac{1}{2}\sqrt{a^2 + b^2 - 4c} = \frac{1}{2}\sqrt{36 + 4 - 36} = 1 \end{cases}$$

$$d = O_1O_2 = \sqrt{(3-0)^2 + (1-0)^2} = \sqrt{9+1} = \sqrt{10}$$

و چون  $d > R_1 + R_2$  لذا دو دایره متخارج هستند.

: ۷

$$r = OM = \sqrt{(1+2)^2 + (-1-3)^2} = 5 \text{ اندازهی شعاع دایره}$$

معادله‌ی دایره  $(x + 2)^2 + (y - 3) = 25$

۸: چون  $x^2 + y^2 = 2$  معادله‌ی دایره است. پس مرکز دایره و  $r = \sqrt{2}$  اندازه‌ی شعاع آن است.

$$\frac{x+y-2=0}{\rightarrow} d = \frac{|1(0) + 1(0) - 2|}{\sqrt{1+1}} = \sqrt{2} \rightarrow r = d$$

خط بر دایره مماس است.

۹: نادرست

: ۱۰

$(x + 1)^2 + (y - 2)^2 = 9 \rightarrow O'(-1, 2), r' = 3$

$d = OO' = \sqrt{3^2 + 4^2} = 5 \xrightarrow{d=r+r'} r + r' = 5 \xrightarrow{r'=3} r = 2$

معادله‌ی دایره‌ی مطلوب  $(x - 2)^2 + (y + 2)^2 = 4$

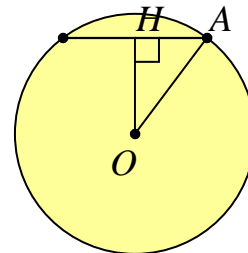
: ۱۱

$(x - 2)^2 + (y + 2)^2 = 1 \rightarrow O(2, 2), r = 1$

خط و دایره نقطه‌ی برخورد ندارند.  $d = \frac{|3(2) + 2|}{\sqrt{(3)^2 + (1)^2}} = \frac{8}{\sqrt{10}} \rightarrow d > r$

: ۱۲

$OH = \frac{|2(-1) + 1(-1) - 2|}{\sqrt{(2)^2 + (1)^2}} = \frac{5}{\sqrt{5}} = \sqrt{5}$



$\Delta(AOH): \xrightarrow{\angle H=90^\circ} OH^2 + AH^2 = OA^2 \rightarrow (\sqrt{5})^2 + (2)^2 = R^2 \rightarrow R = 3$

$\rightarrow (x + 1)^2 + (y + 1)^2 = 9$

۱۳: ابتدا مرکز و شعاع دایره را به دست می آوریم.

$x^2 + y^2 - 2x + 2y = 0 \rightarrow \begin{cases} O(1, -1) \\ R = \sqrt{2} \end{cases}$

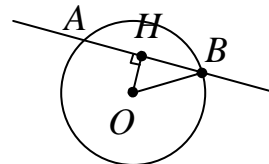


$$OA = 1 \rightarrow OA < R$$

لذا نقطه‌ی داده شده ، داخل دایره است.

۱۴: برای نوشتن معادله ی دایره ، به مختصات مرکز دایره و اندازه ی شعاع دایره نیاز است.

در اینجا مختصات مرکز دایره را داریم. اما برای تعیین اندازه‌ی شعاع دایره کافی است از مثلث قائم الزاویه‌ی  $OBH$  کمک بگیریم. طبق قضایای هندسه می دانیم که اگر از مرکز دایره بر وتر عمودی رسم کنیم، آن وتر نصف می شود.



پس:

$$BH = \frac{AB}{2} = \frac{2\sqrt{2}}{2} = \sqrt{2}$$

برای محاسبه‌ی اندازه‌ی  $OH$  کافی است، فاصله‌ی مرکز دایره را تا خط  $x + y = 2$  به دست آوریم.

$$OH = \frac{|a\alpha + b\beta + c|}{\sqrt{a^2 + b^2}} = \frac{|1(1) + 1(1) - 2|}{\sqrt{(1)^2 + (1)^2}} = \frac{|1(0) + 1(1) - 2|}{\sqrt{(1)^2 + (1)^2}} = \frac{1}{\sqrt{2}}$$

لذا:

$$\Delta(OBH): OB^2 = OH^2 + BH^2 \xrightarrow{OB=R} R^2 = \left(\frac{1}{\sqrt{2}}\right)^2 + (\sqrt{2})^2 = \frac{5}{2}$$

در نهایت معادله‌ی دایره را به شکل زیر می نویسیم.

$$(x - \alpha)^2 + (y - \beta)^2 = R^2 \rightarrow (x - 0)^2 + (y - 1)^2 = \frac{5}{2}$$

۱۵:

$$x^2 + y^2 - 2x - 4 = 0$$

$$\xrightarrow{a=-2, b=0, c=-4} \begin{cases} O_1 \left(-\frac{a}{2}, -\frac{b}{2}\right) \rightarrow O_1(-1, 0) \\ R_1 = \frac{1}{2} \sqrt{a^2 + b^2 - 4c} = \frac{1}{2} \sqrt{4 + 0 + 16} = \sqrt{5} \end{cases}$$

$$x^2 + y^2 = 4 \rightarrow \begin{cases} O_2(0, 0) \\ R_2 = 2 \end{cases}$$

$$d = O_1O_2 = \sqrt{(-1-0)^2 + (0-0)^2} = 1 \text{ طول خط‌المركزين}$$

$$R_1 + R_2 = \sqrt{5} + 2$$

$$R_1 - R_2 = \sqrt{5} - 2$$

$$\sqrt{5} - 2 < 1 < \sqrt{5} + 2 \rightarrow R_1 - R_2 < d < R_1 + R_2$$

پس یعنی دو دایره متقاطع هستند.

۱۶: نادرست

۱۷:

$$R = \frac{|a\alpha + b\beta + c|}{\sqrt{a^2 + b^2}} = \frac{|4(3) + 3(1) + 5|}{\sqrt{(4)^2 + (3)^2}} = \frac{20}{5} = 4$$
 شعاع دایره

$$(x - \alpha)^2 + (y - \beta)^2 = R^2 \rightarrow (x - 3)^2 + (y - 1)^2 = 16$$
 معادله‌ی دایره

۱۸:

$$x^2 + y^2 - 2x + 4y + 3 = 0 \rightarrow x^2 - 2x + y^2 + 4y = -3$$

$$\rightarrow (x^2 - 2x + 1) + (y^2 + 4y + 4) = -3 + 1 + 4 \rightarrow (x - 1)^2 + (y + 2)^2 = 2$$

$$R = \sqrt{2} \quad \text{اندازه‌ی شعاع دایره} \quad O(1, -2) \quad \text{مختصات مرکز دایره}$$

اکنون فاصله‌ی مرکز دایره تا خط داده شده را تعیین نموده و اندازه‌ی شعاع دایره مقایسه می‌کنیم.

$$D = \frac{|a\alpha + b\beta + c|}{\sqrt{a^2 + b^2}} = \frac{|(1)(1) + (-1)(-2) + (-1)|}{\sqrt{(1)^2 + (-1)^2}} = \frac{1 + 2 - 1}{\sqrt{1 + 1}} = \frac{2}{\sqrt{2}} = \sqrt{2}$$

و چون  $D = R$  پس خط داده شده بر دایره مماس است.

۱۹:

$$x^2 - 8x + y^2 + 4y = -16 \rightarrow (x^2 - 8x + 16) + (y^2 + 4y + 4) = -16 + 16 + 4$$

$$\rightarrow (x - 4)^2 + (y + 2)^2 = 4 \quad \text{معادله‌ی دایره}$$

$$R' = \sqrt{4} = 2 \quad \text{اندازه‌ی شعاع دایره} \quad O'(4, 2) \quad \text{مختصات مرکز دایره}$$

$$OO' = \sqrt{(۴)^2 + (۳)^2} = \sqrt{۱۶ + ۹} = ۵ \quad \text{طول خط المکزین}$$

$$|R - R'| = OO' \rightarrow |R - ۲| = ۵ \rightarrow \begin{cases} R = ۷ \\ R = -۳ \end{cases}$$

$R = -۳$  غیر قابل قبول است. لذا معادله‌ی دایره‌ی مماس می شود.

$$(x - ۰)^2 + (y - ۱)^2 = ۴۹ \quad \text{معادله‌ی دایره‌ی مطلوب}$$

۲۰: نادرست

۲۱:

$$\begin{cases} x + y = ۱ \\ x - y = ۳ \end{cases} \xrightarrow{x=۲, y=-۱} R = \frac{|۴(۲) + ۳(-۱) + ۵|}{\sqrt{۴^2 + ۳^2}} = \frac{۱۰}{۵} = ۲ \quad \text{شعاع دایره}$$

مرکز دایره  $O(۲, -۱)$  و شعاع دایره برابر  $R = ۲$  است و لذا معادله‌ی دایره می شود،

$$(x - ۲)^2 + (y + ۱)^2 = ۴$$

۲۲:

$$(x - ۱)^2 + y^2 = ۱ \rightarrow \begin{cases} O_1(۱, ۰) \\ R_1 = ۱ \end{cases} \quad \text{و} \quad x^2 + (y - ۱)^2 = ۱ \rightarrow \begin{cases} O_2(۰, ۱) \\ R_2 = ۱ \end{cases}$$

فاصله‌ی دو مرکز برابر  $O_1O_2 = \sqrt{۲}$  و  $R_1 + R_2 = ۲$  و  $R_1 - R_2 = ۰$

$$|R_1 - R_2| < O_1O_2 < R_1 + R_2$$

بنابراین دو دایره‌ی متقاطع اند.

۲۳: فاصله‌ی مرکز دایره تا خط مماس بر دایره برابر است با:

$$R = \frac{|۳(۲) + ۴(۱) + ۵|}{\sqrt{(۳)^2 + (۴)^2}} = \frac{۱۵}{۵} = ۳ \quad \text{شعاع دایره}$$

$$(x - \alpha)^2 + (y - \beta)^2 = R^2 \rightarrow (x - ۲)^2 + (y - ۱)^2 = ۹ \quad \text{معادله‌ی دایره}$$

۲۴:

$$x^2 + y^2 - 6x - 2y + 9 = 0 \rightarrow (x-3)^2 + (y-1)^2 = 1 \rightarrow \begin{cases} O(3,1) \\ R=1 \end{cases}$$

$$x^2 + y^2 = 1 \rightarrow \begin{cases} O'(0,0) \\ R'=1 \end{cases}$$

$$d = OO' = \sqrt{(3-0)^2 + (1-0)^2} = \sqrt{9+1} = \sqrt{10} \quad \text{اندازه‌ی خط‌المركزين}$$

$$R + R' = 1 + 1 = 2$$

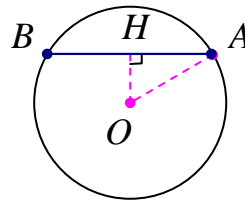
$$\rightarrow d > R + R'$$

لذا دو دایره بیرون یکدیگرند (متخارج)

۲۵: نادرست

۲۶: از مرکز دایره بر وتر عمود می‌کنیم. عمود  $OH$  و وتر  $AB$  را نصف می‌کند.

$$OH = \frac{|(1)(0) + (1)(1) + (-2)|}{\sqrt{(1)^2 + (1)^2}} = \frac{1}{\sqrt{2}} = \frac{\sqrt{2}}{2}$$



$$OA^2 = OH^2 + AH^2 \rightarrow OA^2 = \left(\frac{\sqrt{2}}{2}\right)^2 + (\sqrt{2})^2 \rightarrow OA^2 = \frac{1}{4} \rightarrow R^2 = \frac{1}{4}$$

$$(x-0)^2 + (y-1)^2 = \frac{1}{4} \quad \text{معادله‌ی دایره}$$

۲۷:

مختصات مرکز دایره  $O(1,1)$

$$AO \text{ شیب } m = \frac{3-1}{2-1} = 2$$

$$A \text{ از } m' = -\frac{1}{m} = -\frac{1}{2}$$

$$y = m(x - x_A) + y_A \rightarrow y = -\frac{1}{2}(x-2) + 3$$

: ۲۸

$$R = OM = \sqrt{(1-2)^2 + (1-3)^2} = \sqrt{5}$$

$$(x-2)^2 + (y-3)^2 = 5 \quad \text{معادله‌ی دایره}$$

: ۲۹

$$x^2 + y^2 - 2x - 2y = 3 \rightarrow (x-1)^2 + (y-1)^2 = 5$$

مختصات مرکز دایره  $O(1,1)$

$$m_{OA} = \frac{3-1}{2-1} = 2 \rightarrow m' = -\frac{1}{m} = -\frac{1}{2} \quad \text{شیب خط مماس}$$

$$y-2 = -\frac{1}{2}(x-3) \quad \text{معادله‌ی خط مماس}$$

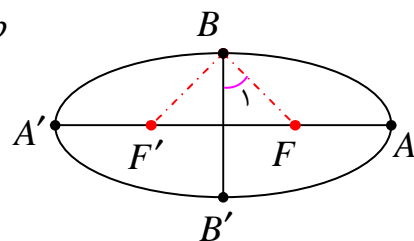


### درس ۳: بیضی و سهمی

(\*) بیضی

: ۱

$$a = 2b \rightarrow c^2 = a^2 - b^2 = 4b^2 - b^2 = 3b^2 \rightarrow c = \sqrt{3}b$$



$$\tan B_1 = \frac{OF}{OB} = \frac{c}{b} = \frac{\sqrt{3}b}{b} = \sqrt{3} \rightarrow B_1 = 60^\circ \rightarrow FBF' = 2 \times 60 = 120^\circ$$

: ۲ دایره

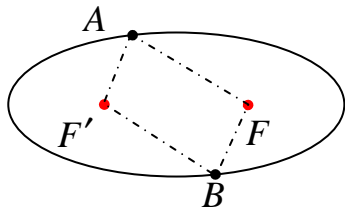
: ۳

$$\frac{c}{a} = \frac{3}{5} \rightarrow c = \frac{3}{5}a, \quad b = 8 \xrightarrow{a^2 = b^2 + c^2} a^2 = 64 + \frac{9}{25}a^2 \rightarrow a = 10, \quad c = 6$$

لذا طول قطر بزرگ ۲۰ و فاصله‌ی کانونی ۱۲ می باشند.

۴: دو نقطه‌ی  $A$  و  $B$  را به کانون‌های بیضی وصل می‌کنیم.

نقطه‌ی  $A$  روی بیضی قرار دارد. بنا بر تعریف بیضی



$$AF + AF' = 2a \quad (1)$$

نقطه‌ی  $B$  روی بیضی قرار دارد. بنا بر تعریف بیضی

$$BF + BF' = 2a \quad (2)$$

از (۱) و (۲) و فرض  $(AF' = BF)$  نتیجه می‌شود:  $AF = BF'$

بنابراین چهارضلعی  $AFBF'$  متوازی الاضلاع است و چون در هر متوازی الاضلاع، ضلع‌های روبرو موازی اند،

پس:  $AF \parallel BF'$

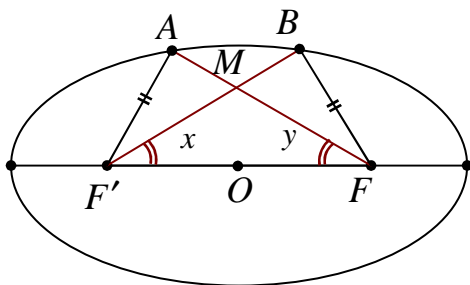
۵:

$$AA' = \sqrt{(2-2)^2 + (12+8)^2} = 20 \xrightarrow{AA'=2a} 2a = 20 \rightarrow a = 10$$

$$e = \frac{c}{a} \xrightarrow{e=\frac{3}{5}} \frac{c}{10} = \frac{3}{5} \xrightarrow{a=10} c = \frac{3}{5} \cdot 10 = 6$$

$$FF' = 2c \xrightarrow{c=6} FF' = 12 \quad \text{فاصله‌ی کانونی}$$

۶:



$$\left. \begin{aligned} AF + AF' &= 2a \\ BF + BF' &= 2a \\ BF &= AF' \end{aligned} \right\} \rightarrow AF = BF'$$

$$\left. \begin{aligned} AF &= BF' \\ AF' &= BF \\ FF' &= FF' \end{aligned} \right\} \rightarrow \Delta(AFF') \cong \Delta(BFF') \rightarrow \angle x = \angle y$$

(ض ض ض)

پس مثلث  $FMF'$  دو زاویه‌ی مساوی دارد، لذا متساوی الساقین است.

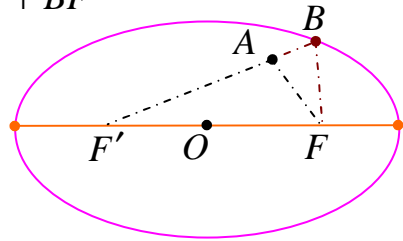
۷: چون نقطه‌ی  $A$  درون بیضی باشد، در این صورت امتداد  $AF$  (یا  $AF'$ ) بیضی را در نقطه‌ای مانند  $B$  قطع می‌کند.

اکنون با توجه با نامساوی مثلث در مثلث  $ABF$  می‌توان نوشت:

$$AF < AB + BF \xrightarrow{+AF'} AF + AF' < AF' + AB + BF$$

$$\rightarrow AF + AF' < \underbrace{AF' + AB + BF}_{BF'} \rightarrow AF + AF' < BF + BF'$$

$$\xrightarrow{BF + BF' = 2a} AF + AF' < 2a$$



: ۸

$$\begin{cases} 2a = 10 \rightarrow a = 5 \\ 2b = 6 \rightarrow b = 3 \end{cases} \xrightarrow{a^2 = b^2 + c^2} c = 4$$

$$e = \frac{c}{a} = \frac{4}{5}$$

: ۹ درست

: ۱۰

$$c^2 = a^2 - b^2 = 25 - 9 = 16 \rightarrow c = 4$$

$$FF' = 2c = 2(4) = 8$$

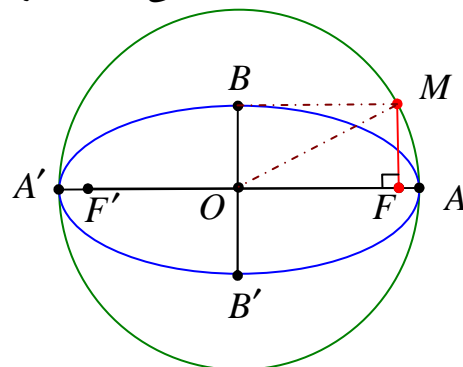
$$MF + MF' = 2a = 10 \rightarrow MF' = 10 - MF$$

$$(MF)^2 + (MF')^2 = (FF')^2 \rightarrow (MF)^2 + (10 - MF)^2 = (8)^2 \rightarrow MF = 5 \pm \sqrt{7}$$

: ۱۱ بیرون

: ۱۲ نادرست

: ۱۳ طبق مسئله  $OM = OA = a$  می باشد. لذا در مثلث قائم الزاویه  $OMA$  می توان نوشت:



$$OM = OA = a$$

$$OF = c$$

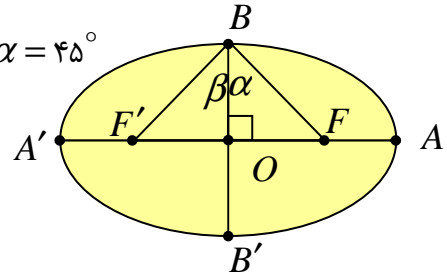
$$OM^2 = OF^2 + MF^2$$

$$\rightarrow a^2 = c^2 + MF^2 \rightarrow MF^2 = a^2 - c^2 \xrightarrow{a^2 = b^2 + c^2} MF^2 = b^2 \rightarrow MF = b$$

: ۱۴

$$2a = \sqrt{2} \rightarrow a = b\sqrt{2} \rightarrow \cos \alpha = \frac{OB}{BF} = \frac{b}{b\sqrt{2}} = \frac{1}{\sqrt{2}} \rightarrow \alpha = 45^\circ$$

$$\angle FBF' = 2 \times 45 = 90^\circ$$



: ۱۵

$$BB' = 2b = 24 \rightarrow b = 12$$

$$OF = c = 5$$

$$a^2 = b^2 + c^2 \rightarrow a^2 = 144 + 25 \rightarrow a^2 = 169 \rightarrow a = 13$$

$$e = \frac{c}{a} = \frac{5}{13}$$

: ۱۶ صفر

: ۱۷

$$\text{قطر بزرگ } AA' = 2a = 20 \rightarrow a = 10$$

$$\text{خروج از مرکز بیضی } e = \frac{c}{a} \rightarrow \frac{4}{5} = \frac{c}{10} \rightarrow c = 8$$

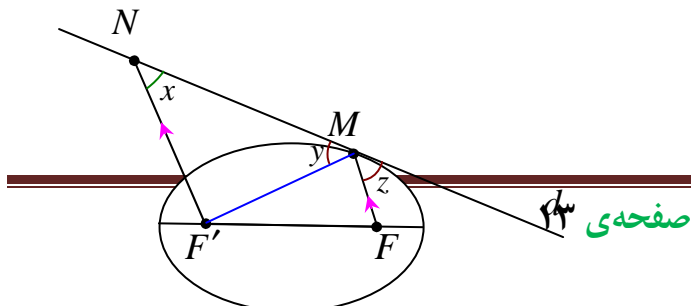
$$\text{فاصله ی کانونی } FF' = 2c = 2 \times 8 = 16$$

$$\text{رابطه ی طلایی بیضی } a^2 = b^2 + c^2 \rightarrow 100 = b^2 + 64 \rightarrow b^2 = 36 \rightarrow b = 6$$

$$\text{طول قطر بزرگ بیضی } BB' = 2b = 2 \times 6 = 12$$

: ۱۸ طبق ویژگی خط مماس بر بیضی

داریم،  $\angle y = \angle z$  و چون  $NF' \parallel MF$





پس  $\angle x = \angle z$ . لذا  $\angle x = \angle y$

یعنی مثلث  $NF'M$  دو زاویه‌ی مساوی دارد،

در نتیجه متساوی الساقین بوده و  $NF' = MF'$

۱۹ : ۲

۲۰ :

$$\left. \begin{array}{l} OF = c = ۴ \\ OA = a = ۸ \end{array} \right\} \xrightarrow{a^2 = b^2 + c^2} ۶۴ = b^2 + ۱۶ \rightarrow b^2 = ۴۸ \rightarrow b = ۴\sqrt{۳}$$

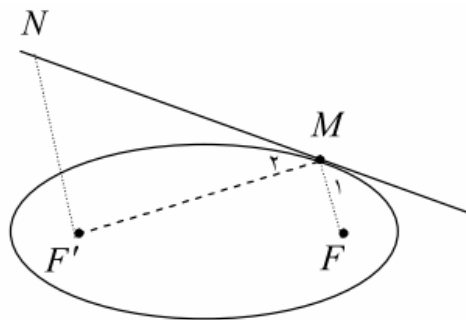
$BB' = ۲b = ۸\sqrt{۳}$  طول قطر کوچک

۲۱ : مجموع  $MF + MF'$  کمترین مقدار است. بنا به خاصیت کوتاه‌ترین مسیر، زاویه‌های  $\angle M_1 = \angle M_2$ .

از طرفی چون  $NF' \parallel MF$  و  $d$  مورب است، پس  $\angle N = \angle M_1$

اکنون از این دو نتیجه می‌توان نوشت:  $\angle N = \angle M_2$

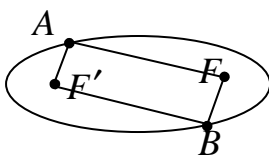
یعنی مثلث  $MNF'$  متساوی الساقین است و لذا:  $MF' = NF'$



۲۲ : نقاط  $A$  و  $B$  را به کانون‌های بیضی وصل می‌کنیم.

نقطه‌ی  $A$  روی بیضی قرار دارد، بنا به تعریف بیضی  $AF + AF' = ۲a$

نقطه‌ی  $B$  روی بیضی قرار دارد، بنا به تعریف بیضی  $BF + BF' = ۲a$



از (۱) و (۲) و فرض  $(AF' = BF)$  نتیجه می شود  $AF = BF'$

بنابراین چهارضلعی  $AFBF'$  یک متوازی الاضلاع است، پس  $AF \parallel BF'$

۲۳: دایره

۲۴: نقطه‌ی  $B$  روی عمود منصف پاره خط  $FF'$  قرار دارد. در نتیجه:  $BF = BF'$

فاصله‌ی هر نقطه روی بیضی از دو کانون برابر است با قطر بزرگ بیضی:

$$BF + BF' = 2a \xrightarrow{BF=BF'} BF = BF' = a$$

بنابر رابطه‌ی فیثاغورث در مثلث  $BOF$  داریم:  $OF^2 + OB^2 = BF^2$  یعنی  $b^2 + c^2 = a^2$

۲۵:

$$\begin{cases} 2a = 10 \\ 2b = 6 \end{cases} \rightarrow a = 5, b = 3 \xrightarrow{a^2 = b^2 + c^2} c = 4$$

در مثلث  $MFF'$  میانه‌ی وارد بر یک ضلع  $4 = \frac{1}{2}FF' = MO$  نصف ضلع روبرو است. در نتیجه مثلث  $MFF'$  قائم الزاویه است.

$$MF + MF' = 2a = 10 \rightarrow MF' = 10 - MF$$

$$MF^2 + MF'^2 = FF'^2 \rightarrow MF^2 + (10 - MF)^2 = 8^2 \rightarrow MF = 5 - \sqrt{7}$$

۲۶: نقطه‌ی  $A$  و  $A'$  روی بیضی قرار دارند، بنابه تعریف داریم  $AF' + AF = 2a$  و  $A'F' + A'F = 2a$

نتیجه می گیریم که:

$$A'F' + A'F = AF + AF' \rightarrow A'F' + (A'F' + FF') = AF + (AF + FF')$$

$$\rightarrow A'F' = AF$$

۲۷:

$$\cos(\angle OBF) = \frac{OB}{BF} \xrightarrow{BF=a, OB=b} \cos(\angle OBF) = \frac{b}{a} = \frac{\sqrt{3}}{2}$$

$$\rightarrow \angle OBF = 30^\circ \rightarrow \angle F'BF = 2(\angle OBF) = 60^\circ$$

خارج : ۳۰

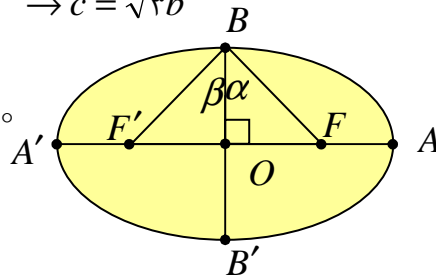
نادرست : ۲۹

پاره خط : ۲۸

: ۳۱

$$a = 2b \rightarrow c^2 = a^2 - b^2 = 4b^2 - b^2 = 3b^2 \rightarrow c = \sqrt{3}b$$

$$\tan \alpha = \frac{OF}{OB} = \frac{c}{b} = \frac{\sqrt{3}b}{b} = \sqrt{3} \rightarrow \alpha = 30^\circ$$



$$FBF' = 2\alpha = 2 \times 30 = 60$$

: ۳۲

نقطه‌ی  $B$  روی بیضی است  $BF + BF' = 2a$

از طرفی نقطه‌ی  $B$  روی عمود منصف پاره خط  $FF'$  قرار دارد، بنابراین  $BF = BF' = a$

در مثلث قائم الزاویه‌ی  $OBF$  داریم،  $OB^2 + OF^2 = BF^2$  و لذا  $b^2 + c^2 = a^2$

### (\*) سهمی

۱ : با توجه به جایگاه رأس و کانون این سهمی در دستگاه مختصات معلوم می شود که سهمی قائم رو به پایین می

باشد و لذا :

$p = 4$  پارامتر سهمی

$$(x-1)^2 = -16(y-2)$$

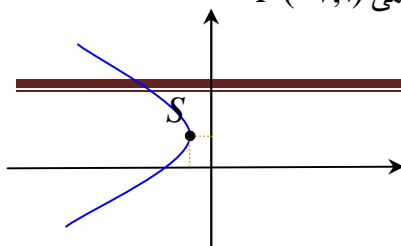
$y = 6$  معادله‌ی خط هادی

۲ : الف :

$$y^2 - 2y + 8x + 9 = 0 \rightarrow y^2 - 2y + 1 = -8x - 8 \rightarrow (y-1)^2 = -8(x+1)$$

رأس سهمی  $S(-1, 1)$

دهانه‌ی سهمی به سمت چپ و  $p = 2$ ، معادله‌ی خط هادی  $x = 1$ ، کانون سهمی  $F(-3, 1)$



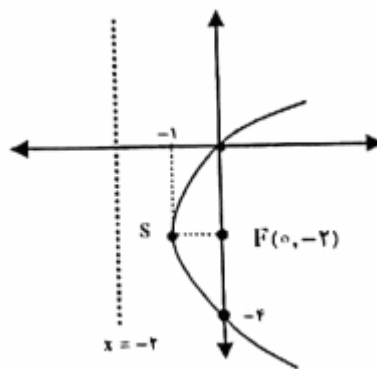
ب: نقاط کمکی  $B(-3,5)$  و  $B'(-3,-3)$

۳:

$$y^2 = 4x - 4y \rightarrow y^2 + 4y = 4x + 4 \rightarrow (y + 2)^2 = 4(x + 1)$$

سهمی افقی مثبت  $x = -2$  خط هادی  $F(0, -2)$  کانون سهمی  $S(-1, -2)$  رأس سهمی

نقاط کمکی برای ترسیم  $(0, 4)$  و  $(0, 0)$



۴: سهمی

۵: الف: با توجه به جایگاه رأس و خط هادی، دهانه سهمی رو به پایین است و  $a = 4$

$$(x - 2)^2 = -16(y - 3)$$

$$-4p = -16 \rightarrow p = 4$$

ب: مختصات کانون سهمی برابر  $F(2, 3 - 4) \rightarrow F(2, -1)$

۶:

$$y^2 = 4(x - 1)$$

پارامتر سهمی  $4p = 4 \rightarrow p = 1$  و رأس سهمی  $S(1, 0)$

کانون سهمی  $F(2, 0)$

$$(x - 2)^2 + y^2 = 9$$

$$\begin{cases} y^2 = 4x - 4 \\ y^2 = -x^2 + 4x + 5 \end{cases} \rightarrow -x^2 + 4x + 5 = 4x - 4 \rightarrow x = \pm 3$$

که پاسخ  $x = -3$  غیر ممکن است.

$$\rightarrow \begin{cases} M(3, 2\sqrt{2}) \\ M'(3, -2\sqrt{2}) \end{cases} \text{ نقاط برخورد سهمی و دایره}$$

۷: کانون سهمی

۸:

$$x^2 - 4y + 8x = 0 \rightarrow x^2 + 8x + 16 = 4y + 16 \rightarrow (x + 4)^2 = 4(x + 4)$$

سهمی قائم و رو بالا است.

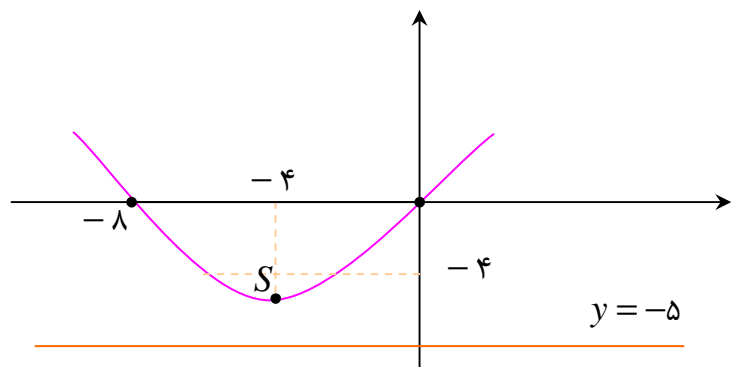
رأس سهمی  $S(-4, -4)$

$$4p = 4 \rightarrow p = 1 \text{ پارامتر سهمی}$$

$$F(\alpha, \beta + p) \rightarrow F(-4, -4 + 1) \rightarrow F(-4, -3) \text{ کانون سهمی}$$

$$y = \beta - p \rightarrow y = -4 - 1 = -5 \text{ معادله خط هادی سهمی}$$

$$y = -3 \rightarrow \begin{cases} B(-2, -3) \\ B'(-6, -3) \end{cases} \text{ نقاط کمکی}$$



۹:

$$y^2 = 4(x - 1) \rightarrow S(1, 0), F(2, 0)$$

$$(x - 2)^2 + y^2 = 9 \text{ معادله دایره}$$

$$\begin{cases} y^2 = 4x - 4 \\ (x - 2)^2 + y^2 = 9 \end{cases} \rightarrow (x - 2)^2 + 4x - 4 = 9 = x^2 - 4x + 4 + 4x - 4 = 9$$

$$\rightarrow x^2 = 9 \rightarrow x = \pm 3$$

$$\rightarrow \begin{cases} M(3, 2\sqrt{2}) \\ M'(3, -2\sqrt{2}) \end{cases}$$

: ۱۰

$$x^2 + 4x = 2y \xrightarrow{+4} x^2 + 4x + 4 = 2y + 4 \rightarrow (x+2)^2 = 2(y+2)$$

با مشاهدهی این معادله، معلوم می شود که سهمی، قائم رو به بالا است و پارامتر سهمی  $p = \frac{1}{2}$  می باشد.

$$4p = 2 \rightarrow p = \frac{1}{2}$$

مختصات رأس سهمی هم به صورت  $(-2, -2)$  است.

مختصات کانون سهمی را هم می توان به صورت زیر تعیین نمود.

$$F(\alpha, \beta + p) \rightarrow F(-2, -2 + \frac{1}{2}) \rightarrow F(-2, -\frac{3}{2})$$

برای تعیین مختصات نقاط برخورد سهمی با محورهای مختصات یک بار  $x$  و یک بار  $y$  را برابر صفر قرار می دهیم.  
لذا

$$y = 0 \xrightarrow{x^2 = 2y - 4x} x^2 = 2(0) - 4x \rightarrow x = 0, x = -4$$

$$\rightarrow A(0, 0), B(-4, 0)$$

$$x = 0 \xrightarrow{x^2 = 2y - 4x} (0)^2 = 2y - 4(0) \rightarrow y = 0 \rightarrow C(0, 0)$$

: ۱۱ نقطه

: ۱۲

$$y^2 - 6y + 16x + 25 = 0 \rightarrow y^2 - 6y + 9 = -16x - 16 \rightarrow (y-3)^2 = -16(x+1)$$

لذا فرم استاندارد سهمی به صورت  $(y-3)^2 = -16(x+1)$  است. سهمی افقی و دهانهی سهمی به سمت چپ باز می شود. رأس سهمی نقطه  $S(-1, 3)$  است و  $p = 4$  مختصات کانون آن نقطه

$F(\alpha - p, \beta) = (-5, 3)$  است. معادله‌ی خط هادی سهمی به صورت  $x = p + \alpha = 3$  است.

۱۳: با توجه به جایگاه رأس و خط هادی، سهمی قائم و دهانه‌ی سهمی رو به بالا است و  $p = 3$  فرم استاندارد سهمی به صورت:

$$(x - h)^2 = 4p(y - k) \rightarrow (x - 4)^2 = 12(y - 6)$$

$$\left(\frac{1}{2}, 1\right) : 14$$

۱۵: با توجه به جایگاه رأس و کانون این سهمی در دستگاه مختصات خواهیم داشت:

سهمی رو به پایین و  $a = 4$

$$(x - 1)^2 = -16(y - 2) \text{ معادله‌ی سهمی}$$

معادله‌ی خط هادی  $y = 6$

۱۶: درست

۱۷ الف: با استفاده از جایگاه رأس و خط هادی سهمی قائم در دستگاه مختصات خواهیم داشت:  $p = 4$

دهانه‌ی سهمی رو به پایین است و لذا معادله‌ی سهمی می‌شود  $(x - 2)^2 = -4(4)(y - 3)$

ب: مختصات کانون سهمی می‌شود  $F(2, -1)$

۱۸: اگر قطر دهانه دیش را با  $2b$  و گودی آن را با  $h$  نمایش دهیم. فاصله‌ی کانونی برابر  $p = \frac{b^2}{4h}$

است. اکنون با توجه به این مسأله داریم:

$$\begin{cases} 2b = 60 \rightarrow b = 30 \\ h = 9 \end{cases} \rightarrow p = \frac{4b^2}{16h} = \frac{b^2}{4h} = \frac{900}{4(9)} = 25$$

: ۱۹

$$y^2 - 2y + 1 = -8x - 9 + 1 \rightarrow (y - 1)^2 = -8(x + 1)$$

سهمی افقی رو به سمت چپ  $p = 2 \rightarrow -4p = -8$

مختصات رأس  $S(-1, 1) \rightarrow$

مختصات کانون  $F(-3, 1)$

$x = 1$  معادله‌ی خط هادی

:۲۰

$$y^2 = 2x + 4y \rightarrow (y - 2)^2 = 2(x + 2)$$

نوع سهمی افقی رو به راست می باشد. مختصات رأس سهمی  $(-2, 2)$  و پارامتر سهمی برابر  $p = \frac{1}{2}$

مختصات کانون سهمی برابر با  $(-\frac{3}{2}, 2)$ ، معادله‌ی خط هادی برابر است با  $x = -\frac{5}{2}$  است و مختصات نقاط برخورد

با محور  $y$  ها برابر با  $(0, 0)$  و  $(0, 4)$  و محور  $x$  ها  $(0, 0)$





پاسخ سئوالات موضوعی نهایی

فصل سوّم هندسه ۳ پایه دوازدهم ریاضی فیزیک

درس ۱: معرفی فضای سه بعدی

(\*) فضای دو بعدی

(\*) فضای سه بعدی

۱: درست

۲: الف:  $z = 4$       ب: محور  $y$  ها

پ: نقطه‌ی  $A(2, 0, 0)$  و مختصات وسط  $AB$  برابر است با  $(-1, 3, -\frac{3}{2})$

: ۳

معادلات مربوط به پاره خط  $AB$

$$\begin{cases} -1 \leq x \leq 2 \\ y = 1 \\ z = 3 \end{cases}$$

: ۴

طول پاره خط  $AB$        $\|AB\| = \sqrt{(3-3)^2 + (-2-1)^2 + (2-2)^2} = 3$

معادلات مربوط به پاره خط  $AB$

$$\begin{cases} x = 3 \\ -2 \leq y \leq 1 \\ z = 2 \end{cases}$$

: ۵

الف)  $A(0, 4, 3)$

ب)  $AD: \begin{cases} 0 \leq x \leq 2 \\ y = 4 \\ z = 3 \end{cases}$       و       $CDFG: \begin{cases} x = 2 \\ 0 \leq y \leq 4 \\ 0 \leq z \leq 3 \end{cases}$

۶: درست

۷: هر نقطه روی محور  $x$  ها، عرض و ارتفاع آن صفر است. پس این معادله نشان دهنده محور  $x$  ها است.

معادله  $y = 0$  یعنی صفحه  $xOz$  می باشد و محور  $x$  ها منطبق بر آن است.

۸:

الف: نمودار مربوط به معادلات  $\begin{cases} x = 0 \\ z = 0 \end{cases}$  در فضای  $R^3$  همان معادله محور  $y$  ها است.

معادله  $x = 0$  معادله صفحه  $yZ$  که شامل محور  $y$  ها است.

ب:

$$\vec{a} + 2\vec{b} = (2, -1, 3) + 2(1, 2, 0) = (4, 3, 3)$$

$$\|\vec{a} + 2\vec{b}\| = \sqrt{(4)^2 + (3)^2 + (3)^2} = \sqrt{16 + 9 + 9} = \sqrt{34}$$

۹: نقاط  $A$  و  $B$  زیرا در این دو نقطه  $y = 2$  و  $z = 1$  می باشد.

۱۰: ۶

۱۱: الف)  $b = -3$  (ب) محور  $z$  ها

پ)

$$A(0, 2, 3), B(-4, 6, -3) \rightarrow \begin{cases} x_M = \frac{0 + (-4)}{2} = -2 \\ y_M = \frac{2 + 6}{2} = 4 \\ z_M = \frac{3 + (-3)}{2} = 0 \end{cases} \rightarrow M(-2, 4, 0)$$

۱۲:

الف)  $A(2, 0, 0)$  و  $B(1, 0, 3)$

$$\text{ب) } \|AB\| = \sqrt{(2-1)^2 + (0-0)^2 + (0-3)^2} = \sqrt{10}$$

$$\text{پ) } M\left(\frac{2+1}{2}, \frac{0+0}{2}, \frac{0+3}{2}\right) = \left(\frac{3}{2}, 0, \frac{3}{2}\right)$$

۱۳ : نادرست

۱۴ : الف:  $A = (2, 0, 0)$  و  $B = (0, -3, 4)$

وسط پاره خط  $AB$   $M = \left(\frac{2+0}{2}, \frac{0+(-3)}{2}, \frac{0+4}{2}\right) = \left(1, -\frac{3}{2}, 2\right)$

$$OM = \sqrt{(1)^2 + \left(-\frac{3}{2}\right)^2 + (2)^2} = \sqrt{1 + \frac{9}{4} + 4} = \sqrt{\frac{29}{4}} = \frac{\sqrt{29}}{2}$$

$$r = \sqrt{(3)^2 + (4)^2 + (5)^2} = \sqrt{9 + 16 + 25} = \sqrt{50} = 5\sqrt{2} \quad \text{ب:}$$



**(\*) بردارها**

: ۱

$$\vec{a} = (3, 2, -1)$$

$$r\vec{b} - \vec{a} = 2\vec{b} - \vec{a} = 2(3, 1, -1) - (3, 2, -1) = (6, 2, -2) + (-3, -2, 1) = (3, 0, -1)$$

: ۲

$$\vec{a} - 2\vec{b} = (2, 0, -1) - (2, 4, 2) = (0, -4, -3) \rightarrow \|\vec{a} - 2\vec{b}\| = \sqrt{16 + 9} = 5$$

: ۳

$$\vec{a} = (0, 2, -3)$$

$$\vec{c} = 2\vec{b} - \vec{a} = 2(0, 1, -1) - (0, 2, -3) = (0, 2, -2) + (0, -2, 3) = (0, 0, 1)$$

۴ : موازی

: ۵

$$\vec{b} = -6\vec{j} + 8\vec{k} = (0, -6, 8)$$

$$r\vec{b} = -\frac{1}{2}(0, -6, 8) = (0, 3, -4) \rightarrow \|r\vec{b}\| = \sqrt{(0)^2 + (3)^2 + (-4)^2} = \sqrt{0 + 9 + 16} = 5$$

$$r\vec{a} = -\frac{1}{4}(\sqrt{8}, 2, 4) = (-\sqrt{2}, -1, -2)$$

$$r\vec{a} + \vec{b} = (-\sqrt{2}, -1, -2) + (0, -6, 8) = (-\sqrt{2}, -7, 6)$$

۶: الف: بردار  $\vec{a}$  در ناحیه ی ۵ واقع است.

ب:

$$2\vec{a} - \vec{b} = 2(1, 2, -1) - (0, 2, -1) = (2, 2, -1)$$

$$\rightarrow \|2\vec{a} - \vec{b}\| = \sqrt{4 + 4 + 1} = \sqrt{9} = 3$$

۷: yoz



### درس ۲: ضرب داخلی و ضرب خارجی دو بردار

#### (\*) ضرب داخلی و خواص آن

۱:

$$\vec{a} \cdot \vec{b} = 0 \Leftrightarrow \|\vec{a}\| \times \|\vec{b}\| \times \cos \theta = 0 \xrightarrow{\|\vec{a}\|, \|\vec{b}\| \neq 0} \cos \theta = 0 \Leftrightarrow \theta = \frac{\pi}{2}$$

۲: صفر ( $\vec{a} \cdot \vec{b} = 0$ )

۳: برای دو بردار دلخواه  $\vec{a}$  و  $\vec{b}$  می توان نوشت،  $\|\vec{a}\| \geq 0$  و  $\|\vec{b}\| \geq 0$  و لذا  $\|\vec{a}\| \times \|\vec{b}\| \geq 0$

از طرفی برای زاویه ی  $\theta$  بین دو بردار  $\vec{a}$  و  $\vec{b}$  نامساوی  $-1 \leq \cos \theta \leq 1$  برقرار است. این نامساوی را می توان به صورت  $|\cos \theta| \leq 1$  نیز نوشت. اکنون دو طرف این نامساوی را در عدد نامنفی  $\|\vec{a}\| \times \|\vec{b}\|$  ضرب می کنیم. خواهیم داشت:

$$\|\vec{a}\| \times \|\vec{b}\| \times |\cos \theta| \leq \|\vec{a}\| \times \|\vec{b}\| \times 1$$

$$\rightarrow |\vec{a} \cdot \vec{b}| \leq \|\vec{a}\| \times \|\vec{b}\|$$

:۴

$$\vec{a} \cdot \vec{b} = a_1 b_1 + a_2 b_2 + a_3 b_3 = (m)(1) + (-1)(-1) + (2)(0) = m + 1$$

$$\|\vec{a}\| = \sqrt{(m)^2 + (-1)^2 + (2)^2} = \sqrt{m^2 + 1 + 4} = \sqrt{m^2 + 5}$$

$$\|\vec{b}\| = \sqrt{(1)^2 + (-1)^2 + (0)^2} = \sqrt{1 + 1 + 0} = \sqrt{2}$$

$$\cos \theta = \frac{\vec{a} \cdot \vec{b}}{\|\vec{a}\| \times \|\vec{b}\|} \rightarrow \frac{\sqrt{2}}{2} = \frac{m+1}{\sqrt{m^2+5} \times \sqrt{2}} \rightarrow \frac{1}{\sqrt{2}} = \frac{m+1}{\sqrt{m^2+5} \times \sqrt{2}}$$

$$\rightarrow 1 = \frac{m+1}{\sqrt{m^2+5}} \rightarrow m+1 = \sqrt{m^2+5} \rightarrow m^2 + 2m + 1 = m^2 + 5$$

$$\rightarrow 2m = 4 \rightarrow m = 2$$

۵: صفر

۶: گیریم که  $\vec{a} = (a_1, a_2, a_3)$  پس :

$$\vec{a} \cdot \vec{a} = a_1 a_1 + a_2 a_2 + a_3 a_3 = a_1^2 + a_2^2 + a_3^2 = \|\vec{a}\|^2$$

۷: نادرست

:۸

$$\vec{a} \cdot \vec{b} = (0)(2) + (1)(-1) + (1)(-2) = 0 + 1 + 2 = 3$$

$$\|\vec{a}\| = \sqrt{(0)^2 + (-1)^2 + (-1)^2} = \sqrt{0 + 1 + 1} = \sqrt{2}$$

$$\|\vec{b}\| = \sqrt{(2)^2 + (-1)^2 + (-2)^2} = \sqrt{4 + 1 + 4} = 3$$

$$\cos \theta = \frac{\vec{a} \cdot \vec{b}}{\|\vec{a}\| \times \|\vec{b}\|} = \frac{3}{3\sqrt{2}} = \frac{1}{\sqrt{2}} \rightarrow \cos \theta = \frac{\sqrt{2}}{2} \rightarrow \theta = 45^\circ$$

:۹

$$\vec{a} \cdot \vec{b} = 0 \rightarrow \|\vec{a}\| \times \|\vec{b}\| \cos \theta = 0 \xrightarrow{\|\vec{a}\|, \|\vec{b}\| \neq 0} \cos \theta = 0 \rightarrow \theta = \frac{\pi}{2}$$

۱۰ : نادرست

: ۱۱

$$\|\vec{a} + \vec{b} + \vec{c}\|^2 = \|\vec{o}\|^2 \rightarrow \|\vec{a} + \vec{b} + \vec{c}\|^2 = 0$$

$$\rightarrow \|\vec{a}\|^2 + \|\vec{b}\|^2 + \|\vec{c}\|^2 + 2(\vec{a} \cdot \vec{b} + \vec{b} \cdot \vec{c} + \vec{c} \cdot \vec{a}) = 0$$

$$\rightarrow 1 + 4 + 9 + 2(\vec{a} \cdot \vec{b} + \vec{b} \cdot \vec{c} + \vec{c} \cdot \vec{a}) = 0 \rightarrow \vec{a} \cdot \vec{b} + \vec{b} \cdot \vec{c} + \vec{c} \cdot \vec{a} = -7$$



**(\*) تصویر قائم یک بردار بر امتداد بردار دیگر**

: ۱

$$\vec{u} = \vec{b} + \vec{c} = (2, -3, 6) \rightarrow \|\vec{u}\| = \sqrt{4 + 9 + 36} = \sqrt{49} = 7$$

$$\vec{a} \cdot \vec{u} = (-1)(2) + (-3)(-3) + (0)(6) = -2 + 9 + 0 = 7$$

$$\vec{a}' = \frac{\vec{a} \cdot \vec{u}}{\|\vec{u}\|^2} \vec{u} = \frac{7}{49} (2, -3, 6) = \frac{1}{7} (2, -3, 6) = \left(\frac{2}{7}, -\frac{3}{7}, \frac{6}{7}\right)$$

: ۲

$$\vec{a} \cdot \vec{b} = (1)(-2) + (-3)(1) + (2)(-5) = -2 - 3 - 10 = -15$$

$$\|\vec{b}\|^2 = (-2)^2 + (1)^2 + (-5)^2 = 4 + 1 + 25 = 30$$

$$\vec{a}' = \frac{\vec{a} \cdot \vec{b}}{\|\vec{b}\|^2} \vec{b} = \frac{-15}{30} (-2, 1, -5) = \frac{-1}{2} (-2, 1, -5) = (1, -\frac{1}{2}, \frac{5}{2})$$

: ۳

$$\vec{a} \cdot \vec{b} = (5)(1) + (-1)(-1) + (2)(0) = 5 + 1 + 0 = 6$$

$$\|\vec{b}\|^2 = (1)^2 + (-1)^2 + (0)^2 = 1 + 1 + 0 = 2$$

$$\vec{a}' = \frac{\vec{a} \cdot \vec{b}}{\|\vec{b}\|^2} \vec{b} = \frac{6}{2} (1, -1, 0) = 3(1, -1, 0) = (3, -3, 0)$$

: ۴

$$\vec{a} = r\vec{b}$$

$$\vec{a} \cdot \vec{b} = r \cdot \vec{b} \cdot \vec{b} = r \|\vec{b}\|^2$$

$$\vec{a}' = \frac{\vec{a} \cdot \vec{b}}{\|\vec{b}\|^2} \vec{b} = \frac{r \|\vec{b}\|^2}{\|\vec{b}\|^2} \vec{b} = r\vec{b} = \vec{a}$$

: ۵ الف :

$$\vec{a} \cdot \vec{b} = (1)(-2) + (2)(0) + (3)(2) = -2 + 0 + 6 = 4$$

$$\|\vec{b}\| = \sqrt{(-2)^2 + (0)^2 + (2)^2} = \sqrt{4 + 0 + 4} = 2\sqrt{2}$$

$$\vec{a}' = \frac{\vec{a} \cdot \vec{b}}{\|\vec{b}\|^2} \vec{b} = \frac{4}{8}(-2, 0, 2) = (-1, 0, 1)$$

: ب

$$2\vec{a} - \vec{b} = 2\vec{a} + (-\vec{b}) = 2(1, 2, 3) + (2, 0, -2) = (2, 4, 6) + (2, 0, -2) = (4, 4, 4)$$

$$\|2\vec{a} - \vec{b}\| = \sqrt{(4)^2 + (4)^2 + (4)^2} = \sqrt{16 + 16 + 16} = \sqrt{48} = 4\sqrt{3}$$

: ۶

$$\vec{a} \cdot \vec{b} = (-2)(0) + (0)(2) + (2)(2) = 4$$

$$\vec{a} = (-2, 0, 2) \rightarrow \|\vec{a}\| = \sqrt{4 + 0 + 4} = \sqrt{8} = 2\sqrt{2}$$

$$\vec{b} = (0, 2, 2) \rightarrow \|\vec{b}\| = \sqrt{0 + 4 + 4} = \sqrt{8} = 2\sqrt{2}$$

$$\cos \theta = \frac{\vec{a} \cdot \vec{b}}{\|\vec{a}\| \times \|\vec{b}\|} = \frac{4}{2\sqrt{2} \times 2\sqrt{2}} = \frac{1}{2} \rightarrow \theta = 60^\circ$$

$$\vec{a} + \vec{b} = (-2, 0, 2) + (0, 2, 2) = (-2, 2, 4)$$

$$(\vec{a} + \vec{b}) \cdot \vec{b} = (-2)(0) + (2)(2) + (4)(2) = 0 + 4 + 8 = 12$$

$$(a+b)' = \frac{(\vec{a} + \vec{b}) \cdot \vec{b}}{\|\vec{b}\|^2} = \frac{12}{8} (., 2, 2) = (., 3, 3)$$

:۷

$$\vec{a}' = \frac{\vec{a} \cdot \vec{b}}{\|\vec{b}\|^2} \vec{b} = \frac{2+1+0}{1+1+0} (1, -, 0) = \frac{3}{2} (1, -, 0)$$

:۸

$$\vec{d} = \vec{b} + \vec{c} = (3, -4, 2) + (-1, 1, 4) = (2, -3, 6)$$

$$\vec{a} \cdot \vec{d} = (1)(2) + (-3)(-3) + (4)(6) = 2 + 9 + 24 = 35$$

$$\vec{a}' = \frac{\vec{a} \cdot \vec{d}}{\|\vec{d}\|^2} \vec{d} = \frac{35}{49} (2, -3, 6)$$

:۹

$$\vec{a} \cdot \vec{b} = (2)(1) + (-1)(-1) + (2)(0) = 3$$

$$\|\vec{b}\| = \sqrt{(1)^2 + (-1)^2 + (0)^2} = \sqrt{2}$$

$$\vec{a}' = \frac{\vec{a} \cdot \vec{b}}{\|\vec{b}\|^2} \vec{b} = \frac{3}{2} (1, -1, 0) = \left(\frac{3}{2}, -\frac{3}{2}, 0\right)$$



**(\*) ضرب خارجی دو بردار**

:۱

$$\|\vec{a} \times \vec{b}\| = \|\vec{a}\| \|\vec{b}\| \sin \theta \rightarrow 12 = 3 \times 26 \times \sin \theta \rightarrow \sin \theta = \frac{12}{13}$$

$$\cos \theta = \pm \sqrt{1 - \sin^2 \theta} = \pm \sqrt{1 - \left(\frac{12}{13}\right)^2} = \pm \sqrt{1 - \frac{144}{169}} = \pm \sqrt{\frac{25}{169}} = \pm \frac{5}{13}$$

$$\vec{a} \cdot \vec{b} = \|\vec{a}\| \|\vec{b}\| \cos \theta = 3 \times 26 \times \left(\pm \frac{5}{13}\right) = \pm 30$$



۲: کافی است یکی از دو بردار  $\vec{a} \times \vec{b}$  یا  $\vec{b} \times \vec{a}$  را تعیین کنیم.

$$\vec{a} \times \vec{b} = \left( \begin{vmatrix} -3 & 2 \\ 1 & -5 \end{vmatrix}, \begin{vmatrix} 2 & 1 \\ -5 & -2 \end{vmatrix}, \begin{vmatrix} 1 & -3 \\ -2 & 1 \end{vmatrix} \right) = (13, 1, -5)$$

$$\vec{b} \times \vec{a} = \left( \begin{vmatrix} 1 & -5 \\ -3 & 2 \end{vmatrix}, \begin{vmatrix} -5 & -2 \\ 2 & 1 \end{vmatrix}, \begin{vmatrix} -2 & 1 \\ 1 & -3 \end{vmatrix} \right) = (-13, -1, 5)$$

:۳

$$\vec{a} \times \vec{b} = \vec{0} \Leftrightarrow \|\vec{a} \times \vec{b}\| = \|\vec{0}\| \Leftrightarrow \|\vec{a}\| \times \|\vec{b}\| \times \sin \theta = 0$$

$$\xrightarrow{\|\vec{a}\|, \|\vec{b}\| \neq 0} \sin \theta = 0 \Leftrightarrow \theta = 0 \vee \theta = \pi \Leftrightarrow \vec{a} \parallel \vec{b}$$

:۴

$$\|\vec{a} \times \vec{b}\| = \|\vec{a}\| \times \|\vec{b}\| \times \sin \theta \rightarrow 12 = 4 \times 3 \times \sin \theta \rightarrow \sin \theta = \frac{12}{12} = 1$$

$$\cos \theta = \pm \sqrt{1 - \sin^2 \theta} = \pm \sqrt{1 - \left(\frac{1}{2}\right)^2} = \pm \sqrt{1 - \frac{1}{4}} = \pm \sqrt{\frac{3}{4}} = \pm \frac{\sqrt{3}}{2}$$

$$\vec{a} \cdot \vec{b} = \|\vec{a}\| \times \|\vec{b}\| \times \cos \theta = 4 \times 3 \times \left(\pm \frac{\sqrt{3}}{2}\right) = \pm 12\sqrt{3}$$

۵: درست

:۶

$$\vec{i} \cdot (\vec{j} \times \vec{k}) = \vec{i} \cdot \vec{i} = \|\vec{i}\|^2 = 1$$

:۷

$$\vec{k} \cdot (\vec{i} \times \vec{j}) = \vec{k} \cdot \vec{k} = \|\vec{k}\|^2 = 1$$

۸: الف: بردار  $\vec{a}$  در ناحیه‌ی چهارم است.

: ب

$$\vec{b} = -2\vec{i} + \vec{j} - \vec{k} = (-2, 1, -1)$$

$$\vec{a} + 2\vec{b} = (3, -2, 1) + 2(-2, 1, -1) = (-1, 0, -1) \rightarrow \|\vec{a} + 2\vec{b}\| = \sqrt{1+0+1} = \sqrt{2}$$

ج :

$$\vec{a} \times \vec{b} = \begin{pmatrix} -2 & 1 & 1 \\ 1 & -1 & -1 \\ 3 & -2 & 1 \end{pmatrix} = (1, 1, -1)$$

۹ : نادرست

۱۰ :

$$\vec{a} \parallel \vec{b} \xrightarrow{\exists r \in R} \vec{b} = r\vec{a} \rightarrow (b_1, b_2, b_3) = (ra_1, ra_2, ra_3)$$

$$\vec{a} \times \vec{b} = \begin{pmatrix} ra_2 & ra_3 & ra_1 \\ b_2 & b_3 & b_1 \\ ra_3 & ra_1 & ra_2 \\ b_3 & b_1 & b_2 \\ ra_1 & ra_2 & ra_3 \\ b_1 & b_2 & b_3 \end{pmatrix} = \begin{pmatrix} b_2 & b_3 & b_1 \\ b_3 & b_1 & b_2 \\ b_1 & b_2 & b_3 \end{pmatrix}$$

$$= (0, 0, 0) = \vec{0}$$

اثبات برعکس این مطلب هم می توان به شکل زیر نوشت :

$$\vec{a} \times \vec{b} = \vec{0} \rightarrow \|\vec{a} \times \vec{b}\| = \|\vec{0}\| \rightarrow \|\vec{a} \times \vec{b}\| = 0$$

$$\frac{\|\vec{a} \times \vec{b}\| = \|\vec{a}\| \times \|\vec{b}\| \sin \theta}{\rightarrow \sin \theta = 0 \rightarrow \theta = 0 \text{ or } \pi}$$

لذا  $\vec{a} \parallel \vec{b}$

۱۱ :

$$\cos \theta = \frac{\vec{a} \cdot \vec{b}}{\|\vec{a}\| \times \|\vec{b}\|} = \frac{3}{3\sqrt{2}} = \frac{\sqrt{2}}{2} \rightarrow \theta = \frac{\pi}{4}$$

$$\vec{a} \times \vec{b} = \begin{pmatrix} -1 & 2 & 2 \\ -1 & 0 & 1 \\ 2 & 2 & -1 \end{pmatrix} = (2, 2, -1)$$

۱۳ : درست

۱۲ : صفر

۱۴ :

$$\vec{a} \times \vec{b} = \vec{0} \leftrightarrow \|\vec{a} \times \vec{b}\| = \|\vec{0}\| \leftrightarrow \|\vec{a}\| \times \|\vec{b}\| \times \sin \theta = 0$$

$$\xleftarrow{\|\vec{a}\| \times \|\vec{b}\| \neq 0} \sin \theta = 0 \rightarrow \theta = 0 \text{ or } \theta = \pi \leftrightarrow \vec{a} \parallel \vec{b}$$

۱۵: درست

۱۶:

$$\begin{aligned} \|\vec{a} \times \vec{b}\|^2 + (\vec{a} \cdot \vec{b})^2 &= \|\vec{a}\|^2 \|\vec{b}\|^2 \\ \rightarrow (72)^2 + (\vec{a} \cdot \vec{b})^2 &= (3)^2 (26)^2 \rightarrow (\vec{a} \cdot \vec{b})^2 = 900 \\ \rightarrow \vec{a} \cdot \vec{b} &= \pm 30 \xrightarrow{\theta < 90^\circ} \vec{a} \cdot \vec{b} = 30 \end{aligned}$$

۱۷: صفر

۱۸:

$$\vec{a} \cdot \vec{b} = (2)(1) + (-1)(-1) + (2)(0) = 3$$

$$\cos \theta = \frac{\vec{a} \cdot \vec{b}}{\|\vec{a}\| \|\vec{b}\|} = \frac{3}{3\sqrt{2}} = \frac{\sqrt{2}}{2} \rightarrow \theta = 45^\circ$$

$$\vec{a} \times \vec{b} = \begin{pmatrix} -1 & 2 & 2 \\ -1 & 0 & 1 \\ -1 & 0 & -1 \end{pmatrix} = (2, 2, -1) \quad \text{بردار عمود}$$

۱۹:

روش اول:

$$\|\vec{a} \times \vec{b}\| = \|\vec{a}\| \|\vec{b}\| \sin \theta \rightarrow 12 = (3)(26) \sin \theta \rightarrow \sin \theta = \frac{12}{78}$$

$$\frac{\sin^2 \theta + \cos^2 \theta = 1}{\sin^2 \theta = \frac{144}{78^2}} \rightarrow \cos \theta = \frac{5}{13}$$

$$\rightarrow \vec{a} \cdot \vec{b} = \|\vec{a}\| \|\vec{b}\| \cos \theta = (3)(26) \left(\frac{5}{13}\right) = 30$$

روش دوم:

$$\|\vec{a} \times \vec{b}\|^2 + (\vec{a} \cdot \vec{b})^2 = \|\vec{a}\|^2 \|\vec{b}\|^2 \rightarrow (72)^2 + (\vec{a} \cdot \vec{b})^2 = (3)^2 (26)^2$$

$$\rightarrow 5184 + (\vec{a} \cdot \vec{b})^2 = 9 \times 676 \rightarrow (\vec{a} \cdot \vec{b})^2 = 6084 - 5184 = 900 \rightarrow \vec{a} \cdot \vec{b} = 30$$



(\*) مساحت متوازی الاضلاع و حجم متوازی السطوح

: ۱

$$\vec{a} \times \vec{b} = (-1, -1, 1)$$

$$S = \|\vec{a} \times \vec{b}\| = \sqrt{1+1+1} = \sqrt{3}$$

: ۲

$$\vec{b} \times \vec{c} = \left( \begin{vmatrix} 3 & -1 \\ -1 & 3 \end{vmatrix}, \begin{vmatrix} -1 & 2 \\ 3 & 1 \end{vmatrix}, \begin{vmatrix} 2 & 3 \\ 1 & -1 \end{vmatrix} \right) = (8, -7, -5)$$

$$\vec{a} \cdot (\vec{b} \times \vec{c}) = (1)(8) + (m)(-7) + (-1)(-5) = 8 - 7m + 5 = 0 \rightarrow m = 9$$

: ۳

$$\cos \theta = \frac{\vec{a} \cdot \vec{b}}{\|\vec{a}\| \|\vec{b}\|} = \frac{12}{4 \times 6} = \frac{1}{2} \rightarrow \theta = \frac{\pi}{3}$$

$$S = \frac{1}{2} \|\vec{a} \times \vec{b}\| = \frac{1}{2} \|\vec{a}\| \|\vec{b}\| \sin \theta = \frac{1}{2} \times 4 \times 6 \times \frac{\sqrt{3}}{2} = 6\sqrt{3}$$

روش دوم:

$$\|\vec{a} \times \vec{b}\|^2 + (\vec{a} \cdot \vec{b})^2 = \|\vec{a}\|^2 \|\vec{b}\|^2 \rightarrow \|\vec{a} \times \vec{b}\|^2 + (12)^2 = (4)^2 (6)^2$$

$$\rightarrow \|\vec{a} \times \vec{b}\|^2 + 144 = 16 \times 36 \rightarrow \|\vec{a} \times \vec{b}\|^2 + 144 = 576 \rightarrow \|\vec{a} \times \vec{b}\|^2 = 432$$

$$\rightarrow \|\vec{a} \times \vec{b}\|^2 = 144 \times 3 \rightarrow \|\vec{a} \times \vec{b}\| = 12\sqrt{3}$$

$$S = \frac{1}{2} \|\vec{a} \times \vec{b}\| = \frac{1}{2} \times 12\sqrt{3} = 6\sqrt{3}$$

: ۴

$$\vec{a} \times \vec{b} = \left( \begin{vmatrix} 1 & 2 \\ 2 & 1 \end{vmatrix}, \begin{vmatrix} 1 & 2 \\ 2 & 1 \end{vmatrix}, \begin{vmatrix} 1 & 2 \\ 2 & 1 \end{vmatrix} \right) = (2, -4, -1)$$

$$(\vec{a} \times \vec{b}) \cdot \vec{c} = (2)(3) + (-4)(2) + (-1)(1) = 6 - 8 - 1 = -3$$

$$V = |(\vec{a} \times \vec{b}) \cdot \vec{c}| = |-3| = 3$$

حجم متوازی السطوح

۵: الف)

$$(\vec{a} + \vec{b}) = (1, 4, 1)$$

$$(\vec{a} + \vec{b}) \times \vec{c} = (1, 4, 1) \times (2, 1, -2) = (-9, 4, -7)$$

ب)

$$(\vec{b} \times \vec{c}) = (-2, -2, -3)$$

$$\vec{a} \cdot (\vec{b} \times \vec{c}) = (2, 3, 1) \cdot (-2, -2, -3) = -13$$

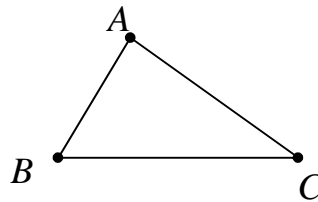
$$V = |\vec{a} \cdot (\vec{b} \times \vec{c})| = |-13| = 13$$

۶:

$$\vec{AB} = \vec{OB} - \vec{OA} = (2, -2, -1)$$

$$\vec{AC} = \vec{OC} - \vec{OA} = (1, -3, 1)$$

$$\vec{AB} \times \vec{AC} = (-5, -3, -4)$$



$$S = \frac{1}{2} \|\vec{AB} \times \vec{AC}\| = \frac{1}{2} \sqrt{50}$$

مساحت مثلث داده شده

۷: الف)

$$\vec{a} \cdot \vec{b} = (-4)(1) + (3)(-1) + (-5)(1) = -4 - 3 - 5 = -12$$

$$\|\vec{b}\| = \sqrt{(1)^2 + (-1)^2 + (1)^2} = \sqrt{1+1+1} = \sqrt{3}$$

$$\vec{a}' = \frac{\vec{a} \cdot \vec{b}}{\|\vec{b}\|^2} \vec{b} = \frac{-12}{3} (1, -1, 1) = -4(1, -1, 1) = (-4, 4, -4)$$

ب: بردار حاصل ضرب خارجی دو بردار  $\vec{a}$  و  $\vec{b}$  و هر مضرب غیر صفر آن، بر هر دو بردار  $\vec{a}$  و  $\vec{b}$  عمود است. در اینجا فقط کافی است ضرب خارجی را تعیین کنیم.

$$\vec{a} \times \vec{b} = \begin{pmatrix} \begin{vmatrix} 3 & -5 \\ -1 & 1 \end{vmatrix}, \begin{vmatrix} -5 & -4 \\ 1 & 1 \end{vmatrix}, \begin{vmatrix} -4 & 3 \\ 1 & -1 \end{vmatrix} \end{pmatrix} = (-2, -1, 1)$$

ج : مساحت مثلثی که با دو بردار  $\vec{a}$  و  $\vec{b}$  تشکیل می شود، برابر نصف اندازه‌ی حاصل ضرب خارجی این دو بردار است.  
یعنی :

$$\|\vec{a} \times \vec{b}\| = \sqrt{(-2)^2 + (-1)^2 + (1)^2} = \sqrt{4 + 1 + 1} = \sqrt{6}$$

$$S = \frac{1}{2} \|\vec{a} \times \vec{b}\| = \frac{1}{2}(\sqrt{6}) = \frac{\sqrt{6}}{2}$$

: ۸

$$\vec{a} \times \vec{b} = (3, 2, 1) \times (2, 0, 1) = (2, -1, -4)$$

$$S = \|\vec{a} \times \vec{b}\| = \sqrt{4 + 1 + 16} = \sqrt{21}$$

۹ : الف) کافی است که بردار، ضرب خارجی دو بردار  $2\vec{b}$  و  $\vec{c}$  را تعیین کنیم.

$$-2\vec{b} = -2(-1, 1, 0) = (2, -2, 0)$$

$$(-2\vec{b}) \times \vec{c} = \begin{vmatrix} -2 & 0 & 2 \\ 1 & -2 & -2 \end{vmatrix} = (4, 4, 6)$$

ب)

$$\vec{b} \times \vec{c} = \begin{vmatrix} 1 & 0 & -1 \\ 1 & -2 & 2 \end{vmatrix} = (-2, -2, -3)$$

$$\vec{a} \cdot (\vec{b} \times \vec{c}) = (2)(-2) + (3)(-2) + (1)(-3) = -4 - 6 - 3 = -13$$

$$V = |\vec{a} \cdot (\vec{b} \times \vec{c})| = 13 \quad \text{حجم متوازی السطوح}$$

: ۱۰

$$\vec{a} \times \vec{c} = \begin{vmatrix} -1 & 3 & 3 \\ -2 & 3 & 1 \end{vmatrix} = (3, -3, -3)$$

$$\vec{b} \cdot (\vec{a} \times \vec{c}) = 0 \rightarrow (0)(3) + (m)(-3) + (-1)(-3) = 0$$

$$\rightarrow -3m + 3 = 0 \rightarrow m = 1$$



# فصل اوّل

## (( هندسه ۳ ))



### درس ۱: ماتریس و اعمال روی ماتریس ها

۰/۲۵ نمره	خرداد ۱۴۰۱	عبارت زیر را کامل کنید اگر ماتریس $\begin{bmatrix} n & m-1 \\ 0 & 1 \end{bmatrix}$ یک ماتریس همانی باشد، حاصل $m+n$ برابر با ..... است.	۱
۱ نمره	خرداد ۱۴۰۱	اگر $A = \begin{bmatrix} 4 & a \\ b & -1 \end{bmatrix}$ و $B = \begin{bmatrix} 1 & -2 \\ 3 & 2 \end{bmatrix}$ ، مقادیر $a$ و $b$ را طوری به دست آورید که $A \times B$ ماتریس قطری باشد.	۲
۰/۵ نمره	خرداد ۱۴۰۱	ماتریس $A$ مربعی مرتبه ۳ به صورت $A = [a_{ij}]_{3 \times 3}$ ، به صورت زیر $a_{ij} = \begin{cases} i+j & i=j \\ j & i>j \\ 0 & i<j \end{cases}$ تعریف شده است، این ماتریس را با درایه هایش (آرایش مستطیلی) بنویسید.	۳
۰/۲۵ نمره	خرداد ۱۴۰۱	درستی یا نادرستی گزاره‌ی زیر را معلوم کنید. (خارج کشور) ماتریس $A_{3 \times 4}$ دارای ۱۲ درایه است.	۴
۰/۲۵ نمره	خرداد ۱۴۰۱	ماتریس مربعی $I_n$ که آن را ماتریس واحد مرتبه‌ی $n$ می نامیم، عضو خنثی برای عمل ..... ماتریس های مربعی مرتبه‌ی $n$ است. (خارج کشور)	۵
۱ نمره	خرداد ۱۴۰۱	با یک مثال نقض نشان دهید که قانون حذف در ضرب ماتریس ها برقرار نمی باشد، به عبارت دیگر نشان دهید که در حالت کلی از تساوی $AB = AC$ نمی توان نتیجه گرفت $B = C$ (خارج کشور)	۶
۲ نمره	شهریور ۱۴۰۱	الف) اگر دو ماتریس $A = \begin{bmatrix} 2x-1 & 3 \\ 2 & 0 \end{bmatrix}$ و $B = \begin{bmatrix} 5 & 3 \\ 2 & 0 \end{bmatrix}$ مساوی باشند، آنگاه مقدار $x$ برابر با ..... است. ب) اگر $A = \begin{bmatrix} 2 & m+1 \\ 2n+4 & 5 \end{bmatrix}$ یک ماتریس قطری باشد، با محاسبه‌ی $m$ و $n$ ماتریس $A + I$ را بیابید. ( $I$ ماتریس همانی مرتبه‌ی دو است).	۷

سوالات موضوعی نهایی درس هندسه ۳ ..... پایه‌ی دوازدهم ریاضی و فیزیک

۱ نمره	شهریور ۱۴۰۱	اگر دو ماتریس مربعی $A$ و $B$ به صورت $A = [3i - 2j]_{3 \times 3}$ و $B = \begin{bmatrix} 1 & 2 & 0 \\ 0 & 1 & 3 \\ -1 & 2 & 1 \end{bmatrix}$ باشند. الف) ماتریس $A$ را به صورت آرایش مستطیلی بنویسید. ب) ماتریس $B^2$ را محاسبه کنید.	۸
۱ نمره	شهریور ۱۴۰۱	اگر $A$ و $B$ دو ماتریس مربعی مرتبه‌ی ۳ و تعویض پذیر باشند، ثابت کنید: $(A - B)^2 = A^2 - 2AB + B^2$	۹
۰/۲۵ نمره	شهریور ۱۴۰۱	درستی یا نادرستی گزاره‌ی زیر را مشخص کنید. (خارج کشور) ماتریس مربعی که تمام درایه‌های واقع بر قطر اصلی آن صفر باشند، ماتریس قطری نامیده می‌شود.	۱۰
۱/۲۵ نمره	شهریور ۱۴۰۱	اگر $A = [a_{ij}]_{3 \times 3}$ به صورت $a_{ij} = \begin{cases} i \times j & i > j \\ i^2 & i = j \\ i + j & i < j \end{cases}$ تعریف شده باشد. ماتریس $3A - 4I$ را به دست آورید. (خارج کشور)	۱۱
۱ نمره	شهریور ۱۴۰۱	اگر $A = \begin{bmatrix} 1 & 0 & 0 \\ 0 & 3 & 0 \\ 0 & 0 & -2 \end{bmatrix}$ و $B = \begin{bmatrix} 1 & 0 & -2 \\ -1 & 3 & 0 \\ 2 & 1 & 0 \end{bmatrix}$ ماتریس‌های $A^3$ و $A \times B$ را با درایه‌هایشان مشخص کنید. (خارج کشور)	۱۲
۰/۷۵ نمره	دی ۱۴۰۱	اگر $A = \begin{bmatrix} m & 0 \\ m-2 & n \end{bmatrix}$ ماتریس اسکالر باشد، مقادیر $m$ و $n$ را بیابید.	۱۳
۱/۵ نمره	دی ۱۴۰۱	الف) اگر $b_{ij} = \begin{cases} i+1 & i = j \\ j-2 & i < j \\ 1 & i > j \end{cases}$ و $B = [b_{ij}]_{3 \times 3}$ ، ماتریس $B$ را به صورت آرایش مستطیلی بنویسید. ب) ماتریس $3I + B^2$ را محاسبه کنید. ( $I$ ماتریس همانی مرتبه‌ی ۳ است)	۱۴
۱ نمره	دی ۱۴۰۱	با استفاده از ویژگی‌های ضرب ماتریس‌ها و ماتریس همانی $I$ درستی رابطه‌ی زیر را ثابت کنید. $(A - 3I)^2 = A^2 - 6A + 9I$	۱۵
۰/۵ نمره	خرداد ۱۴۰۲	ماتریس‌های $A = \begin{bmatrix} 2 & 3 \\ 5 & 1 \end{bmatrix}$ و $B = \begin{bmatrix} x+1 & y+2 \\ 3 & 2 \end{bmatrix}$ را در نظر بگیرید. اگر $A + B = \begin{bmatrix} 5 & 4 \\ 8 & 3 \end{bmatrix}$ باشد، آنگاه مقادیر $x$ و $y$ را به دست آورید.	۱۶
۰/۲۵	شهریور	جای خالی را کامل کنید.	۱۷



سئالات موضوعی نهایی درس هندسه ۳ ..... پایه‌ی دوازدهم ریاضی و فیزیک

نمره	۱۴۰۲	اگر در ماتریس قطری تمام درایه های روی قطر اصلی با هم برابر باشند، آن را ماتریس ..... می نامند.	
۱/۲۵ نمره	شهریور ۱۴۰۲	در تساوی $\begin{bmatrix} 1 & 0 \\ -2 & -3 \end{bmatrix} \begin{bmatrix} x \\ 1 \end{bmatrix} = \begin{bmatrix} 0 \\ 1 \end{bmatrix}$ مقدار $x$ را بیابید.	۱۸

# فصل اوّل

## (( هندسه ۳ ))



### درس ۲: وارون ماتریس و دترمینان

#### دترمینان و وارون ماتریس

۰/۲۵ نمره	خرداد ۱۴۰۱	درستی یا نادرستی عبارت زیر را مشخص کنید. اگر $A$ یک ماتریس $3 \times 3$ و $ A  = 5$ باشد، آنگاه $ 2A  = 40$ است.	۱
۰/۷۵ نمره	خرداد ۱۴۰۱	دترمینان ماتریس $B = \begin{bmatrix} 2 & 1 & 0 \\ -1 & 3 & 2 \\ 2 & 0 & 5 \end{bmatrix}$ را محاسبه کنید.	۲
۰/۲۵ نمره	خرداد ۱۴۰۱	درستی یا نادرستی گزاره‌ی زیر را معلوم کنید. (خارج کشور) دو ماتریس $A = \begin{bmatrix} 1 & -1 \\ 2 & 1 \end{bmatrix}$ و $B = \begin{bmatrix} 1 & 1 \\ 0 & -1 \end{bmatrix}$ وارون یکدیگرند.	۳
۰/۷۵ نمره	خرداد ۱۴۰۱	دترمینان ماتریس $A = \begin{bmatrix} 1 & 2 & -1 \\ 1 & 2 & 3 \\ -1 & 2 & 1 \end{bmatrix}$ را با استفاده از دستور ساروس محاسبه کنید. (خارج کشور)	۴
۰/۷۵ نمره	خرداد ۱۴۰۱	اگر $A = \begin{bmatrix} -1 & 0 & 0 \\ 0 & 2 & -2 \\ -4 & -4 & 1 \end{bmatrix}$ در این صورت حاصل $ A $ را بیابید. (خارج کشور)	۵
۱ نمره	خرداد ۱۴۰۱	اگر $A = \begin{bmatrix} 2 & m \\ 1 & 3 \end{bmatrix}$ در این صورت عدد حقیقی $m$ را چنان بیابید که تساوی زیر برقرار باشد. $ A ^2 - 5 A  + 6 = 0$ (خارج کشور)	۶
۰/۲۵ نمره	خرداد ۱۴۰۱	در جای خالی عبارت ریاضی مناسب قرار دهید. اگر $A$ ماتریسی $3 \times 3$ و اسکالر باشد و $a_{22} = 5$ ، در این صورت $ A $ برابر ..... است.	۷
۱ نمره	شهریور ۱۴۰۱	اگر ماتریس $A = \begin{bmatrix} 4 & 1 \\ 0 & 3 \end{bmatrix}$ باشد، وارون ماتریس $A - 2I$ را بیابید. ( $I$ ماتریس همانی مرتبه‌ی دو است.)	۸

۰/۵ نمره	شهریور ۱۴۰۱	اگر $A = \begin{bmatrix} 0 & 0 & 1 \\ 0 & 2 & 0 \\ -1 & 0 & 0 \end{bmatrix}$ باشد، حاصل $ A $ را بیابید.	۹
۰/۵ نمره	شهریور ۱۴۰۱	در جاهای خالی عبارت مناسب قرار دهید. (خارج کشور) الف) وارون هر ماتریس مربعی، در صورت وجود ..... است. ب) اگر $A = \begin{bmatrix} a & 8 \\ -3 & -6 \end{bmatrix}$ وارون پذیر نباشد، مقدار $a$ برابر ... است.	۱۰
۱/۷۵ نمره	شهریور ۱۴۰۱	اگر $A = \begin{bmatrix} 2 A  &  A  \\ 7 &  A ^2 \end{bmatrix}$ ، در این صورت حاصل $ A $ را بیابید. (خارج کشور)	۱۱
۱/۵ نمره	دی ۱۴۰۱	با توجه به ماتریس $A = \begin{bmatrix} 3 & -1 \\ 1 & -1 \end{bmatrix}$ ، نشان دهید: $(5A)^{-1} = \frac{1}{5}A^{-1}$	۱۲
۱/۲۵ نمره	دی ۱۴۰۱	اگر $A = \begin{bmatrix} 1 & 2 & 1 \\ 2 & 6 & 2 \\ 1 & -1 & 2 \end{bmatrix}$ ، حاصل $ \frac{1}{2}A^4 $ را به دست آورید.	۱۳
۱/۲۵ نمره	خرداد ۱۴۰۲	ماتریس $A = [a_{ij}]_{3 \times 3}$ به صورت $a_{ij} = \begin{cases} 1 & i = j \\ 0 & i \neq j \end{cases}$ معرفی شده است، مقدار $k$ را طوری پیدا کنید که رابطه $ kA  = 625$ برقرار باشد.	۱۴
۱/۲۵ نمره	خرداد ۱۴۰۲	در تساوی ماتریسی $A = \begin{bmatrix} -1 & 2 \\ 2 & 1 \end{bmatrix}$ ، ماتریس $A$ را به دست آورید.	۱۵
۱ نمره	خرداد ۱۴۰۲	اگر $A = \begin{bmatrix}  A  & 0 & 1 \\ 1 &  A  & 1 \\ 0 & 2 & 1 \end{bmatrix}$ باشد، مقدار $ A $ را بیابید.	۱۶
۰/۵ نمره	شهریور ۱۴۰۲	در مورد «الف»، جای خالی را کامل و در مورد «ب» درستی یا نادرستی عبارت داده شده را مشخص کنید. الف) اگر $A = \begin{bmatrix} -\sin x & \cos x \\ \cos x & \sin x \end{bmatrix}$ باشد، آنگاه دترمینان ماتریس $A$ برابر ..... است. ب) هر ماتریس مربعی وارون پذیر است. (درست / نادرست)	۱۷
۱/۲۵ نمره	شهریور ۱۴۰۲	ماتریس $A = [a_{ij}]_{2 \times 2}$ به صورت $a_{ij} = \begin{cases} i^2 - j & i > j \\ i + j & i \leq j \end{cases}$ داده شده است، ماتریس $A^{-1}$ را به دست آورید.	۱۸
۱/۵ نمره	شهریور ۱۴۰۲	اگر $3A = \begin{bmatrix}  A  & -5 \\ 1 & 4 A  \end{bmatrix}$ باشد، مقدار $ A^{-1} $ را محاسبه کنید.	۱۹

## دستگاه معادلات خطی

۱/۲۵ نمره	خرداد ۱۴۰۱	دستگاه $\begin{cases} 2x + y = 4 \\ 7x + 4y = 15 \end{cases}$ را با استفاده از ماتریس وارون حل کنید.	۱
۱/۵ نمره	خرداد ۱۴۰۱	دستگاه $\begin{cases} 2x + y = 0 \\ x + 3y = 5 \end{cases}$ را با استفاده از ماتریس وارون حل کنید.	۲
۰/۵ نمره	شهریور ۱۴۰۱	درستی یا نادرستی عبارت زیر را مشخص کنید. در دستگاه $\begin{cases} ax + by = c \\ a'x + b'y = c' \end{cases}$ اگر $\frac{a}{a'} = \frac{b}{b'} \neq \frac{c}{c'}$ آنگاه دستگاه بی شمار جواب دارد.	۳
۱/۲۵ نمره	شهریور ۱۴۰۱	دستگاه $\begin{cases} 2x + y = 0 \\ 3y + x = 5 \end{cases}$ را به روش ماتریس معکوس حل کنید. ( خارج کشور )	۴
۱/۲۵ نمره	شهریور ۱۴۰۲	مقدار $m$ را طوری بیابید که دستگاه $\begin{cases} mx + 9y = m + 1 \\ 4x + my = -4 \end{cases}$ جواب نداشته باشد.	۵

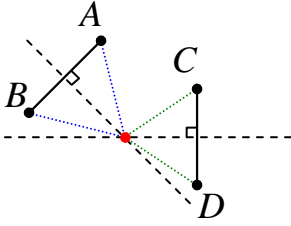
# فصل دوم

## (( هندسه ۳ ))



### درس ۱: مقاطع مخروطی و مکان هندسی

۰/۲۵ نمره	خرداد ۱۴۰۱	درستی یا نادرستی عبارت زیر را مشخص کنید. اگر صفحه‌ی $P$ به گونه‌ای باشد که هر دو تکه‌ی بالایی و پایینی سطح مخروطی را قطع کند و شامل محور نباشد، در این صورت فصل مشترک صفحه‌ی $P$ و سطح مخروطی یک هذلولی است.	۱
۱/۵ نمره	خرداد ۱۴۰۱	نقاط $A$ و $B$ و $C$ در صفحه مفروض اند، نقطه‌ای بیابید که از $A$ و $B$ به یک فاصله بوده و از $C$ به فاصله‌ی ۳ سانتی باشد. (در مورد حالت‌های مختلف جواب بحث کنید).	۲
۰/۲۵ نمره	خرداد ۱۴۰۱	درستی یا نادرستی گزاره زیر را معلوم کنید. (خارج کشور) فصل مشترک یک صفحه و یک کره، همواره یک دایره است.	۳
۱/۵ نمره	خرداد ۱۴۰۱	نقاط $A$ و $B$ و خط $d$ در صفحه مفروض اند، نقطه‌ای بیابید که از $A$ و $B$ به یک فاصله بوده و از خط $d$ به فاصله‌ی یک سانتی باشد. (در مورد حالت‌های مختلف جواب بحث کنید). (خارج کشور)	۴
۰/۲۵ نمره	شهریور ۱۴۰۱	جای خالی را کامل کنید. اگر صفحه‌ی $P$ بر محور سطح مخروطی عمود نباشد و با مولد موازی نباشد و فقط یکی از دو نیمه-ی سطح مخروطی را قطع کند، در این صورت فصل مشترک صفحه‌ی $P$ و سطح مخروطی یک ..... است.	۵
۰/۲۵ نمره	شهریور ۱۴۰۱	درستی یا نادرستی عبارت زیر را مشخص کنید. سهمی، مکان هندسی نقاطی از یک صفحه است که از یک خط ثابت در آن صفحه و یک نقطه‌ی ثابت غیر واقع بر آن خط در آن صفحه به یک فاصله باشد.	۶
۱/۵ نمره	شهریور ۱۴۰۱	دو نقطه‌ی $A$ و $B$ و خط $d$ که شامل هیچ یک نیست در صفحه مفروض اند. نقطه‌ای بیابید که از $A$ و $B$ به یک فاصله بوده و از خط $d$ به فاصله‌ی ۳ سانتی متر باشد.	۷
۰/۲۵ نمره	شهریور ۱۴۰۱	درستی یا نادرستی گزاره‌های زیر را مشخص کنید. (خارج کشور) مکان هندسی مرکز همه‌ی دایره‌هایی با شعاع ثابت $r$ که بر خط $d$ در صفحه مماسند، دو خط به موازات $d$ و به فاصله‌ی $r$ از $d$ است.	۸
۰/۲۵ نمره	دی ۱۴۰۱	درستی یا نادرستی عبارت زیر را مشخص کنید. هرگاه دو خط $d$ و $L$ موازی باشند، از دوران $d$ حول $L$ سطحی ایجاد می‌شود. اگر صفحه‌ی $P$ بر خط $L$ عمود باشد. سطح مقطع صفحه‌ی $P$ و سطح ایجاد شده بیضی است.	۹

۰/۵ نمره	خرداد ۱۴۰۲	در مورد الف، جای خالی را کامل کنید و در مورد ب، درستی یا نادرستی عبارت داده شده را مشخص کنید. الف : مکان هندسی نقاطی از صفحه که از دو ضلع یک زاویه به یک فاصله اند، ..... آن زاویه است. ب : بیضی مکان هندسی نقاطی از یک صفحه است که از یک خط ثابت در آن صفحه و از یک نقطه‌ی ثابت غیر واقع بر آن خط در آن صفحه به یک فاصله باشد.	۱۰
۰/۲۵ نمره	شهریور ۱۴۰۲	جای خالی را کامل کنید. اگر صفحه ای بر محور سطح مخروطی عمود نباشد و با مولد آن موازی نباشد و از رأس عبور نکند، آنگاه سطح مقطع حاصل یک ..... است.	۱۱
۱ نمره	شهریور ۱۴۰۲	 <p>نقاط <math>A</math> و <math>B</math> و <math>C</math> و <math>D</math> در صفحه مفروض اند، نقطه ای در این صفحه بیابید که از <math>A</math> و <math>B</math> به یک فاصله و از <math>C</math> و <math>D</math> نیز به فاصله باشند. (در مورد حالت های مختلف جواب بحث کنید).</p>	۱۲

# فصل دوم

## (( هندسه ۳ ))



### درس ۲: دایره

۰/۲۵ نمره	خرداد ۱۴۰۱	عبارت زیر را با یکی از کلمات داخل پرانتز کامل کنید. نقطه‌ی $A(1, -2)$ در ..... دایره به معادله‌ی $x^2 + y^2 - 2x + 2y = 0$ قرار دارد. (خارج / داخل)	۱
۱ نمره	خرداد ۱۴۰۱	معادله‌ی دایره‌ی ای را بنویسید که مرکز آن نقطه‌ی $O(1, -1)$ و بر خط $3x - 4y + 3 = 0$ مماس باشد.	۲
۱/۵ نمره	خرداد ۱۴۰۱	وضعیت خط $3x - 4y = 13$ را نسبت به دایره‌ی $x^2 + y^2 - 2x = 3$ مشخص کنید. (خارج کشور)	۳
۲ نمره	شهریور ۱۴۰۱	الف) حدود $k$ را طوری به دست آورید که $x^2 + y^2 - 4x + 6y + k = 0$ معادله‌ی یک دایره باشد. ب) وضعیت خط $x + y = 1$ و دایره‌ی $x^2 + y^2 - 2x - 2y - 2 = 0$ را نسبت به هم مشخص کنید.	۴
۰/۷۵ نمره	شهریور ۱۴۰۱	حدود $k$ را طوری به دست آورید که $x^2 + y^2 - 6x + 8y + k = 0$ بتواند معادله‌ی یک دایره باشد. (خارج کشور)	۵
۱ نمره	شهریور ۱۴۰۱	در نقطه‌ی $A(2, 3)$ روی دایره‌ی $x^2 + y^2 - 2x - 2y - 3 = 0$ مماسی بر آن رسم کرده ایم، معادله‌ی این خط مماس را به دست آورید. (خارج کشور)	۶
۱/۵ نمره	شهریور ۱۴۰۱	وضعیت دو دایره‌ی $x^2 + y^2 - 2x = 4$ و $x^2 + y^2 = 4$ را نسبت به هم مشخص کنید. (خارج کشور)	۷
۰/۲۵ نمره	دی ۱۴۰۱	جای خالی را با یک عدد مناسب تکمیل کنید. مکان هندسی مرکز همه‌ی دایره‌های با شعاع ثابت یک، که بر دایره- ی $(x-1)^2 + (y+2)^2 = 16$ مماس خارج باشند، دایره‌های به مرکز $O(1, -2)$ و شعاع ..... است.	۸
۱/۲۵ نمره	دی ۱۴۰۱	معادله‌ی دایره‌ی ای را بنویسید که $O(2, -1)$ مرکز آن بوده و از خط $3x - 4y + 10 = 0$ وتری به طول ۶ جدا کند.	۹

سؤالات موضوعی نهایی درس هندسه ۳ ..... پایه‌ی دوازدهم ریاضی و فیزیک

۱ نمره	دی ۱۴۰۱	در دایره به معادله‌ی ضمنی $x^2 + y^2 + ax + by + c = 0$ با استفاده از روش مربع کامل کردن، ثابت کنید شعاع دایره برابر $R = \frac{\sqrt{a^2 + b^2 - 4c}}{2}$ است.	۱۰
۰/۷۵ نمره	خرداد ۱۴۰۲	معادله‌ی دایره ای را بنویسید که $O(1, 0)$ مرکز آن بوده و از خط $x = -3$ مماس باشد.	۱۱
۱/۷۵ نمره	خرداد ۱۴۰۲	مقدار $c$ را چنان بیابید که دایره‌ی $x^2 + y^2 - 2x + 2y + c = 0$ بر دایره‌ی $(x+1)^2 + (y-1)^2 = 2$ مماس بیرون باشد.	۱۲
۱/۵ نمره	شهریور ۱۴۰۲	معادله‌ی دایره ای را بنویسید که مرکز آن $O(0, 1)$ بوده و روی خط $3x + 4y + 6 = 0$ ، وترى به طول $2\sqrt{5}$ جدا کند. سپس محل تلاقی آن دایره با محور $y$ ها را بیابید.	۱۳
۱/۲۵ نمره	شهریور ۱۴۰۲	وضعیت دو دایره به معادلات $x^2 + y^2 + 6x + 2y - 6 = 0$ و $(x-1)^2 + (y+2)^2 = 1$ را نسبت به هم تعیین کنید. (با ارائه‌ی راه حل)	۱۴

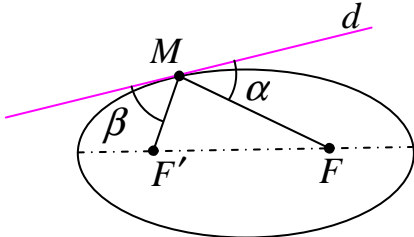
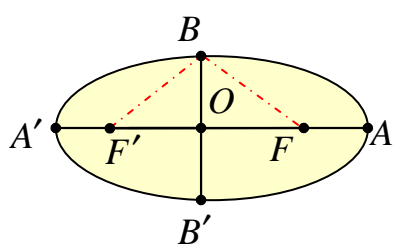


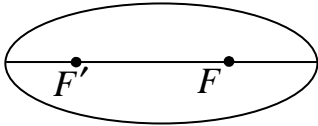
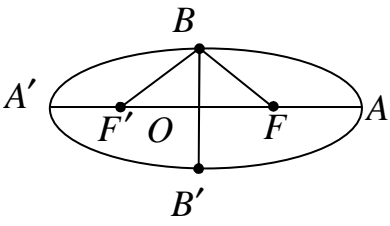
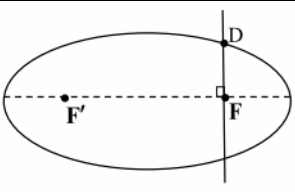
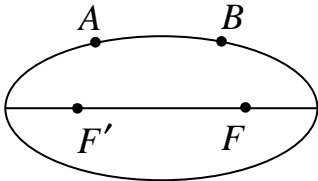
# فصل دوم

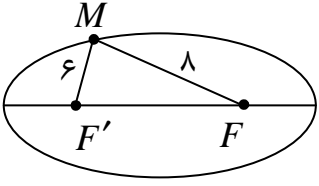
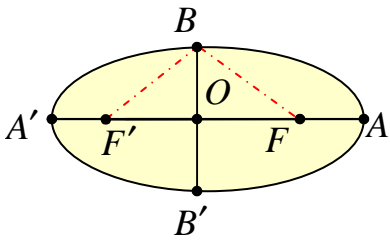
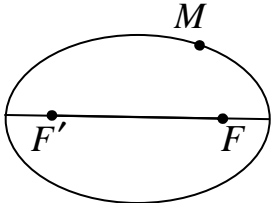
## (( هندسه ۳ ))



### درس ۲: بیضی

۰/۲۵ نمره	خرداد ۱۴۰۱	عبارت زیر را کامل کنید. اگر در بیضی خروج از مرکز به عدد صفر نزدیک شود، کشیدگی بیضی کمتر شده و بیضی به ..... نزدیکتر می شود.	۱
۰/۲۵ نمره	خرداد ۱۴۰۱	درستی یا نادرستی عبارت زیر را مشخص کنید. در شکل روبرو اگر خط $d$ در نقطه‌ی $M$ بر بیضی مماس بوده و زاویه‌ی $FMF'$ برابر $۵۰$ درجه باشد، آنگاه $\alpha = \beta = ۶۰^\circ$ است.	۲
			
۱/۵ نمره	خرداد ۱۴۰۱	در یک بیضی افقی به مرکز مبدأ مختصات طول مختصات طول قطرها برابر $۱۰$ و $۶$ است. الف) خروج از مرکز بیضی را بیابید. ب) مختصات کانون ها ( $F$ و $F'$ ) و مختصات دو سر قطر بزرگ ( $A$ و $A'$ ) و مختصات دو سر قطر کوچک ( $B$ و $B'$ ) را به دست آورید. پ) بیضی را در دستگاه محورهای مختصات رسم کنید.	۳
۰/۲۵ نمره	خرداد ۱۴۰۱	در جای خالی عبارت ریاضی مناسب قرار دهید. (خارج کشور) در حالتی که خروج از مرکز بیضی برابر ..... باشد، بیضی تبدیل به یک پاره خط می شود.	۴
۱/۵ نمره	خرداد ۱۴۰۱	در یک بیضی اندازه‌ی قطر بزرگ برابر $۲۰$ و خروج از مرکز برابر $\frac{۴}{۵}$ است. طول قطر کوچک بیضی و اندازه‌ی کانونی آن را بیابید. (خارج کشور)	۵
۱/۵ نمره	خرداد ۱۴۰۱	اگر در بیضی زیر، طول قطر بزرگ دو برابر طول قطر کوچک باشد، اندازه‌ی زاویه‌ی $FBF'$ را تعیین کنید. (خارج کشور)	۶
			

۱/۲۵ نمره	شهریور ۱۴۰۱	اگر $M$ نقطه ای بیرون بیضی باشد، ثابت کنید، مجموع فواصل نقطه‌ی $M$ از کانون های $F$ و $F'$ بزرگتر از طول قطر بزرگ بیضی است. $M \bullet$	۷
			
۰/۷۵ نمره	شهریور ۱۴۰۱	اگر در یک بیضی طول قطر بزرگ ( $AA'$ ) برابر با ۱۶ و خروج از مرکز $\frac{3}{4}$ باشد، فاصله‌ی رأس $A$ تا نزدیکترین کانون را به دست آورید.	۸
۰/۲۵ نمره	شهریور ۱۴۰۱	در جای خالی عبارت مناسب قرار دهید. ( خارج کشور ) هر چه مقدار خروج از مرکز بیضی به صفر نزدیکتر شود، شکل بیضی به .... نزدیکتر می شود.	۹
۱/۵ نمره	شهریور ۱۴۰۱	اگر خروج از مرکز بیضی $\frac{3}{5}$ و اندازه‌ی قطر کوچک بیضی برابر ۱۶ باشد: ( خارج کشور ) الف : طول قطر بزرگ بیضی را تعیین کنید. ب : فاصله‌ی کانونی را تعیین کنید.	۱۰
۱/۲۵ نمره	شهریور ۱۴۰۱	در یک بیضی طول قطر بزرگ دو برابر طول قطر کوچک است. اندازه‌ی زاویه‌ی $FBF'$ را تعیین کنید. ( خارج کشور )	۱۱
			
۱/۲۵ نمره	دی ۱۴۰۱	در یک بیضی مختصات کانون ها $F(۴,۰)$ و $F'(-۲,۰)$ و طول قطر بزرگ برابر با ۱۰ است. اگر نقطه‌ی $P(۱, m)$ روی این بیضی قرار داشته باشد، مقدار $m$ را بیابید.	۱۲
۱/۲۵ نمره	دی ۱۴۰۱	بیضی با قطر بزرگ $2a$ ، قطر کوچک $2b$ و کانون های $F$ و $F'$ مطابق شکل روبرو مفروض است. اگر خطی در کانون $F$ بر قطر کانونی عمود باشد و بیضی را در نقطه‌ی $D$ قطع کند، ثابت کنید: $DF = \frac{b^2}{a}$	۱۳
			
۱/۵ نمره	خرداد ۱۴۰۲	در شکل روبرو دو نقطه‌ی $A$ و $B$ روی بیضی با کانون های $F$ و $F'$ قرار دارند. اگر $AF' = BF$ و همچنین $AF$ و $BF'$ یکدیگر را درون بیضی در نقطه ای مانند $M$ قطع کنند، نشان دهید $FMF'$ متساوی الساقین است و $M$ روی قطر کوچک بیضی قرار دارد.	۱۴
			

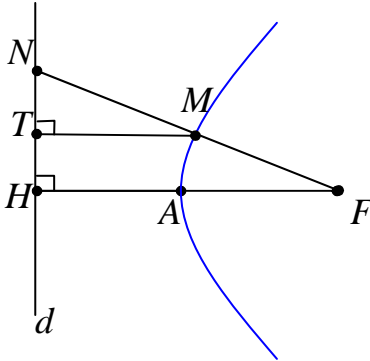
<p>۱/۲۵ نمره</p>	<p>خرداد ۱۴۰۲</p>	 <p>در شکل روبرو نقطه‌ی <math>M</math> روی بیضی با کانون‌های <math>F</math> و <math>F'</math> قرار دارد. به طوری که <math>MF = ۸</math> و <math>MF' = ۶</math>. اگر خروج از مرکز بیضی <math>\frac{۱}{۷}</math> باشد، اندازه‌ی نصف قطر کوچک بیضی را به دست آورید.</p>	<p>۱۵</p>
<p>۱/۲۵ نمره</p>	<p>شهریور ۱۴۰۲</p>	 <p>در یک بیضی با کانون‌های <math>F</math> و <math>F'</math>، طول قطر کوچک نصف طول قطر بزرگ است. اندازه‌ی زاویه‌ی <math>FBF'</math> را به دست آورید.</p>	<p>۱۶</p>
<p>۱/۵ نمره</p>	<p>شهریور ۱۴۰۲</p>	 <p>در شکل مقابل نقطه‌ی <math>M</math> روی بیضی و کانون‌های <math>F</math> و <math>F'</math> مشخص شده اند. خط <math>d</math> را به گونه‌ای رسم کنید که در نقطه‌ی <math>M</math> بر بیضی مماس باشد و سپس از نقطه‌ی <math>F'</math> خطی موازی با <math>MF</math> رسم کنید تا خط <math>d</math> را در نقطه‌ی <math>N</math> قطع کند. ثابت کنید <math>NF' = MF'</math></p>	<p>۱۷</p>

# فصل دوم

## (( هندسه ۳ ))



### درس ۲: سهمی

۱/۵ نمره	خرداد ۱۴۰۱	سهمی به معادله‌ی $y^2 - 2y - 8x + 9 = 0$ را در نظر بگیرید. الف) معادله‌ی متعارف و فاصله‌ی کانونی را بیابید. ب) مختصات رأس، کانون و معادله خط هادی سهمی را به دست آورید.	۱
۱/۲۵ نمره	خرداد ۱۴۰۱	 <p>در شکل روبرو سهمی با رأس <math>A</math> و کانون <math>F</math> و خط هادی <math>d</math> رسم شده است. از کانون <math>F</math> به نقطه‌ی <math>M</math> دلخواه روی سهمی وصل کرده و امتداد داده ایم تا خط <math>d</math> را در <math>N</math> قطع کند و از نقطه‌ی <math>M</math>، پاره خط <math>MT</math> را بر <math>d</math> عمود کرده ایم. ثابت کنید</p> $\frac{FN}{FA} = \frac{2NT}{TH}$	۲
۱/۵ نمره	خرداد ۱۴۰۱	سهمی به معادله‌ی $y^2 + 8x + 2y + 9 = 0$ مفروض است. معادله‌ی استاندارد سهمی را نوشته، نوع سهمی، مختصات رأس، مختصات کانون و معادله‌ی خط هادی سهمی را به دست آورید. (خارج کشور)	۳
۲ نمره	شهریور ۱۴۰۱	الف) معادله‌ی سهمی را بنویسید که رأس آن بوده و معادله‌ی خط هادی آن $x = 3$ باشد. ب) مختصات کانون سهمی را بیابید. پ) مختصات نقطه‌ی برخورد سهمی با محور طول‌ها را حساب کنید.	۴
۱/۵ نمره	شهریور ۱۴۰۱	معادله‌ی سهمی $x^2 - 4 = 8y + 4x$ را به حالت استاندارد تبدیل، مختصات کانون و رأس آن را تعیین کنید. (خارج کشور)	۵
۱/۲۵ نمره	دی ۱۴۰۱	معادله‌ی سهمی را بنویسید که $F(-3, 2)$ مختصات کانون و معادله‌ی خط هادی آن $x = 1$ باشد.	۶
۱/۵ نمره	دی ۱۴۰۱	مختصات نقاط برخورد سهمی $y^2 + 7x + 5 = 0$ و دایره‌ی $x^2 + y^2 = 25$ را به دست آورید.	۷
۱/۵ نمره	خرداد ۱۴۰۲	سهمی با رأس $A(1, 2)$ و کانون $F(1, -2)$ مفروض است. معادلات سهمی و خط هادی آن را بنویسید.	۸

سؤالات موضوعی نهایی درس هندسه ۳ ..... پایهی دوازدهم ریاضی و فیزیک

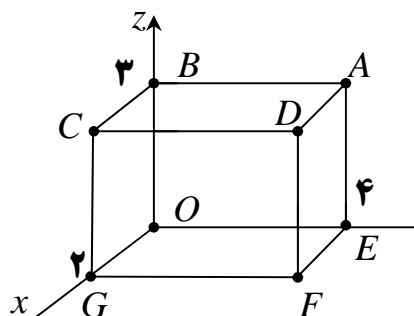
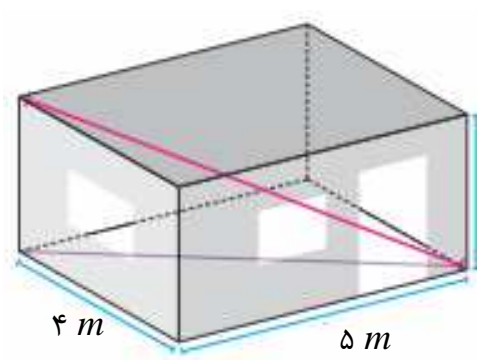
۰/۷۵ نمره	خرداد ۱۴۰۲	اگر اندازه‌ی گودی (عمق) یک دیش مخابراتی سهمی شکل، دو برابر شود، فاصله‌ی کانونی این دیش چه تغییری می‌کند؟ ( با ارائه‌ی راه حل )	۹
۱/۵ نمره	شهریور ۱۴۰۲	معادله‌ی سهمی با کانون $F(1, 2)$ و خط هادی $x = -3$ را بنویسید.	۱۰
۰/۲۵ نمره	شهریور ۱۴۰۲	درستی یا نادرستی عبارت داده شده را مشخص کنید. در هر سهمی، هر شعاع نوری که از کانون آن به بدنه‌ی سهمی بتابد، بازتاب آن موازی با محور سهمی باز خواهد گشت.	۱۱

# فصل سوم

## (( هندسه ۳ ))



### درس ۱ : فضای سه بعدی و بردار

۰/۵ نمره	خرداد ۱۴۰۱	شکل کلی ( نمودار ) مربوط به رابطه $x^2 \leq y \leq 2$ را رسم کنید.	۱
۱/۵ نمره	خرداد ۱۴۰۱	<div style="display: flex; align-items: center;">  <div style="margin-left: 20px;"> <p>با توجه به شکل مقابل، به سؤالات زیر پاسخ دهید.</p> <p>الف) نام وجهی از شکل که معادله‌ی آن به صورت زیر مشخص شده را بنویسید.</p> <p style="text-align: center;"><math>(x=2 \text{ و } 0 \leq y \leq 4 \text{ و } 0 \leq z \leq 3)</math></p> <p>ب) معادلات مربوط به پاره خط (یال) <math>AD</math> را بنویسید.</p> <p>پ) مختصات نقطه‌ی <math>D</math> را بنویسید.</p> <p>ت) معادله‌ی صفحه‌ی ای را بنویسید که موازی با صفحه‌ی <math>xOz</math> باشد و مکعب مستطیل را نصف کند.</p> </div> </div>	۲
۱ نمره	خرداد ۱۴۰۱	<p>در شکل مقابل، اتاقی به طول ۵ و عرض ۴ و ارتفاع ۳ متر مشاهده می شود. طول قطر کف اتاق و طول قطر این اتاق از یک گوشه آن به گوشه‌ی مقابلش چقدر است؟ (خارج کشور)</p> <div style="text-align: center;">  </div>	۳
۰/۲۵ نمره	خرداد ۱۴۰۱	در جای خالی عبارت ریاضی مناسب قرار دهید. (خارج کشور)	۴
۰/۲۵ نمره	شهریور ۱۴۰۱	<p>نمودار مربوط به معادله‌ی <math>x=0</math> در <math>R^3</math>، تمام نقاط ..... است.</p> <p>جای خالی را کامل کنید.</p> <p>در فضای سه بعدی، نمودار مربوط به معادلات <math>\begin{cases} x=0 \\ z=0 \end{cases}</math>، معادله‌ی محور ..... است.</p>	۵

سؤالات موضوعی نهایی درس هندسه ۳ ..... پایهی دوازدهم ریاضی و فیزیک

۰/۲۵ نمره	شهریور ۱۴۰۱	درستی یا نادرستی عبارت زیر را مشخص کنید. اگر $\vec{a}$ و $\vec{b}$ دو بردار دلخواه، $r$ عدد حقیقی و $\vec{b} = r\vec{a}$ ، آنگاه $\ \vec{b}\  =  r  \times \ \vec{a}\ $	۶
۰/۷۵ نمره	شهریور ۱۴۰۱	شکل کلی (نمودار) مربوط به رابطه‌ی $1 < x \leq 2$ و $y = x^2$ را در فضای دو بعدی رسم کنید.	۷
۰/۵ نمره	شهریور ۱۴۰۱	طول بردار $\vec{a} = (0, -3, 4)$ را به دست آورید.	۸
۰/۲۵ نمره	شهریور ۱۴۰۱	درستی یا نادرستی گزاره های زیر را مشخص کنید. (خارج کشور) نقطه‌ی $(0, 0, -3)$ روی صفحه‌ی $YOZ$ قرار دارد.	۹
۱/۲۵ نمره	دی ۱۴۰۱	در مورد الف، جای خالی را کامل کنید و در مورد ب، نمودار رسم نمایید. الف) معادله‌ی صفحه‌ی ای که بر محور $Z$ ها در نقطه‌ی $A(0, 0, 3)$ عمود باشد، به صورت ... است. ب) شکل کلی (نمودار) مربوط به روابط $-1 \leq y \leq -2$ و $y < -x^2 + 1$ را در فضای دو بعدی رسم کنید.	۱۰
۰/۷۵ نمره	خرداد ۱۴۰۲	شکل کلی (نمودار) مربوط به روابط $x > -2$ و $y^2 + x \leq 0$ را در فضای دو بعدی رسم کنید.	۱۱
۰/۲۵ نمره	خرداد ۱۴۰۲	جای خالی را کامل کنید. در فضای سه بعدی، نمودار مربوط به معادلات $\begin{cases} x = 2 \\ y = 1 \end{cases}$ ، خطی موازی محور ..... است.	۱۲
۰/۷۵ نمره	خرداد ۱۴۰۲	نقطه‌ی $A$ به ارتفاع ۳ روی محور $Z$ ها و نقطه‌ی $B(1, 0, 1)$ در فضا مفروض اند. فاصله‌ی مختصات نقطه‌ی وسط پاره خط $AB$ تا مبدأ مختصات را حساب کنید.	۱۳
۰/۲۵ نمره	شهریور ۱۴۰۲	درستی یا نادرستی عبارت داده شده را مشخص کنید. الف) نقطه‌ی $(-2, 3, -1)$ در ناحیه‌ی ششم مختصاتی قرار دارد.	۱۴

# فصل سوم

## (( هندسه ۳ ))

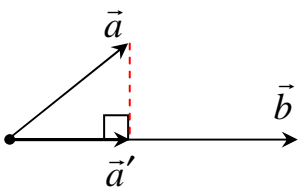


### درس ۲: ضرب داخلی دو بردار و کاربرد

۱/۷۵ نمره	خرداد ۱۴۰۱	سه بردار $\vec{a} = 2\vec{i} + 3\vec{j} - \vec{k}$ و $\vec{b} = \vec{i} + \vec{k}$ و $\vec{c} = (0, 2, 1)$ را در نظر بگیرید. الف) کسینوس زاویه‌ی بین دو بردار $\vec{a}$ و $\vec{b}$ را بیابید. ب) تصویر قائم بردار $\vec{a}$ بر امتداد بردار $\vec{c} - \vec{b}$ را بدست آورید.	۱
۱ نمره	خرداد ۱۴۰۱	برای دو بردار غیر صفر $\vec{a}$ و $\vec{b}$ ، ثابت کنید دو بردار $\vec{a}$ و $\vec{b}$ بر هم عمودند، اگر و فقط اگر $\vec{a} \cdot \vec{b} = 0$ .	۲
۲ نمره	خرداد ۱۴۰۱	اگر $\vec{a} = 4\vec{k} - 2\vec{j} - \vec{i}$ و $\vec{b} = \vec{i} + 2\vec{j}$ و $r = \frac{1}{4}$ (خارج کشور) الف) بردار $r(3\vec{a} - \vec{b})$ را بیابید. ب) تصویر قائم بردار $\vec{a}$ بر امتداد بردار $\vec{b}$ را بدست آورید.	۳
۱ نمره	خرداد ۱۴۰۱	زاویه‌ی بین دو بردار $\vec{a} = (2, 2, -1)$ و $\vec{b} = (1, 0, -1)$ را پیدا کنید. (خارج کشور)	۴
۱ نمره	شهریور ۱۴۰۱	مقدار $m$ را چنان بیابید که دو بردار $\vec{a} = (2, m, -1)$ و $\vec{b} = (m + 1, 3, 2)$ بر هم عمود باشند.	۵
۰/۲۵ نمره	شهریور ۱۴۰۱	درستی یا نادرستی گزاره‌ی زیر را مشخص کنید. (خارج کشور) برای هر دو بردار $\vec{a}$ و $\vec{b}$ نامساوی $ \vec{a} \cdot \vec{b}  \leq \ \vec{a}\  \times \ \vec{b}\ $	۶
۱/۲۵ نمره	شهریور ۱۴۰۱	فرض کنید $\vec{a}$ و $\vec{b}$ و $\vec{c}$ بردارهایی باشند که به ترتیب به طول‌های ۲ و ۳ و ۴ باشند. اگر این سه بردار دو به دو بر هم عمود باشند، طول بردار $\vec{a} + \vec{b} + \vec{c}$ را تعیین کنید. (خارج کشور)	۷
۱ نمره	شهریور ۱۴۰۱	اگر $\vec{a} = (2, -6, 4)$ و $\vec{b} = (-2, 1, -5)$ باشند، آنگاه تصویر قائم بردار $\vec{a}$ بر امتداد قائم بردار $\vec{b}$ را به دست آورید. (خارج کشور)	۸
۰/۲۵ نمره	شهریور ۱۴۰۱	در جای خالی عبارت مناسب قرار دهید. (خارج کشور) اگر برای دو بردار $\vec{a}$ و $\vec{b}$ داشته باشیم: $\vec{a} \cdot \vec{b} = \ \vec{a}\  \times \ \vec{b}\ $ در این صورت زاویه‌ی بین دو بردار $\vec{a}$ و $\vec{b}$ برابر ..... است.	۹
۱/۵ نمره	دی ۱۴۰۱	اگر زاویه‌ی بین دو بردار $\vec{a} = (2, -1, n)$ و $\vec{b} = (1, 0, -1)$ برابر با ۱۳۵ درجه باشد، مقدار $n$ را بیابید.	۱۰



سؤالات موضوعی نهایی درس هندسه ۳ ..... پایهی دوازدهم ریاضی و فیزیک

۱/۲۵ نمره	دی ۱۴۰۱	ثابت کنید اگر دو بردار $\vec{a}$ و $\vec{b}$ در یک راستا باشند، آنگاه تصویر قائم $\vec{a}$ بر امتداد $\vec{b}$ ، برابر خود $\vec{a}$ می شود.	۱۱
۰/۵ نمره	خرداد ۱۴۰۲	گزینه‌ی صحیح را انتخاب کنید. زاویه‌ی بین بردارهای غیر صفر $\vec{a}$ و $\vec{b}$ ، برابر $\theta$ است. در کدامیک از موارد زیر حاصل ضرب داخلی آنها بیشترین مقدار را دارد؟ $\theta = \frac{\pi}{3}$ (۴) $\theta = \frac{\pi}{2}$ (۳) $\theta = \frac{2\pi}{3}$ (۲) $\theta = 0$ (۱)	۱۲
۱/۲۵ نمره	خرداد ۱۴۰۲	نشان دهید، تصویر قائم بردار $\vec{a}$ روی امتداد بردار $\vec{b}$ ، برداری به شکل $\vec{a}' = \frac{\vec{a} \cdot \vec{b}}{\ \vec{b}\ ^2} \vec{b}$ است. 	۱۳
۱/۲۵ نمره	خرداد ۱۴۰۲	زاویه‌ی بین دو بردار $\vec{a} = (2, -1, 2)$ و $\vec{b} = (1, -1, 0)$ را به دست آورید.	۱۴
۱/۵ نمره	شهریور ۱۴۰۲	مقدار $m$ را طوری بیابید که زاویه‌ی بین دو بردار $\vec{a} = (m, 0, 2)$ و $\vec{b} = (2, -2, 0)$ برابر $\frac{\pi}{3}$ باشد.	۱۵
۱/۵ نمره	شهریور ۱۴۰۲	اگر $\vec{a} = (2, -1, 1)$ ، $\vec{b} = (-1, 2, 0)$ و $\vec{c} = \vec{i} - \vec{j}$ باشند، تصویر قائم بردار $\vec{a} + \vec{b}$ بر امتداد بردار $2\vec{c} - \vec{b}$ را به دست آورید.	۱۶

# فصل سوم

## (( هندسه ۳ ))



### درس ۳: ضرب خارجی دو بردار و کاربرد

۰/۲۵ نمره	خرداد ۱۴۰۱	درستی یا نادرستی عبارت زیر را مشخص کنید. برای دو بردار واحد $\vec{i}$ و $\vec{j}$ حاصل ضرب خارجی $(\vec{i} \times \vec{j} = \vec{o})$ برابر صفر است.	۱
۱ نمره	خرداد ۱۴۰۱	دو بردار $\vec{a}$ و $\vec{b}$ مفروض اند. اگر $\ \vec{a}\  = 6$ و $\ \vec{b}\ $ و زاویه‌ی بین دو بردار $30^\circ$ درجه باشد. مقدار $\ \vec{a} \times \vec{b}\ $ را محاسبه کنید.	۲
۰/۲۵ نمره	خرداد ۱۴۰۱	عبارت زیر را کامل کنید. اگر سه بردار $\vec{a}$ و $\vec{b}$ و $\vec{c}$ در یک صفحه باشند، آنگاه حجم متوازی السطوح بنا شده توسط این سه بردار برابر ..... است.	۳
۱/۵ نمره	خرداد ۱۴۰۱	اگر $A = (2, -1, 3)$ و $B = (3, 1, 4)$ و $C = (-1, 1, 0)$ سه رأس مثلث $ABC$ باشند، مساحت $ABC$ را با استفاده از ضرب خارجی به دست آورید.	۴
۰/۲۵ نمره	خرداد ۱۴۰۱	درستی یا نادرستی گزاره ی زیر را معلوم کنید. حاصل ضرب خارجی هر بردار در خودش برابر بردار صفر است.	۵
۱/۵ نمره	خرداد ۱۴۰۱	اگر $A(-1, 2, 0)$ و $B(1, 0, -1)$ و $C(0, -1, 1)$ سه رأس مثلث $ABC$ باشند، مساحت $ABC$ را با استفاده از ضرب خارجی به دست آورید.	۶
۲ نمره	شهریور ۱۴۰۱	اگر $\ \vec{a}\  = 3$ و $\ \vec{b}\  = 5$ و حاصل ضرب داخلی دو بردار برابر $10$ باشد، مساحت مثلثی که توسط دو بردار $\vec{a}$ و $\vec{b}$ تولید می شود، چقدر است؟	۷
۱/۲۵ نمره	شهریور ۱۴۰۱	حجم متوازی السطوحی را به دست آورید که توسط سه بردار $\vec{a} = (1, 0, -1)$ و $\vec{b} = (0, 2, 2)$ و $\vec{c} = (2, -3, 0)$ تولید می شود.	۸
۲ نمره	شهریور ۱۴۰۱	دو بردار $\vec{a} = -\vec{k} - \vec{j}$ و $\vec{b} = (2, -1, -2)$ را در نظر بگیرید. (خارج کشور) الف) زاویه‌ی بین دو بردار را تعیین کنید. ب) برداری عمود بر دو بردار $\vec{a}$ و $\vec{b}$ پیدا کنید.	۹
۱/۲۵ نمره	شهریور ۱۴۰۱	آیا سه بردار $\vec{a} = (1, 1, 0)$ و $\vec{b} = (2, -1, 2)$ و $\vec{c} = (3, 1, 2)$ در یک صفحه قرار دارند؟ چرا؟ (خارج کشور)	۱۰
۲	دی	سه بردار $\vec{a} = 2\vec{i} + 3\vec{j} - \vec{k}$ و $\vec{b} = \vec{i} + \vec{k}$ و $\vec{c} = (0, 2, 1)$ را در نظر بگیرید.	۱۱

سؤالات موضوعی نهایی درس هندسه ۳ ..... پایهی دوازدهم ریاضی و فیزیک

نمره	۱۴۰۱	الف) طول بردار $\vec{c} - 2\vec{b}$ را به دست آورید. ب) مساحت متوازی الاضلاع که روی دو بردار $\vec{a}$ و $\vec{c} + \vec{b}$ ایجاد می شود را به دست آورید.	
نمره	۱۴۰۲	خرداد ۱/۲۵	۱۲
نمره	۱۴۰۲	خرداد ۱/۲۵	۱۳
نمره	۱۴۰۲	خرداد ۰/۷۵	۱۴
نمره	۱۴۰۲	شهریور ۰/۲۵	۱۵
نمره	۱۴۰۲	شهریور ۱	۱۶
نمره	۱۴۰۲	شهریور ۱/۵	۱۷

# فصل اوّل

## (( هندسه ۳ ))



### درس ۱: ماتریس و اعمال روی ماتریس ها

۱	<p>می دانیم که در ماتریس همانی درایه های روی قطر اصل برابر یک و درایه های خارج قطر اصلی صفر هستند. لذا در ماتریس همانی <math>\begin{bmatrix} n &amp; m-1 \\ 0 &amp; 1 \end{bmatrix}</math> داریم <math>n=1</math> و <math>m-1=0</math> یعنی <math>m=1</math> که نتیجه می شود <math>m+n=2</math></p>																
۲	$A \times B = \begin{bmatrix} 4 & a \\ b & -1 \end{bmatrix} \times \begin{bmatrix} 1 & -2 \\ 3 & 2 \end{bmatrix} = \begin{bmatrix} 4+3a & -8+2a \\ b-3 & -2b-2 \end{bmatrix}$ <p>و چون در ماتریس قطری دایره های خارج از قطر اصلی برابر صفر می باشند، لذا:  <math>-8+2a=0 \rightarrow a=4</math> و <math>b-3=0 \rightarrow b=3</math></p>																
۳	<p>با توجه به تعریف <math>a_{ij} = \begin{cases} i+j &amp; i=j \\ j &amp; i&gt;j \\ 0 &amp; i&lt;j \end{cases}</math> می توان به شکل زیر عمل کرد:</p> <table border="1" style="margin: 10px auto; border-collapse: collapse; text-align: center;"> <thead> <tr> <th style="padding: 5px;">ستون / سطر</th> <th style="padding: 5px;">۱</th> <th style="padding: 5px;">۲</th> <th style="padding: 5px;">۳</th> </tr> </thead> <tbody> <tr> <td style="padding: 5px;">۱</td> <td style="padding: 5px; color: red;"><math>1+1=2</math></td> <td style="padding: 5px; color: red;">۰</td> <td style="padding: 5px; color: red;">۰</td> </tr> <tr> <td style="padding: 5px;">۲</td> <td style="padding: 5px; color: red;">۱</td> <td style="padding: 5px; color: red;"><math>2+2=4</math></td> <td style="padding: 5px; color: red;">۰</td> </tr> <tr> <td style="padding: 5px;">۳</td> <td style="padding: 5px; color: red;">۱</td> <td style="padding: 5px; color: red;">۲</td> <td style="padding: 5px; color: red;"><math>3+3=6</math></td> </tr> </tbody> </table> <p><math>\rightarrow A = \begin{bmatrix} 2 &amp; 0 &amp; 0 \\ 1 &amp; 4 &amp; 0 \\ 1 &amp; 2 &amp; 6 \end{bmatrix}</math></p>	ستون / سطر	۱	۲	۳	۱	$1+1=2$	۰	۰	۲	۱	$2+2=4$	۰	۳	۱	۲	$3+3=6$
ستون / سطر	۱	۲	۳														
۱	$1+1=2$	۰	۰														
۲	۱	$2+2=4$	۰														
۳	۱	۲	$3+3=6$														
۴	<p>درست ، وقتی گفته می شود، ماتریس <math>A_{3 \times 4}</math>، یعنی اینکه این ماتریس دارای ۳ سطر و ۴ ستون می باشد. در نتیجه این ماتریس دارای <math>3 \times 4 = 12</math> درایه می باشد.</p>																
۵	<p>می دانیم که برابر هر ماتریس مربعی <math>I_n</math> داریم <math>AI = IA = A</math> ، لذا در اصطلاح گفته می شود که <math>I_n</math> عضو خنثی برای عمل ضرب ماتریس های مربعی مرتبه <math>n</math> است.</p>																
۶	<p>اگر <math>C = \begin{bmatrix} 0 &amp; 4 \\ 0 &amp; 0 \end{bmatrix}</math> و <math>B = \begin{bmatrix} 0 &amp; 0 \\ 0 &amp; 2 \end{bmatrix}</math> و <math>A = \begin{bmatrix} 1 &amp; 2 \\ 0 &amp; 0 \end{bmatrix}</math> در این صورت</p>																

$$AB = \begin{bmatrix} 1 & 2 \\ 0 & 0 \end{bmatrix} \times \begin{bmatrix} 0 & 0 \\ 0 & 2 \end{bmatrix} = \begin{bmatrix} 0 & 4 \\ 0 & 0 \end{bmatrix}$$

$$AC = \begin{bmatrix} 1 & 2 \\ 0 & 0 \end{bmatrix} \times \begin{bmatrix} 0 & 4 \\ 0 & 0 \end{bmatrix} = \begin{bmatrix} 0 & 4 \\ 0 & 0 \end{bmatrix}$$

یعنی  $AB = AC$  . این در حالی است که  $B \neq C$

الف)  $2x - 1 = 5 \rightarrow x = 3$   
 ب)  $m + 1 = 0 \rightarrow m = -1$  و  $2n + 4 = 0 \rightarrow n = -2$   
 $A + I = \begin{bmatrix} 2 & 0 \\ 0 & 5 \end{bmatrix} + \begin{bmatrix} 1 & 0 \\ 0 & 1 \end{bmatrix} = \begin{bmatrix} 3 & 0 \\ 0 & 6 \end{bmatrix}$

الف) ابتدا هر یک از درایه های ماتریس  $A$  را محاسبه می کنیم.

$3i - 2j$	۱	۲	۳
۱	$3(1) - 2(1) = 1$	$3(1) - 2(2) = -1$	$3(1) - 2(3) = -3$
۲	$3(2) - 2(1) = 4$	$3(2) - 2(2) = 2$	$3(2) - 2(3) = 0$
۳	$3(3) - 2(1) = 7$	$3(3) - 2(2) = 5$	$3(3) - 2(3) = 3$

$$\rightarrow A = \begin{bmatrix} 1 & -1 & -3 \\ 4 & 2 & 0 \\ 7 & 5 & 3 \end{bmatrix}$$

ب)

$$B^2 = B \times B = \begin{bmatrix} 1 & 2 & 0 \\ 0 & 1 & 3 \\ -1 & 2 & 1 \end{bmatrix} \times \begin{bmatrix} 1 & 2 & 0 \\ 0 & 1 & 3 \\ -1 & 2 & 1 \end{bmatrix} = \begin{bmatrix} 1 & 4 & 6 \\ -3 & 7 & 6 \\ -2 & 2 & 7 \end{bmatrix}$$

$(A - B)^2 = (A - B)(A - B) = A^2 - AB - BA + B^2 \stackrel{AB=BA}{=} A^2 - 2AB + B^2$

۱۰ نادرست، در ماتریس قطری تمام درایه های غیر واقع بر قطر اصلی آن برابر صفر می باشند.

ابتدا هر یک از درایه های ماتریس  $A$  را محاسبه می کنیم.

	۱	۲	۳
۱	$(1)^2 = 1$	$(2)(1) = 2$	$(3)(1) = 3$
۲	$(1) + (2) = 3$	$(2)^2 = 4$	$(3)(2) = 6$
۳	$(1) + (3) = 4$	$(2) + (3) = 5$	$(3)^2 = 9$

$$\rightarrow A = \begin{bmatrix} 1 & 2 & 3 \\ 3 & 4 & 6 \\ 4 & 5 & 9 \end{bmatrix}$$

$3A - 4I = 3 \begin{bmatrix} 1 & 2 & 3 \\ 3 & 4 & 6 \\ 4 & 5 & 9 \end{bmatrix} - 4 \begin{bmatrix} 1 & 0 & 0 \\ 0 & 1 & 0 \\ 0 & 0 & 1 \end{bmatrix} = \begin{bmatrix} -1 & 6 & 9 \\ 9 & 8 & 18 \\ 12 & 15 & 23 \end{bmatrix}$																	
$A = \begin{bmatrix} 1 & 0 & 0 \\ 0 & 3 & 0 \\ 0 & 0 & -2 \end{bmatrix} \rightarrow A^2 = A \times A = \begin{bmatrix} 1 & 0 & 0 \\ 0 & 3 & 0 \\ 0 & 0 & -2 \end{bmatrix} \times \begin{bmatrix} 1 & 0 & 0 \\ 0 & 3 & 0 \\ 0 & 0 & -2 \end{bmatrix} = \begin{bmatrix} 1 & 0 & 0 \\ 0 & 9 & 0 \\ 0 & 0 & 4 \end{bmatrix}$ $A^3 = A^2 \times A = \begin{bmatrix} 1 & 0 & 0 \\ 0 & 9 & 0 \\ 0 & 0 & 4 \end{bmatrix} \times \begin{bmatrix} 1 & 0 & 0 \\ 0 & 3 & 0 \\ 0 & 0 & -2 \end{bmatrix} = \begin{bmatrix} 1 & 0 & 0 \\ 0 & 27 & 0 \\ 0 & 0 & -8 \end{bmatrix}$ $A \times B = \begin{bmatrix} 1 & 0 & 0 \\ 0 & 3 & 0 \\ 0 & 0 & -2 \end{bmatrix} \times \begin{bmatrix} 1 & 0 & -2 \\ -1 & 3 & 0 \\ 2 & 1 & 0 \end{bmatrix} = \begin{bmatrix} 1 & 0 & -2 \\ -3 & 9 & 0 \\ -4 & -2 & 0 \end{bmatrix}$	۱۲																
$m - 2 = 0 \rightarrow m = 2 \xrightarrow{m=n} n = 2$	۱۳																
<p>الف: ابتدا هر یک از درایه ها را تعیین می کنیم.</p> <table border="1" data-bbox="502 974 1204 1198"> <thead> <tr> <th></th> <th><math>j=1</math></th> <th><math>j=2</math></th> <th><math>j=3</math></th> </tr> </thead> <tbody> <tr> <th><math>i=1</math></th> <td>۲</td> <td>۰</td> <td>۱</td> </tr> <tr> <th><math>i=2</math></th> <td>۱</td> <td>۳</td> <td>۱</td> </tr> <tr> <th><math>i=3</math></th> <td>۱</td> <td>۱</td> <td>۴</td> </tr> </tbody> </table> <p>ب:</p> $\rightarrow B = \begin{bmatrix} 2 & 0 & 1 \\ 1 & 3 & 1 \\ 1 & 1 & 4 \end{bmatrix}$ $B^2 = B \times B = \begin{bmatrix} 2 & 0 & 1 \\ 1 & 3 & 1 \\ 1 & 1 & 4 \end{bmatrix} \times \begin{bmatrix} 2 & 0 & 1 \\ 1 & 3 & 1 \\ 1 & 1 & 4 \end{bmatrix} = \begin{bmatrix} 5 & 1 & 6 \\ 6 & 10 & 8 \\ 7 & 7 & 18 \end{bmatrix}$ $B^2 + 3I = \begin{bmatrix} 5 & 1 & 6 \\ 6 & 10 & 8 \\ 7 & 7 & 18 \end{bmatrix} + 3 \begin{bmatrix} 1 & 0 & 0 \\ 0 & 1 & 0 \\ 0 & 0 & 1 \end{bmatrix} = \begin{bmatrix} 8 & 1 & 6 \\ 6 & 13 & 8 \\ 7 & 7 & 21 \end{bmatrix}$		$j=1$	$j=2$	$j=3$	$i=1$	۲	۰	۱	$i=2$	۱	۳	۱	$i=3$	۱	۱	۴	۱۴
	$j=1$	$j=2$	$j=3$														
$i=1$	۲	۰	۱														
$i=2$	۱	۳	۱														
$i=3$	۱	۱	۴														
$(A - 3I)^2 = (A - 3I)(A - 3I) = A^2 - 3AI - 3IA + 9I^2$ $= A^2 - 3A - 3A + 9I = A^2 - 6A + 9I$ <p style="text-align: right;">توجه کنید که <math>I^2 = I</math> و <math>IA = AI = A</math></p>	۱۵																

$A + B = \begin{bmatrix} 5 & 4 \\ 8 & 3 \end{bmatrix} \rightarrow \begin{bmatrix} 2 & 3 \\ 5 & 1 \end{bmatrix} + \begin{bmatrix} x+1 & y+2 \\ 3 & 2 \end{bmatrix} = \begin{bmatrix} 5 & 4 \\ 8 & 3 \end{bmatrix}$ $\rightarrow \begin{cases} 2 + (x+1) = 5 \rightarrow x = 2 \\ 3 + (y+2) = 4 \rightarrow y = -1 \end{cases}$	۱۶
اسکالر	۱۷
ابتدا ماتریس های سمت چپ معادله را ضرب می کنیم.	۱۸
$\begin{bmatrix} x-2 & -3 \end{bmatrix} \begin{bmatrix} x \\ 1 \end{bmatrix} = 0 \rightarrow x^2 - 2x - 3 = 0 \rightarrow x = -1, x = 3$	

# فصل اول

## (( هندسه ۳ ))



### درس ۲: وارون ماتریس و دترمینان

#### دترمینان و وارون ماتریس

۱	<p>درست: بنابر ویژگی های دترمینان می توان نوشت:</p> $ 2A  = 2^3  A  = 8 \times 5 = 40$
۲	<p>برای محاسبه دترمینان، چون در صورت سؤال اشاره ای به روش خاصی نشده است، می توان به دلخواه عمل کرد. در اینجا از روش ساروس استفاده می کنیم.</p> $\begin{bmatrix} 2 & 1 & 0 \\ -1 & 3 & 2 \\ 2 & 0 & 5 \end{bmatrix} \begin{bmatrix} 2 & 1 & 0 \\ -1 & 3 & 2 \\ 2 & 0 & 5 \end{bmatrix}$ $\rightarrow  B  = (3 \cdot 0 + 4 \cdot 0) - (0 \cdot -5 + 0) = 34 + 5 = 39$
۳	<p>می دانیم که دو ماتریس <math>A</math> و <math>B</math> وارون همدیگرنند، هرگاه <math>A \times B = B \times A = I</math></p> <p>در اینجا چون</p> $A \times B = \begin{bmatrix} 1 & -1 \\ 2 & 1 \end{bmatrix} \times \begin{bmatrix} 1 & 1 \\ 0 & -1 \end{bmatrix} = \begin{bmatrix} 1 & 2 \\ 2 & 1 \end{bmatrix}$ <p>و چون حاصل ضرب ماتریس همانی نشد، پس دو ماتریس وارون یکدیگر نیستند و لذا عبارت داده شده نادرست است.</p>
۴	<p>کافی است ماتریس را دو بار کنار هم بنویسیم و سپس دستور ساروس را بکار بگیریم.</p> $\begin{bmatrix} 1 & 2 & -1 \\ 1 & 2 & 3 \\ -1 & 2 & 1 \end{bmatrix} \begin{bmatrix} 1 & 2 & -1 \\ 1 & 2 & 3 \\ -1 & 2 & 1 \end{bmatrix}$ $ A  = (2 - 6 - 2) - (-2 - 2 - 6) = 4$
۵	<p>ابتدا <math> A </math> را به روش دلخواه محاسبه می کنیم. در اینجا از روش بسط نسبت به سطر اول استفاده می کنیم.</p> $ A  = (-1)(-1)^{1+1} \begin{vmatrix} 2 & -2 \\ -4 & 1 \end{vmatrix} = (-1)(1)(2 + 8) = -10$ <p>ماتریس <math>A</math> یک ماتریس مربعی مرتبه ۳ است و به کمک ویژگی های دترمینان می توان نوشت:</p> $\ A A  =  A ^3  A  = (-10)^3 (-10) = (-1000)(-10) = 10000$



<p>ابتدا دترمینان ماتریس <math>A</math> را محاسبه می کنیم.</p> $A = \begin{bmatrix} 2 & m \\ 1 & 3 \end{bmatrix} \rightarrow  A  = (2)(3) - (1)(m) = 6 - m$ $ A ^2 - 5 A  + 6 = 0 \rightarrow (6 - m)^2 - 5(6 - m) + 6 = 0$ $\rightarrow 36 - 12m + m^2 - 30 + 5m + 6 = 0 \rightarrow m^2 - 7m + 12 = 0$ $\rightarrow (m - 3)(m - 4) = 0 \rightarrow m = 3, m = 4$	<p>۶</p>
<p>می دانیم که ماتریس اسکالر، یک ماتریس قطری است که در آن تمام درایه های روی قطر اصلی برابر می باشند. در اینجا چون <math>a_{22} = 5</math> و این درایه روی قطر اصلی قرار دارد، لذا تمام درایه های روی قطر اصلی ماتریس <math>A</math> برابر ۵ می باشند. از طرفی ماتریس <math>A</math> یک ماتریس قطری است و دترمینان ماتریس قطری برابر حاصل ضرب درایه های روی قطر اصلی آن است. پس:</p> $ A  = 5 \times 5 \times 5 = 125$	<p>۷</p>
$A - 2I = \begin{bmatrix} 4 & 1 \\ 0 & 3 \end{bmatrix} - 2 \begin{bmatrix} 1 & 0 \\ 0 & 1 \end{bmatrix} = \begin{bmatrix} 2 & 1 \\ 0 & 1 \end{bmatrix}$ $ A - 2I  = (2)(1) - (1)(0) = 2$ $(A - 2I)^{-1} = \frac{1}{ A - 2I } (A - 2I)^* = \frac{1}{2} \begin{bmatrix} 1 & -1 \\ 0 & 2 \end{bmatrix}$	<p>۸</p>
$A = \begin{bmatrix} 0 & 0 & 1 \\ 0 & 2 & 0 \\ -1 & 0 & 0 \end{bmatrix} \rightarrow  A  = 1(-1)^{1+3} \begin{vmatrix} 0 & 2 \\ -1 & 0 \end{vmatrix} = 2$ $\ A\   A  =  2A  = 2^3  A  = 8 \times 2 = 16$	<p>۹</p>
<p>الف) منحصر به فرد ب) چون ماتریس داده شده وارون پذیر نیست. پس:</p> $ A  = 0 \rightarrow (-6)(a) - (8)(-3) = 0 \rightarrow -6a = -24 \rightarrow a = 4$	<p>۱۰</p>
<p>فرض کنیم که <math> A  = d</math> در این صورت:</p> $A = \begin{bmatrix} 2 A  &  A  \\ 7 &  A ^2 \end{bmatrix} \rightarrow  A  = \begin{vmatrix} 2 A  &  A  \\ 7 &  A ^2 \end{vmatrix} \rightarrow d = \begin{vmatrix} 2d & d \\ 7 & d^2 \end{vmatrix} \rightarrow d = 2d^3 - 7d$ $\rightarrow 2d^3 - 7d = 0 \rightarrow 2d(d^2 - 4) = 0 \rightarrow d = 0, d = 2, d = -2$	<p>۱۱</p>
$A^{-1} = \frac{1}{ A } A^* = -\frac{1}{2} \begin{bmatrix} -1 & 1 \\ -1 & 3 \end{bmatrix}$ $\xrightarrow{\times \frac{1}{5}} \frac{1}{5} A^{-1} = \left(\frac{1}{5}\right) \left(-\frac{1}{2} \begin{bmatrix} -1 & 1 \\ -1 & 3 \end{bmatrix}\right) = \begin{bmatrix} \frac{1}{10} & -\frac{1}{10} \\ \frac{1}{10} & -\frac{3}{10} \end{bmatrix}$	<p>۱۲</p>

$\Delta A = \begin{bmatrix} 15 & -5 \\ 5 & -5 \end{bmatrix} \rightarrow (\Delta A)^{-1} = \frac{1}{ \Delta A } (\Delta A)^* = -\frac{1}{5 \cdot 0} \begin{bmatrix} -5 & 5 \\ -5 & 15 \end{bmatrix} = \begin{bmatrix} \frac{1}{10} & -\frac{1}{10} \\ \frac{1}{10} & -\frac{3}{10} \end{bmatrix}$	
$ A  = 1(-1)^{1+1} \begin{vmatrix} 6 & 2 \\ -1 & 2 \end{vmatrix} + 2(-1)^{1+2} \begin{vmatrix} 2 & 2 \\ 1 & 2 \end{vmatrix} + 1(-1)^{1+3} \begin{vmatrix} 2 & 6 \\ 1 & -1 \end{vmatrix}$ $\rightarrow  A  = 14 - 4 - 8 = 2$ $ -\frac{1}{2}A^4  = (-\frac{1}{2})^3  A ^4 = (-\frac{1}{8})(-2)^4 = -2$	۱۳
<p>ابتدا دترمینان ماتریس <math>A</math> را تشکیل می دهیم و سپس در تساوی داده شده جایگزین می کنیم.</p> $A = \begin{bmatrix} 1 & 0 & 0 \\ 0 & 1 & 0 \\ 0 & 0 & 1 \end{bmatrix} \rightarrow  A  = 1$ $k  kA  = k(k^3  A ) = k^4  A  = k^4 \times 1 = k^4$ $k^4 = 625 \rightarrow k = \pm 5$	۱۴
<p>قرار می دهیم <math>BA = C</math> پس <math>B = \begin{bmatrix} 5 &amp; 2 \\ 7 &amp; 3 \end{bmatrix}</math> و <math>C = \begin{bmatrix} -1 &amp; 2 \\ 2 &amp; 1 \end{bmatrix}</math></p> <p>برای تعیین ماتریس <math>A</math> در ابتدا معکوس ماتریس <math>B</math> را محاسبه می کنیم.</p> $B^{-1} = \frac{1}{ B } B^* = \frac{1}{(5)(3) - (2)(7)} \begin{bmatrix} 3 & -2 \\ -7 & 5 \end{bmatrix} = \begin{bmatrix} 3 & -2 \\ -7 & 5 \end{bmatrix}$ $A = B^{-1}C = \begin{bmatrix} 3 & -2 \\ -7 & 5 \end{bmatrix} \times \begin{bmatrix} -1 & 2 \\ 2 & 1 \end{bmatrix} = \begin{bmatrix} -7 & 4 \\ 17 & -9 \end{bmatrix}$	۱۵
<p>قرار می دهیم <math>d =  A </math> پس</p> $A = \begin{bmatrix} d & 0 & 1 \\ 1 & d & 1 \\ 0 & 2 & 1 \end{bmatrix} \rightarrow  A  = \begin{vmatrix} d & 0 & 1 \\ 1 & d & 1 \\ 0 & 2 & 1 \end{vmatrix}$ $\rightarrow d = d(d-2) - 0(1-0) + 1(2-0)$ $\rightarrow d = d^2 - 2d + 2 \rightarrow d^2 - 3d + 2 = 0 \rightarrow d = 1, d = 2$	۱۶
$A = \begin{bmatrix} -\sin x & \cos x \\ \cos x & \sin x \end{bmatrix} \rightarrow  A  = (-\sin x)(\sin x) + (\cos x)(\cos x)$	۱۷ (الف) -۱

$\rightarrow  A  = -\sin^2 x - \cos^2 x = -(\sin^2 x + \cos^2 x) = -1$ <p>(ب) نادرست، هر ماتریس مربعی که دترمینان آن غیر صفر باشد، وارون پذیر است.</p>	
$A = \begin{bmatrix} 2 & 3 \\ 3 & 4 \end{bmatrix} \rightarrow  A  = (2)(4) - (3)(3) = -1$ $A^{-1} = \frac{1}{ A } A^* = \frac{1}{-1} \begin{bmatrix} 4 & -3 \\ -3 & 2 \end{bmatrix} = \begin{bmatrix} -4 & 3 \\ 3 & -2 \end{bmatrix}$	۱۸
<p>فرض کنیم که <math> A  = d</math> باشد. در این صورت:</p> $ 3A  = \begin{vmatrix}  A  & -5 \\ 1 & 4 A  \end{vmatrix} \rightarrow 3^2  A  = \begin{vmatrix}  A  & -5 \\ 1 & 4 A  \end{vmatrix} \rightarrow 9d = \begin{vmatrix} d & -5 \\ 1 & 4d \end{vmatrix}$ $\rightarrow 9d = (d)(4d) - (-5)(1)$ $\rightarrow 4d^2 - 9d + 5 = 0 \rightarrow \frac{1}{4}(2d - 4)(2d - 5) = 0 \rightarrow \begin{cases} d = 2 \rightarrow  A^{-1}  = 1 \\ d = \frac{5}{4} \rightarrow  A^{-1}  = \frac{4}{5} \end{cases}$	۱۹

### دستگاه معادلات خطی

$\begin{cases} 2x + y = 4 \\ 7x + 4y = 15 \end{cases} \rightarrow A = \begin{bmatrix} 2 & 1 \\ 7 & 4 \end{bmatrix} \rightarrow  A  = (2)(4) - (1)(7) = 8 - 7 = 1$ $A^{-1} = \frac{1}{ A } A^* = \frac{1}{1} \times \begin{bmatrix} 4 & -1 \\ -7 & 2 \end{bmatrix} = \begin{bmatrix} 4 & -1 \\ -7 & 2 \end{bmatrix}$ $X = A^{-1}D \rightarrow \begin{bmatrix} x \\ y \end{bmatrix} = \begin{bmatrix} 4 & -1 \\ -7 & 2 \end{bmatrix} \times \begin{bmatrix} 4 \\ 15 \end{bmatrix} \rightarrow \begin{bmatrix} x \\ y \end{bmatrix} = \begin{bmatrix} 1 \\ 2 \end{bmatrix} \rightarrow \begin{cases} x = 1 \\ y = 2 \end{cases}$	۱
$\begin{cases} 2x + y = 0 \\ x + 3y = 5 \end{cases} \rightarrow A = \begin{bmatrix} 2 & 1 \\ 1 & 3 \end{bmatrix} \rightarrow  A  = (2)(3) - (1)(1) = 6 - 1 = 5$ $A^{-1} = \frac{1}{ A } A^* = \frac{1}{5} \times \begin{bmatrix} 3 & -1 \\ -1 & 2 \end{bmatrix} = \begin{bmatrix} \frac{3}{5} & \frac{-1}{5} \\ \frac{-1}{5} & \frac{2}{5} \end{bmatrix}$ $X = A^{-1}D \rightarrow \begin{bmatrix} x \\ y \end{bmatrix} = \begin{bmatrix} \frac{3}{5} & \frac{-1}{5} \\ \frac{-1}{5} & \frac{2}{5} \end{bmatrix} \times \begin{bmatrix} 0 \\ 5 \end{bmatrix} \rightarrow \begin{bmatrix} x \\ y \end{bmatrix} = \begin{bmatrix} -1 \\ 2 \end{bmatrix} \rightarrow \begin{cases} x = -1 \\ y = 2 \end{cases}$	۲
	نادرست ۳
$\begin{cases} 2x + y = 0 \\ 3y + x = 5 \end{cases} \rightarrow A = \begin{bmatrix} 2 & 1 \\ 1 & 3 \end{bmatrix}, D = \begin{bmatrix} 0 \\ 5 \end{bmatrix}$	۴

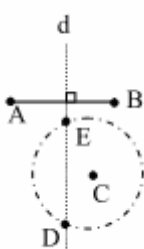
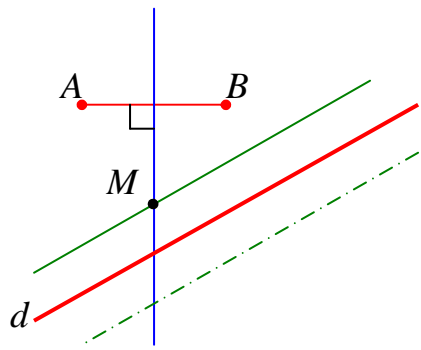
$A = \begin{bmatrix} 2 & 1 \\ 1 & 3 \end{bmatrix} \rightarrow  A  = (2)(3) - (1)(1) = 5$ $A^{-1} = \frac{1}{ A } A^* = \frac{1}{5} \begin{bmatrix} 3 & -1 \\ -1 & 2 \end{bmatrix}$ $\begin{bmatrix} x \\ y \end{bmatrix} = A^{-1} D = \frac{1}{5} \begin{bmatrix} 3 & -1 \\ -1 & 2 \end{bmatrix} \begin{bmatrix} 0 \\ 5 \end{bmatrix} = \frac{1}{5} \begin{bmatrix} -5 \\ 10 \end{bmatrix} = \begin{bmatrix} -1 \\ 2 \end{bmatrix} \rightarrow \begin{cases} x = -1 \\ y = 2 \end{cases}$	
<p>یک دستگاه دو معادله‌ی ، دو مجهولی وقتی دارای جواب نیست که دترمینان ضرایب آن صفر باشد.</p> $\begin{vmatrix} m & 9 \\ 4 & m \end{vmatrix} = 0 \rightarrow m^2 - 36 = 0 \rightarrow m = \pm 6$ <p>و چون هر دو جواب در نامساوی <math>\frac{m}{4} = \frac{9}{m} \neq \frac{m+1}{-4}</math> صدق می کنند، پس هر دو جواب، قابل قبولند.</p>	۵

# فصل دوم

## (( هندسه ۳ ))



### درس ۱: مقاطع مخروطی و مکان هندسی

۱		درست: بنا بر تعریف مقاطع مخروطی، سطح مخروطی حاصل یک هذلولی است.
۲		<p>مکان هندسی نقاطی که از <math>A</math> و <math>B</math> به یک فاصله اند، عمود منصف پاره خط <math>AB</math> است و مکان هندسی نقاطی که از نقطه‌ی <math>C</math> به فاصله‌ی ۳ واحد باشند، دایره‌ای به مرکز <math>C</math> و شعاع ۳ است. بنابراین نقطه‌ی برخورد خط عمود منصف (<math>d</math>) و دایره جواب مسأله است. (نقاط <math>E</math> و <math>D</math>)</p> <p>الف) اگر خط عمود منصف (<math>d</math>) و دایره یکدیگر را در دو نقطه قطع کنند، مسأله دو جواب دارد. (ب) اگر مماس شوند، مسأله یک جواب دارد. (پ) در صورتی که یکدیگر را قطع نکنند، مسأله جواب ندارد.</p>
۳		در حالتی که صفحه بر کره مماس باشد، فصل مشترک صفحه و کره، یک نقطه است. لذا این عبارت نادرست است.
۴		<p>ابتدا عمود منصف پاره خط <math>AB</math> را رسم می‌کنیم. سپس خطی موازی خط <math>d</math> و به فاصله‌ی یک سانتی از آن رسم می‌کنیم. محل تقاطع عمود منصف <math>AB</math> با این خط جواب مسأله است.</p> <p>چون دو خط در دو طرف خط <math>d</math> به فاصله‌ی یک سانتی متر از آن می‌توان رسم کرد، لذا مسأله جواب دیگری دارد.</p> <p>اگر <math>AB</math> عمود بر <math>d</math> باشد، چون در این حالت عمود منصف <math>AB</math>، خط <math>d</math> را قطع نمی‌کند، مسأله جواب ندارد و اگر عمود منصف <math>AB</math>، منطبق بر خط <math>d</math> باشد، مسأله دو جواب دارد.</p>
۵		بیضی
۶		درست
۷		<p>مکان هندسی نقاطی که از دو نقطه‌ی <math>A</math> و <math>B</math> به یک فاصله اند، عمود منصف پاره خط <math>AB</math> است. این خط را رسم می‌کنیم و آن را <math>L</math> می‌نامیم. مکان هندسی نقاطی که از خط <math>d</math> به فاصله‌ی ۳ سانتی متر هستند دو خط <math>d'</math> و <math>d''</math> می‌باشند که موازی <math>d</math> هستند. محل برخورد دو خط <math>d'</math> و <math>d''</math> با خط <math>L</math> جواب مسأله است.</p> <p>الف) اگر خط <math>L</math> دو خط <math>d'</math> و <math>d''</math> را قطع کند، مسأله دو جواب دارد.</p>

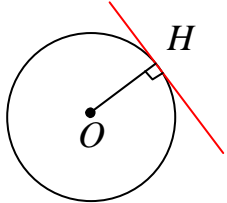
	<p>ب) اگر خط <math>L</math> بر دو خط <math>d'</math> و <math>d''</math> منطبق باشد، مسأله بی شمار جواب دارد.</p> <p>ج) اگر خط <math>L</math> هیچ یک از دو خط <math>d'</math> و <math>d''</math> را قطع نکند، مسأله جواب ندارد.</p>	
	درست	۸
	نادرست	۹
الف : نیمساز	ب : نادرست. این تعریف سهمی می باشد و نه بیضی	۱۰
	مقطع مخروطی حاصل با این شرایط یک بیضی است.	۱۱
<p>مکان هندسی نقاطی که از نقاط <math>A</math> و <math>B</math> به یک فاصله اند، عمودمنصف پاره خط <math>AB</math> است.</p> <p>مکان هندسی نقاطی که از نقاط <math>C</math> و <math>D</math> به یک فاصله اند، عمودمنصف پاره خط <math>CD</math> است.</p> <p>محل برخورد دو عمود منصف، جواب مسأله است.</p> <p>بستگی به حالت های دو پاره خط <math>AB</math> و <math>CD</math>، مسأله ممکن این یک جواب، بدون جواب، یا بی شمار جواب داشته باشد.</p>		۱۲

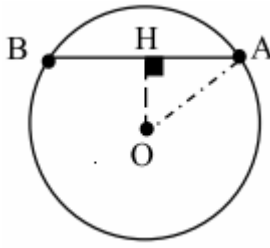
# فصل دوم

## (( هندسه ۳ ))



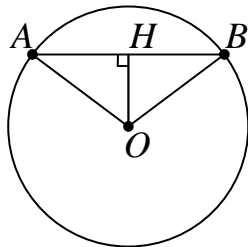
### درس ۲: دایره

۱	<p>اگر مختصات نقطه‌ی <math>A(1, -2)</math> را در عبارت <math>x^2 + y^2 - 2x + 2y</math> جایگزین کنیم، بدست می‌آید،</p> $(1)^2 + (-2)^2 - 2(1) + 2(-2) = 1 + 4 - 2 - 4 = -1$ <p>و چون حاصل منفی شد، نتیجه می‌شود که نقطه داخل دایره است.</p> <p>توجه داشته باشید که اگر ابتدا مختصات مرکز و اندازه‌ی شعاع دایره را به دست آورده و با فاصله‌ی این نقطه تا مرکز مقایسه کنیم، همین نتیجه بدست می‌آید.</p>
۲	<p>فاصله‌ی مرکز دایره تا خط داده شده برابر شعاع دایره است.</p> $R = OH = \frac{ a\alpha + b\beta + c }{\sqrt{a^2 + b^2}} = \frac{ 3(1) - 4(-1) + 3 }{\sqrt{(3)^2 + (-4)^2}} = \frac{10}{5} = 2$ <p>لذا معادله‌ی دایره را می‌توان به شکل زیر نیز نوشت:</p> $(x - \alpha)^2 + (y - \beta)^2 = R^2$ $\rightarrow (x - 1)^2 + (y + 1)^2 = 4$ 
۳	<p>کافی است که فاصله‌ی مرکز دایره تا خط داده شده (<math>d : 3x - 4y - 13 = 0</math>) را تعیین و با اندازه‌ی شعاع دایره مقایسه کنیم.</p> $x^2 + y^2 - 2x = 3 \rightarrow x^2 - 2x + 1 + y^2 = 2$ $\rightarrow (x - 1)^2 + (y - 0)^2 = 2$ <p>اندازه‌ی شعاع دایره <math>R = \sqrt{2}</math></p> <p>مختصات مرکز دایره <math>O(1, 0)</math></p> $OH = \frac{ a\alpha + b\beta + c }{\sqrt{a^2 + b^2}} = \frac{ 3(1) - 4(0) - 13 }{\sqrt{(3)^2 + (-4)^2}} = \frac{ -10 }{\sqrt{9 + 16}} = \frac{10}{5} = 2$ <p>فاصله مرکز دایره تا خط <math>d</math></p> <p>اکنون چون <math>OH &gt; R</math>، پس خط داده شده، دایره را قطع نمی‌کند.</p>
۴	<p style="text-align: right;">(الف)</p> $a^2 + b^2 > 4c \rightarrow 16 + 36 > 4k \rightarrow k < 13$

<p>ب) کافی است فاصله‌ی خط داده شده، تا مرکز دایره را تعیین و با اندازه‌ی شعاع دایره، مقایسه کنیم.</p> $x^2 + y^2 - 2x - 2y - 2 = 0 \rightarrow x^2 - 2x + 1 + y^2 - 2y + 1 = 4$ $\rightarrow (x-1)^2 + (y-1)^2 = 4 \rightarrow \begin{cases} O(1,1) \\ R=2 \end{cases}$ $d = \frac{ a\alpha + b\beta + c }{\sqrt{a^2 + b^2}} = \frac{ (1)(1) + (1)(1) + (-1) }{\sqrt{(1)^2 + (1)^2}} = \frac{\sqrt{2}}{2}$ <p><math>\Rightarrow d &lt; R</math> خط و دایره متقاطع هستند.</p>	
$a^2 + b^2 > 4c \rightarrow 36 + 64 > 4k \rightarrow k < 25$	۵
<p>اگر مختصات نقطه‌ی <math>A(2,3)</math> را در معادله‌ی دایره جایگزین کنیم، معلوم می‌شود که مختصات این نقطه در معادله‌ی داده شده صدق می‌کنند. این یعنی اینکه نقطه روی دایره واقع است. پس معادله‌ی خط مماس را می‌توان بدین شکل نوشت:</p> $x^2 + y^2 - 2x - 2y - 3 = 0 \rightarrow x^2 - 2x + 1 + y^2 - 2y + 1 = 5$ $\rightarrow (x-1)^2 + (y-1)^2 = 5 \rightarrow (x-1)(x-1) + (y-1)(y-1) = 5$ <p>معادله‌ی خط مماس</p> $(2-1)(x-1) + (3-1)(y-1) = 5 \rightarrow x-1 + 2y-2 = 5 \rightarrow x + 2y = 8$	۶
<p>کافی است طول خط‌المركزین را با مجموع یا تفاضل اندازه‌ی شعاع‌های دو دایره مقایسه کنیم.</p> $x^2 + y^2 = 4 \rightarrow \begin{cases} O_1(0,0) \\ R_1 = 2 \end{cases}$ $x^2 + y^2 - 2x = 4 \rightarrow \begin{cases} O_2(1,0) \\ R_2 = \sqrt{5} \end{cases}$ <p>طول خط‌المركزین <math>d = O_1O_2 = \sqrt{(0-1)^2 + (0-0)^2} = 1</math></p> $\left. \begin{aligned} R_2 + R_1 &= 2 + \sqrt{5} \\ R_2 - R_1 &= \sqrt{5} - 2 \end{aligned} \right\} \rightarrow R_2 - R_1 < d < R_2 + R_1$ <p>لذا دو دایره متقاطع هستند.</p>	۷
<p>۵، در واقع این دایره باید شعاعی به اندازه‌ی <math>R_1 + R_2</math> داشته باشد. حال چون <math>R_1 = 1</math> و <math>R_2 = \sqrt{16} = 4</math> پس</p> $R_1 + R_2 = 1 + 4 = 5$	۸
<p>۹ می‌دانیم که خط گذرا بر مرکز دایره و عمود بر یک وتر از دایره، آن وتر را نصف می‌کند.</p> <div style="text-align: center;">  </div>	۹



$AH = \frac{1}{2} AB = 3$ $OH = \frac{ a\alpha + b\beta + c }{\sqrt{a^2 + b^2}} = \frac{ 3(2) + (-4)(-1) + (10) }{\sqrt{(3)^2 + (-4)^2}} = \frac{20}{5} = 4$ $OA^2 = OH^2 + AH^2 \rightarrow R^2 = (4)^2 + (3)^2 = 25$ <p>معادله‌ی دایره‌ی مطلوب <math>(x - \alpha)^2 + (y - \beta)^2 = R^2 \rightarrow (x - 2)^2 + (y + 1)^2 = 25</math></p>	
$x^2 + y^2 + ax + by + c = 0$ $\rightarrow x^2 + ax + \left(\frac{a}{2}\right)^2 + y^2 + by + \left(\frac{b}{2}\right)^2 = -c + \left(\frac{a}{2}\right)^2 + \left(\frac{b}{2}\right)^2$ $\rightarrow \left(x + \frac{a}{2}\right)^2 + \left(y + \frac{b}{2}\right)^2 = \frac{-4c + a^2 + b^2}{4}$ $\rightarrow R^2 = \frac{-4c + a^2 + b^2}{4} \rightarrow R = \frac{\sqrt{a^2 + b^2 - 4c}}{2}$	۱۰
<p>می دانیم فاصله‌ی مرکز دایره تا خط مماس برابر اندازه‌ی شعاع دایره است. پس:</p> $x = -3 \rightarrow 1x + 0y + 3 = 0$ $R = OH = \frac{ a\alpha + b\beta + c }{\sqrt{a^2 + b^2}} = \frac{ 1(1) + 0(0) + 3 }{\sqrt{(1)^2 + (0)^2}} = \frac{4}{1} = 4$ <p>و در نهایت معادله‌ی دایره را می توان به شکل زیر نوشت:</p> $(x - \alpha)^2 + (y - \beta)^2 = R^2 \rightarrow (x - 1)^2 + (y - 0)^2 = 16$ <p>توجه: اگر مختصات مرکز دایره را در صفحه تعیین و سپس نمودار خط داده شده را رسم کنیم، به سادگی معلوم می شود که فاصله‌ی مرکز دایره تا خط داده شده برابر ۴ واحد می باشد.</p>	۱۱
<p>ابتدا مختصات مرکز و اندازه‌ی شعاع هر دو دایره را تعیین می کنیم.</p> $(x + 1)^2 + (y - 1)^2 = 2 \Rightarrow O(-1, 1), R = \sqrt{2}$ $x^2 + y^2 - 2x + 2y + c = 0 \rightarrow O'(1, -1), R' = \frac{1}{2} \sqrt{4 + 4 - 4c} = \sqrt{2 - c}$ <p>اکنون اندازه‌ی خط المرکزین را تعیین می کنیم.</p> $OO' = \sqrt{(1+1)^2 + (-1-1)^2} = \sqrt{4+4} = \sqrt{8}$ <p>چون دو دایره مماس بیرونی هستند، پس:</p> $OO' = R + R'$	۱۲

<p>و لذا:</p> $\sqrt{a} = \sqrt{b} + \sqrt{b-c} \rightarrow 2\sqrt{2} = \sqrt{2} + \sqrt{2-c}$ $\rightarrow \sqrt{2} = \sqrt{2-c} \rightarrow 2 = 2-c \rightarrow c = 0$	
<p> <math display="block">OH = \frac{ a\alpha + b\beta + c }{\sqrt{a^2 + b^2}} = \frac{ (3)(0) + (4)(1) + (6) }{\sqrt{(3)^2 + (4)^2}} = \frac{10}{5} = 2</math> </p>  <p> <math display="block">AB = 2\sqrt{5} \Rightarrow AH = \sqrt{5}</math> <math display="block">\Delta(AOH): OA^2 = AH^2 + OH^2</math> <math display="block">\rightarrow R^2 = (\sqrt{5})^2 + (2)^2 \rightarrow R = 3</math> </p> <p>و لذا معادله‌ی دایره‌ی مطلوب را می‌توان به صورت زیر نوشت:</p> $(x - \alpha)^2 + (y - \beta)^2 = R^2 \rightarrow (x - 0)^2 + (y - 1)^2 = 3^2$ $\rightarrow x^2 + (y - 1)^2 = 9$ <p>برای تعیین نقاط تقاطع دایره با محور عرض‌ها، مقدار <math>x</math> را برابر صفر قرار می‌دهیم.</p> $x^2 + (y - 1)^2 = 9 \xrightarrow{x=0} (y - 1)^2 = 9 \rightarrow y - 1 = \pm 3$ $\rightarrow \begin{cases} y = 4 \\ y = -2 \end{cases}$ <p>پس نقاط <math>(0, 4)</math> و <math>(0, -2)</math>، نقاط تقاطع دایره با محور عرض‌ها می‌باشند.</p>	<p>۱۳</p>
<p>برای تعیین وضعیت دو دایره، کافی است اندازه‌ی شعاع‌های دو دایره را در ابتدا تعیین کنیم و با طول خط‌المرکزین مقایسه نماییم.</p> $(x - 1)^2 + (y + 2)^2 = 1 \rightarrow O_1(1, -2), R_1 = 1$ $x^2 + y^2 + 6x + 2y - 6 = 0 \rightarrow \begin{cases} O_2(-\frac{a}{2}, -\frac{b}{2}) = (-3, -1) \\ R_2 = \frac{1}{2}\sqrt{a^2 + b^2 - 4c} = \frac{1}{2}\sqrt{36 + 4 + 24} = 4 \end{cases}$ $d = O_1O_2 = \sqrt{(-3-1)^2 + (-1+2)^2} = \sqrt{16+1} = \sqrt{17}$ <p>و چون <math>3 &lt; \sqrt{17} &lt; 5</math>، پس دو دایره متقاطع هستند.</p>	<p>۱۴</p>

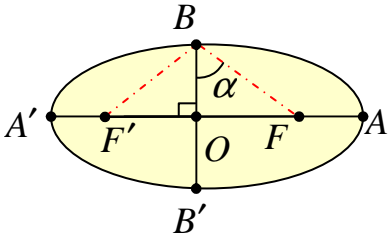
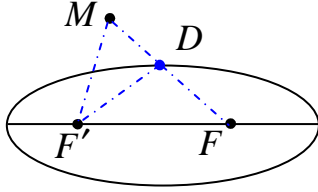
# فصل دوم

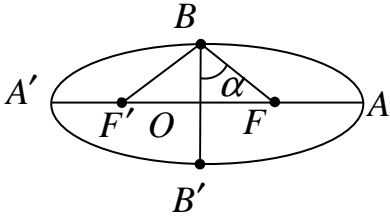
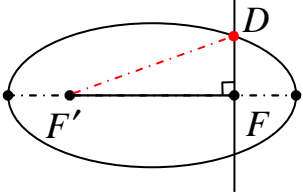
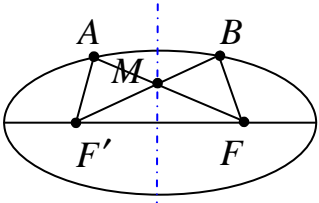
## (( هندسه ۳ ))



### درس ۲: بیضی

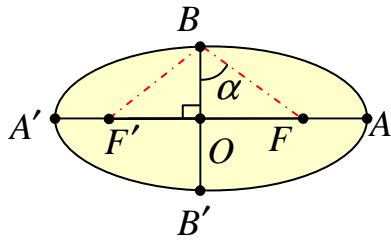
۱	بنابر مفهوم خروج از مرکز بیضی، در این حالت بیضی به دایره نزدیکتر می شود.
۲	<p style="text-align: right;">نادرست : زیرا</p> $\angle \alpha + \angle \beta + \angle (F'MF) = 180 \xrightarrow{\angle \alpha = \angle \beta} 2\alpha + 50 = 180$ $\rightarrow 2\alpha = 130 \rightarrow \alpha = 65^\circ$
۳	<p style="text-align: right;">می دانیم که <math>AA' = 2a</math> و <math>BB' = 2b</math> پس :</p> $2a = 10 \rightarrow a = 5$ $2b = 6 \rightarrow b = 3$ $a^2 = b^2 + c^2 \rightarrow 25 = 9 + c^2 \rightarrow c^2 = 16 \rightarrow c = 4$ $e = \frac{c}{a} = \frac{4}{5} \quad \text{خروج از مرکز بیضی}$ <div style="display: flex; justify-content: space-around; align-items: center;"> <div style="text-align: left;"> <p>مختصات رئوس واقع روی قطر بزرگ</p> <math display="block">\begin{cases} A(5, 0) \\ A'(-5, 0) \end{cases}</math> <p>مختصات کانون ها</p> <math display="block">\begin{cases} F(4, 0) \\ F'(-4, 0) \end{cases}</math> <p>مختصات رئوس واقع روی قطر کوچک</p> <math display="block">\begin{cases} B(0, 3) \\ B'(0, -3) \end{cases}</math> </div> <div style="text-align: center;"> </div> </div>
۴	در حالتی که خروج از مرکز بیضی برابر یک باشد، بیضی تبدیل به یک پاره خط می شود. توجه : داشته باشید که در حالتی که خروج از مرکز بیضی برابر صفر باشد، بیضی تبدیل به یک دایره می شود.
۵	$AA' = 2a = 20 \rightarrow a = 10$ $e = \frac{c}{a} = \frac{4}{5} \xrightarrow{a=10} \frac{c}{10} = \frac{4}{5} \rightarrow c = 8$ $a^2 = b^2 + c^2 \rightarrow 100 = b^2 + 64 \rightarrow b^2 = 36 \rightarrow b = 6$ <p>طول قطر کوچک <math>BB' = 2b = 2(6) = 12</math></p> <p>طول فاصله ی کانونی <math>FF' = 2c = 2(8) = 16</math></p>

<p>بنابر اطلاعات مسأله می توان نوشت :</p> $AA' = 2BB' \rightarrow 2a = 2(2b) \rightarrow a = 2b$  <p>از طرفی مثلث <math>FBF'</math> متساوی الساقین است، پس <math>BF' = BF</math></p> <p>و چون نقطه‌ی <math>B</math> روی بیضی قرار دارد، لذا</p> $BF + BF' = 2a \rightarrow 2BF = 2a \rightarrow BF = a$ <p>مثلث <math>FBO</math> مثلث قائم الزاویه است. پس :</p> $\cos \alpha = \frac{OB}{BF} \rightarrow \cos \alpha = \frac{b}{a} \rightarrow \cos \alpha = \frac{b}{2b} \rightarrow \cos \alpha = \frac{1}{2}$ <p>در نتیجه <math>\alpha = 60^\circ</math>. حال چون <math>BB'</math> میانه‌ی وارده بر قاعده‌ی مثلث متساوی الساقین <math>FBF'</math> است. پس نیمساز زاویه-ی رأس نیز می باشد. در نهایت می توان نوشت:</p> $\angle FBF' = 2\alpha = 2(60) = 120^\circ$	<p>۶</p>
 <p>از نقطه‌ی <math>M</math> به کانون های بیضی وصل می کنیم تا بیضی را در نقطه‌ی <math>D</math> قطع کند. نقطه‌ی <math>D</math> روی بیضی قرار دارد. بنابر تعریف بیضی: <math>DF + DF' = 2a</math></p> <p>بنابر نامساوی مثلثی در مثلث <math>MDF'</math> داریم:</p> $MD + MF' > DF' \xrightarrow{+DF} DF + MD + MF' > DF + DF'$ $\rightarrow MF + MF' > 2a$	<p>۷</p>
$e = \frac{3}{4} \rightarrow \frac{c}{a} = \frac{3}{4} \xrightarrow{2a=16 \rightarrow a=8} \frac{c}{8} = \frac{3}{4} \rightarrow c = 6$ $AF = a - c = 8 - 6 = 2$	<p>۸</p>
<p>در این حالت شکل بیضی به دایره نزدیکتر می شود.</p>	<p>۹</p>
$e = \frac{3}{5} \rightarrow \frac{c}{a} = \frac{3}{5} \rightarrow c = \frac{3}{5}a$ $b^2 + c^2 = a^2 \xrightarrow{2b=16 \rightarrow b=8} 64 + \left(\frac{3}{5}a\right)^2 = a^2 \rightarrow 64 + \frac{9}{25}a^2 = a^2$ $\rightarrow \frac{16}{25}a^2 = 64 \rightarrow a^2 = 64 \times \frac{25}{16} = 100 \rightarrow a = 10 \rightarrow AA' = 2a = 20$ $c = \frac{3}{5}a = \frac{3}{5}(10) = 6 \rightarrow FF' = 2c = 12$	<p>۱۰</p>

$AA' = 2BB' \rightarrow a = 2b$ $BF + BF' = 2a \xrightarrow{BF=BF'} 2BF = 2a \rightarrow BF = a$ $\cos \alpha = \frac{BO}{BF} = \frac{b}{a} = \frac{b}{2b} = \frac{1}{2} \rightarrow \alpha = 60^\circ$ $\rightarrow \angle FBF' = 2\alpha = 120^\circ$		<p>۱۱</p>
$MF = \sqrt{(4-1)^2 + (0-m)^2} = \sqrt{9+m^2}$ $MF' = \sqrt{(-2-1)^2 + (0-m)^2} = \sqrt{9+m^2}$ $PF + PF' = 2a \rightarrow \sqrt{9+m^2} + \sqrt{9+m^2} = 10 \rightarrow m = \pm 4$		<p>۱۲</p>
<p>نقطه‌ی <math>D</math> روی بیضی قرار دارد. پس بنا به تعریف بیضی <math>DF + DF' = 2a</math> است. از طرفی مثلث <math>DFF'</math> قائم الزاویه است. پس:</p>  $DF^2 + FF'^2 = DF'^2 \xrightarrow{DF'=2a-DF} DF^2 + (2c)^2 = (2a - DF)^2$ $\rightarrow DF^2 + 4c^2 = 4a^2 - 4a \cdot DF + DF^2$ $\rightarrow 4c^2 = 4a^2 - 4a \cdot DF \xrightarrow{\div 4} c^2 = a^2 - a \cdot DF \rightarrow a \cdot DF = a^2 - c^2$ $\xrightarrow{a^2 - c^2 = b^2} a \cdot DF = b^2 \rightarrow DF = \frac{b^2}{a}$		<p>۱۳</p>
 <p>چون دو نقطه‌ی <math>A</math> و <math>B</math> روی بیضی قرار دارند، پس:</p> $\left. \begin{array}{l} AF + AF' = 2a \\ BF + BF' = 2a \end{array} \right\} \rightarrow AF + AF' = BF + BF' \xrightarrow{AF'=BF} AF = BF'$ <p>و از اینجا نتیجه می‌شود که چون <math>(AF = BF'</math> و <math>AF' = BF</math> و <math>FF' = FF')</math>، لذا دو مثلث <math>AFF'</math> و <math>BFF'</math> به حالت برابر سه ضلع همنهشت هستند. در نتیجه <math>\angle AFF' = \angle BFF'</math>. این یعنی مثلث <math>MFF'</math> متساوی الساقین است و <math>MF = MF'</math>، پس نقطه‌ی <math>M</math> روی عمود منصف پاه خط <math>AFF'</math> (قطر کوچک بیضی) است.</p>		<p>۱۴</p>
<p>نقطه‌ی <math>M</math> روی بیضی قرار دارد. پس بنا به تعریف بیضی داریم:</p> $MF + MF' = 2a \rightarrow 8 + 6 = 2a \rightarrow a = 7$ $e = \frac{1}{7} \rightarrow \frac{c}{a} = \frac{1}{7} \xrightarrow{a=7} c = 1$ $a^2 = b^2 + c^2 \rightarrow 49 = 1 + b^2 \rightarrow b = 4\sqrt{3}$		<p>۱۵</p>

بنابر اطلاعات مسأله می توان نوشت :

$$AA' = 2BB' \rightarrow 2a = 2(2b) \rightarrow a = 2b$$



از طرفی مثلث  $FBF'$  متساوی الساقین است، پس  $BF' = BF$

و چون نقطه‌ی  $B$  روی بیضی قرار دارد، لذا

$$BF + BF' = 2a \rightarrow 2BF = 2a \rightarrow BF = a$$

مثلث  $FBO$  مثلث قائم الزاویه است. پس :

$$\cos \alpha = \frac{OB}{BF} \rightarrow \cos \alpha = \frac{b}{a} \rightarrow \cos \alpha = \frac{b}{2b} \rightarrow \cos \alpha = \frac{1}{2}$$

در نتیجه  $\alpha = 60^\circ$ . حال چون  $BB'$  میانه‌ی وارده بر قاعده‌ی مثلث متساوی الساقین  $FBF'$  است. پس نیمساز زاویه-ی رأس نیز می باشد. در نهایت می توان نوشت:

$$\angle FBF' = 2\alpha = 2(60) = 120^\circ$$

**توجه:** برای حل مسأله می توان از تانژانت زاویه‌ی  $FBO$  نیز استفاده کرد.

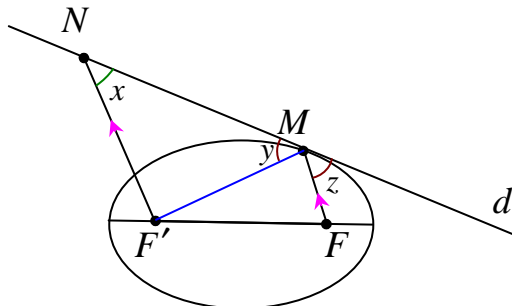
طبق ویژگی خط مماس بر بیضی داریم،  $\angle y = \angle z$  و

چون  $NF' \parallel MF$

پس  $\angle x = \angle z$ . لذا  $\angle x = \angle z$

یعنی مثلث  $NF'M$  دو زاویه‌ی مساوی دارد،

در نتیجه متساوی الساقین بوده و  $NF' = MF'$

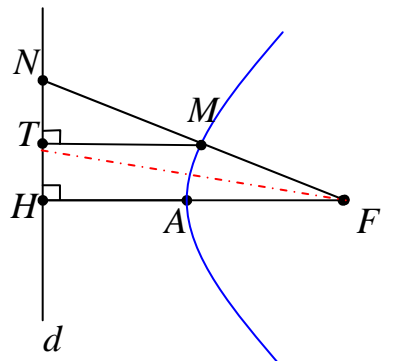


# فصل دوّم

## (( هندسه ۳ ))



### درس ۲: سهمی

۱	<p>ابتدا معادله ی سهمی را به شکل زیر می نویسیم.</p> $y^2 - 2y - 8x + 9 = 0 \rightarrow y^2 - 2y + 1 = 8x - 8 \rightarrow (y - 1)^2 = 8(x - 1)$ <p>لذا با مقایسه با معادله ی استاندارد <math>(y + \beta)^2 = 4p(x + \alpha)</math> معلوم می شود که سهمی افقی روبه راست است. پس می توان نوشت:</p> <p>پارامتر سهمی <math>4p = 8 \rightarrow p = 2</math></p> <p>فاصله ی کانونی <math>2p = 2(2) = 4</math></p> <p>مختصات رأس سهمی <math>S(1, 1)</math></p> <p>معادله ی خط هادی <math>x = -1</math></p> <p>مختصات کانون <math>F(3, 1)</math></p>
۲	<div style="display: flex; align-items: flex-start;">  <div style="padding-left: 20px;"> <p>بنابر تعریف سهمی <math>MT = MF</math> و لذا مثلث <math>MFT</math> متساوی الساقین است. از اینجا نتیجه می شود که:</p> <p><math>\angle MTF = \angle MFT</math></p> <p>از طرفی <math>FH \parallel MT</math> و خط مورب می باشد. پس بنا به قضیه ی خطوط موازی:</p> <p><math>\angle MTF = \angle TFH</math></p> <p>از این دو نتیجه معلوم می شود که <math>TF</math> نیمساز زاویه ی <math>NFH</math> می باشد. اکنون بنابر قضیه ی نیمساز در مثلث <math>FHN</math> داریم:</p> <math display="block">\frac{NF}{NT} = \frac{FH}{TH} \rightarrow \frac{NF}{FH} = \frac{NT}{TH} \xrightarrow{FH=2FA} \frac{NF}{2FA} = \frac{NT}{TH} \xrightarrow{\div 2} \frac{NF}{FA} = \frac{2NT}{TH}</math> </div> </div>
۳	<p><math>y^2 + 8x + 2y + 9 = 0 \rightarrow y^2 + 2y + 1 = -8x - 8 \rightarrow (y + 1)^2 = -8(x + 1)</math></p> <p>با مقایسه با معادله ی استاندارد <math>(y + \beta)^2 = -4p(x + \alpha)</math> معلوم است که سهمی افقی و رو به سمت چپ محور طول ها است. لذا:</p> <p>پارامتر سهمی <math>-4p = -8 \rightarrow p = 2</math></p> <p>مختصات رأس سهمی <math>S(-1, -1)</math></p>

<p>مختصات کانون سهمی <math>F(\alpha - p, \beta) \rightarrow F(-1 - 2, -1) \rightarrow F(-3, -1)</math>  معادله خط هادی <math>y = \alpha + p \rightarrow y = -1 + 2 \rightarrow y = 1</math></p>	
<p>الف) با توجه به جایگاه رأس و معادله‌ی خط هادی، به سادگی معلوم می‌شود که سهمی افقی و دهانه‌ی آن به سمت چپ می‌باشد. در این سهمی <math>p = 1</math> و معادله‌ی آن برابر است با:</p> $(y - 3)^2 = -4(x - 2)$ <p>ب) مختصات کانون سهمی  <math>F(-p + h, k) = (-1 + 2, 3) = (1, 3)</math>  پ) مختصات محل برخورد با محور طول‌ها برابر است با:</p> $y = 0 \rightarrow x = -\frac{1}{4} \Rightarrow (-\frac{1}{4}, 0)$	۴
<p>با مشاهده‌ی معادله‌ی سهمی معلوم می‌شود که سهمی قائم رو به بالا است.  پارامتر سهمی <math>4p = 8 \rightarrow p = 2</math>  رأس سهمی <math>S(\alpha, \beta) \rightarrow S(2, -1)</math>  مختصات کانون <math>F(\alpha, \beta + p) \rightarrow F(2, -1 + 2) \rightarrow F(2, 1)</math></p>	۵
<p>با توجه به جایگاه کانون و معادله‌ی خط هادی، سهمی افقی رو به سمت چپ می‌باشد. مختصات رأس سهمی <math>A(-1, 2)</math>، در این سهمی <math>p = AF = 2</math>. لذا معادله‌ی آن می‌شود: <math>(y - 2)^2 = -8(x + 1)</math></p>	۶
$\begin{cases} y^2 + 7x + 5 = 0 \rightarrow x^2 + (-7x - 5) = 25 \rightarrow x^2 - 7x - 30 = 0 \\ x^2 + y^2 = 25 \end{cases}$ $\rightarrow (x + 3)(x - 10) = 0$ $\rightarrow \begin{cases} x = -3 \rightarrow y^2 = 16 \rightarrow y = \pm 4 \Rightarrow A(-3, 4), B(-3, -4) \\ x = 10 \rightarrow y^2 = -75 \quad \text{غ م} \end{cases}$	۷
<p>با توجه به جایگاه کانون و معادله‌ی خط هادی، سهمی قائم رو به سمت پایین می‌باشد. مختصات رأس سهمی <math>A(1, 2)</math>، در این سهمی <math>p = AF = 4</math>. لذا معادله‌ی آن می‌شود:</p> $(x - \alpha)^2 = -4p(y - \beta) \rightarrow (x - 1)^2 = -16(y - 2)$ <p>و همچنین خط هادی سهمی <math>y = 6</math> است.</p>	۸
<p>می‌دانیم که اگر دهانه‌ی دیش <math>2b</math> و عمق دیش <math>h</math> باشد، داریم:</p> $p = \frac{b^2}{4h}$ <p>اکنون با توجه صورت مسأله می‌توان نوشت: <math>b' = b</math> و <math>h' = 2h</math> و لذا</p>	۹



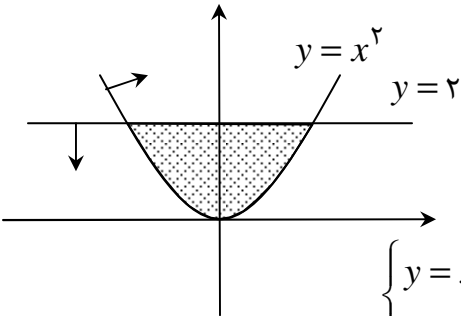
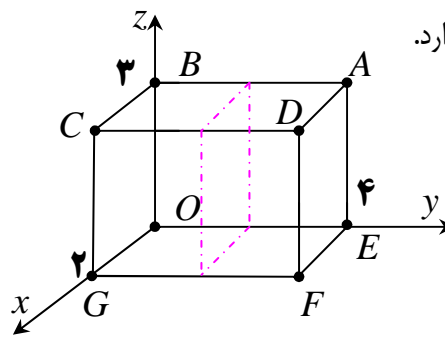
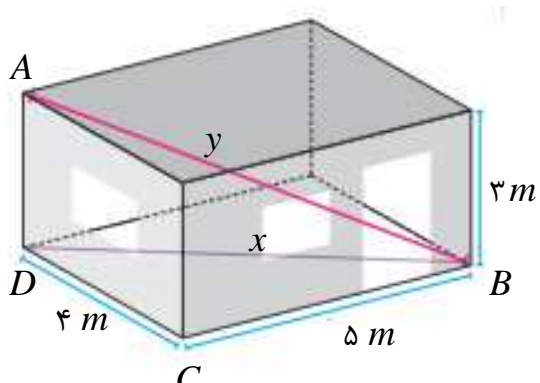
$\frac{p'}{p} = \frac{\frac{b'^2}{4h'}}{\frac{b^2}{4h}} = \frac{4(2h)}{b^2} = \frac{4h}{\lambda h} = \frac{1}{2}$ <p>فاصله‌ی کانونی این دیش، نصف می شود.</p>	
<p>با در نظر گرفتن موقعیت نقطه، نسبت به خط هادی و اینکه کانون سهمی، درون سهمی است، نتیجه می شود که، سهمی افقی رو به راست می باشد. پس :</p> $F(\alpha + p, \beta) = F(1, 2) \rightarrow \begin{cases} \alpha + p = 1 \\ \beta = 2 \end{cases}$ <p>خط هادی سهمی <math>\begin{cases} x = \alpha - p \\ x = -3 \end{cases} \rightarrow \alpha - p = -3</math></p> $\rightarrow \begin{cases} \alpha + p = 1 \\ \alpha - p = -3 \end{cases} \rightarrow \alpha = -1, \quad p = 2$ <p>و لذا معادله‌ی سهمی مورد نظر بدین شکل خواهد شد.</p> $(y - \beta)^2 = 4p(x - \alpha) \rightarrow (y - 2)^2 = \lambda(x + 1)$	<p>۱۰</p>
<p>طبق ویژگی بازتابندگی بیضی، این گزاره <b>درست</b> است.</p>	<p>۱۱</p>

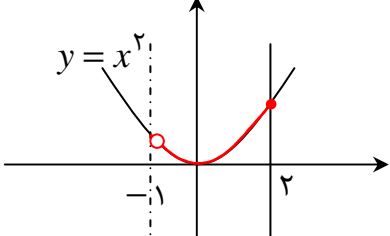
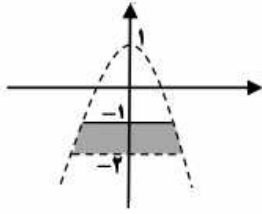
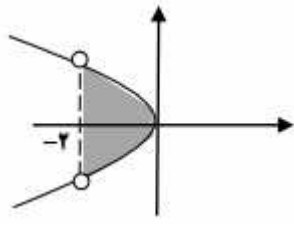
# فصل سوم

## (( هندسه ۳ ))



### درس ۱ : فضای سه بعدی و بردار

	<p>۱ نمودار معادلات <math>y = x^2</math> و <math>y = 2</math> را رسم می کنیم. سپس ناحیه‌ی مشترک نامعادلات <math>x^2 \leq y</math> و <math>y \leq 2</math> را تعیین می کنیم.</p> $\begin{cases} y = x^2 \\ y = 2 \end{cases} \rightarrow x^2 = 2 \rightarrow x = \pm\sqrt{2}$
	<p>۲ الف) وجه <math>CDGF</math> شرایط <math>(0 \leq z \leq 3)</math> و <math>(0 \leq y \leq 4)</math> و <math>(x = 2)</math> را دارد.</p> <p>ب) معادلات <math>\begin{cases} 0 \leq x \leq 2 \\ y = 4 \\ z = 3 \end{cases}</math> یال <math>AD</math> را مشخص می کنند.</p> <p>پ) مختصات نقطه‌ی <math>D</math> به صورت <math>D(2, 4, 3)</math> می باشد.</p> <p>ت) صفحه به معادله‌ی <math>y = 2</math> هم موازی با صفحه‌ی <math>xOz</math> باشد و هم مکعب مستطیل را نصف کند.</p>
<p>۳</p> $x^2 = (4)^2 + (5)^2 \rightarrow x^2 = 16 + 25$ $\rightarrow x^2 = 41 \rightarrow x = \sqrt{41}$ $y^2 = (\sqrt{41})^2 + (3)^2 \rightarrow y^2 = 41 + 9$ $\rightarrow y^2 = 50 \rightarrow y = 5\sqrt{2}$	
<p>۴ نمودار مربوط به معادله‌ی <math>x = 0</math> در <math>R^3</math>، تمام نقاط صفحه‌ی <math>yz</math> است.</p>	

<p><b>توجه:</b> نمودار مربوط به معادله‌ی <math>y = 0</math> در <math>R^3</math>، تمام نقاط صفحه‌ی <math>xz</math> است و همچنین نمودار مربوط به معادله- ی <math>z = 0</math> در <math>R^3</math>، تمام نقاط صفحه‌ی <math>xy</math> است.</p>	
<p>محور عرض‌ها</p>	۵
<p>درست</p>	۶
	۷
<p><math>\ \vec{a}\  = \sqrt{x^2 + y^2 + z^2} = \sqrt{(0)^2 + (-3)^2 + (4)^2} = \sqrt{0 + 9 + 16} = 5</math></p>	۸
<p>نادرست، نقطه روی محور <math>z</math> قرار دارد.</p>	۹
<p>الف) با توجه به مختصات نقطه‌ی <math>A(0, 0, 3)</math>، واضح است که صفحه‌ی مورد نظر <math>z = 0</math> می‌باشد. ب) ابتدا نمودار خطوط <math>y = -2</math> (به شکل نقطه چین) و <math>y = -1</math> (به صورت کامل) و منحنی <math>y = -x^2 + 1</math> (به شکل نقطه چین) را در فضای دو بعدی رسم می‌کنیم.</p> 	۱۰
<p>ابتدا نمودارهای معادلات <math>x = -2</math> و <math>y^2 + x = 0</math> را رسم می‌کنیم. (خط چین را مورد توجه قرار می‌دهیم). سپس ناحیه‌ی مورد نظر را با توجه به نامساوی‌ها تعیین می‌کنیم. در این صورت نمودار زیر به دست می‌آید.</p> 	۱۱
<p>محور <math>z</math> ها، این معادلات نشان دهنده‌ی صفحه‌ی موازی محور <math>z</math> ها می‌باشد.</p>	۱۲
<p>چون نقطه‌ی <math>A</math> روی محور ارتفاع‌ها قرار دارد، لذا مختصات آن به صورت <math>A(0, 0, 1)</math> می‌باشد. اکنون مختصات نقطه‌ی وسط پاره خط <math>AB</math> را به شکل زیر می‌توان به دست آورد.</p> $x_M = \frac{x_A + x_B}{2} = \frac{0 + 1}{2} = \frac{1}{2}$ $y_M = \frac{y_A + y_B}{2} = \frac{0 + 0}{2} = 0$	۱۳

$z_M = \frac{z_A + z_B}{2} = \frac{3 + 1}{2} = 2$ <p>لذا فاصله‌ی نقطه‌ی <math>M(\frac{1}{2}, 0, 2)</math> تا مبدأ مختصات به صورت زیر است.</p> $OM = \sqrt{(\frac{1}{2})^2 + (0)^2 + (2)^2} = \sqrt{\frac{1}{4} + 4} = \sqrt{\frac{17}{4}} = \frac{\sqrt{17}}{2}$	
<p>درست ، به توجه به علامت مولفه های این نقطه، به سادگی معلوم می شود که این نقطه، در ناحیه‌ی ششم واقع است.</p>	۱۴

# فصل سوم

## (( هندسه ۳ ))



### درس ۲: ضرب داخلی دو بردار و کاربرد

$\vec{a} = 2\vec{i} + 3\vec{j} - \vec{k} = (2, 3, -1)$ $\vec{b} = \vec{i} + \vec{k} = (1, 0, 1)$ $\vec{a} \cdot \vec{b} = (2)(1) + (3)(0) + (-1)(1) = 2 + 0 - 1 = 1$ $\ \vec{a}\  = \sqrt{4 + 9 + 1} = \sqrt{14}$ $\ \vec{b}\  = \sqrt{1 + 0 + 1} = \sqrt{2}$ $\cos \theta = \frac{\vec{a} \cdot \vec{b}}{\ \vec{a}\  \times \ \vec{b}\ } = \frac{1}{\sqrt{14} \times \sqrt{2}} = \frac{1}{2\sqrt{7}}$	الف ۱
$\vec{c} = (0, 2, 1)$ $\vec{d} = \vec{b} - \vec{c} = (1, 0, 1) - (0, 2, 1) = (1, -2, 0)$ $\vec{a} \cdot \vec{d} = (2)(1) + (3)(-2) + (-1)(0) = 2 - 6 + 0 = -4$ $\ \vec{d}\  = \sqrt{1 + 4 + 0} = \sqrt{5}$ $\vec{a}' = \frac{\vec{a} \cdot \vec{d}}{\ \vec{d}\ ^2} \vec{d} = \frac{-4}{5} (1, -2, 0)$	ب ۱
<p style="text-align: center;">اگر دو بردار <math>\vec{a}</math> و <math>\vec{b}</math> بر هم عمود باشند، پس زاویه‌ی بین آنها برابر <math>\frac{\pi}{2}</math> است. لذا:</p> $\vec{a} \cdot \vec{b} = \ \vec{a}\  \times \ \vec{b}\  \cos\left(\frac{\pi}{2}\right) = 0$ <p style="text-align: center;">حال اگر <math>\vec{a} \cdot \vec{b} = 0</math> پس <math>\ \vec{a}\  \times \ \vec{b}\  \cos \theta = 0</math> و چون <math>\ \vec{a}\  \neq 0</math> و <math>\ \vec{b}\  \neq 0</math> لذا <math>\cos \theta = 0</math> یعنی <math>\theta = \frac{\pi}{2}</math></p> <p style="text-align: right;">یعنی دو بردار <math>\vec{a}</math> بر <math>\vec{b}</math> بر هم عمودند.</p>	۲
$\vec{a} = 4\vec{k} - 2\vec{j} - \vec{i} = (-1, -2, 4)$	الف ۳

$\vec{b} = \vec{i} + 2\vec{j} = (1, 2, 0)$ $3\vec{a} - \vec{b} = 3(-1, -2, 4) - (1, 2, 0) = (-3, -6, 12) + (-1, -2, 0) = (-4, -8, 12)$ $r(3\vec{a} - \vec{b}) = \frac{1}{4}(-4, -8, 12) = (-1, -2, 3)$ <p>(ب) اگر <math>\vec{a}'</math> تصویر قائم بردار <math>\vec{a}</math> روی امتداد بردار <math>\vec{b}</math> باشد، در این صورت، می توان نوشت:</p> $\vec{a} \cdot \vec{b} = (-1)(1) + (-2)(2) + (4)(0) = -5$ $\ \vec{b}\  = \sqrt{(1)^2 + (2)^2 + (0)^2} = \sqrt{1+4+0} = \sqrt{5}$ $\vec{a}' = \frac{\vec{a} \cdot \vec{b}}{\ \vec{b}\ ^2} \vec{b} = \frac{-5}{(\sqrt{5})^2} (1, 2, 0) = -(1, 2, 0) = (-1, -2, 0)$	
<p>فرض کنید که <math>\theta</math> زاویه بین دو بردار <math>\vec{a}</math> و <math>\vec{b}</math> باشد. در این صورت:</p> $\vec{a} \cdot \vec{b} = (2)(1) + (2)(0) + (-1)(-1) = 2 + 0 + 1 = 3$ $\ \vec{a}\  = \sqrt{4+4+1} = \sqrt{9} = 3$ $\ \vec{b}\  = \sqrt{1+0+1} = \sqrt{2}$ $\cos \theta = \frac{\vec{a} \cdot \vec{b}}{\ \vec{a}\  \times \ \vec{b}\ } = \frac{3}{3 \times \sqrt{2}} = \frac{1}{\sqrt{2}} \rightarrow \theta = \frac{\pi}{4}$	۴
$\vec{a} \perp \vec{b} \rightarrow \vec{a} \cdot \vec{b} = 0 \rightarrow (2)(m+1) + (m)(3) + (-1)(2) = 0$ $\rightarrow 2m + 2 + 3m - 2 = 0 \rightarrow m = 0$	۵
<p>درست ( نامساوی کشی شوارتز)</p>	۶
$\ \vec{a} + \vec{b} + \vec{c}\ ^2 = (\vec{a} + \vec{b} + \vec{c}) \cdot (\vec{a} + \vec{b} + \vec{c})$ $= \vec{a} \cdot \vec{a} + \vec{a} \cdot \vec{b} + \vec{a} \cdot \vec{c} + \vec{b} \cdot \vec{a} + \vec{b} \cdot \vec{b} + \vec{b} \cdot \vec{c} + \vec{c} \cdot \vec{a} + \vec{c} \cdot \vec{b} + \vec{c} \cdot \vec{c}$ $= \ \vec{a}\ ^2 + 0 + 0 + 0 + 0 + \ \vec{b}\ ^2 + 0 + 0 + 0 + 0 + \ \vec{c}\ ^2 = (2)^2 + (3)^2 + (4)^2$ $= 4 + 9 + 16 = 29$	۷
$\vec{a} \cdot \vec{b} = (2)(-2) + (-6)(1) + (4)(-5) = -4 - 6 - 20 = -30$ $\ \vec{b}\  = \sqrt{(-2)^2 + (1)^2 + (-5)^2} = \sqrt{4+1+25} = \sqrt{30}$ $\vec{a}' = \frac{\vec{a} \cdot \vec{b}}{\ \vec{b}\ ^2} \vec{b} = \frac{-30}{30} (-2, 1, -5) = (2, -1, 5)$	۸
<p>می دانیم که برای هر دو بردار <math>\vec{a}</math> و <math>\vec{b}</math> داریم.</p> $\vec{a} \cdot \vec{b} = \ \vec{a}\  \times \ \vec{b}\  \cos \theta$ <p>حال با توجه به اینکه <math>\vec{a} \cdot \vec{b} = \ \vec{a}\  \times \ \vec{b}\ </math> نتیجه گرفته می شود که <math>\cos \theta = 1</math> یعنی <math>\angle \theta = 0^\circ</math></p>	۹
$\cos \theta = \frac{\vec{a} \cdot \vec{b}}{\ \vec{a}\  \times \ \vec{b}\ } \rightarrow \frac{\sqrt{2}}{2} = \frac{2-n}{\sqrt{2} \times \sqrt{4+1+n^2}} \rightarrow \frac{n-2}{\sqrt{n^2+5}} = 1$	۱۰

$\rightarrow n^2 + 5 = n^2 - 4n + 4 \rightarrow 5 = -4n + 4 \rightarrow n = -\frac{1}{4}$	
$\vec{a} = r\vec{b} \rightarrow \vec{a}' = \frac{\vec{a} \cdot \vec{b}}{\ \vec{b}\ ^2} \vec{b} = \frac{(r\vec{b}) \cdot \vec{b}}{\ \vec{b}\ ^2} \vec{b} = \frac{r(\vec{b} \cdot \vec{b})}{\ \vec{b}\ ^2} \vec{b} = \frac{r\ \vec{b}\ ^2}{\ \vec{b}\ ^2} \vec{b} = r\vec{b} = \vec{a}$	۱۱
<p>گزینه‌ی ۱، زیرا بنابر اینکه <math>\vec{a} \cdot \vec{b} = \ \vec{a}\  \times \ \vec{b}\  \cos \theta</math> این تساوی وقتی بیشترین مقدار را دارد که <math>\cos \theta = 1</math> یعنی <math>\theta = 0</math> باشد.</p>	۱۲
<p><b>روش اول:</b> بردار <math>\vec{a}'</math> با بردار <math>\vec{b}</math> موازی است. <math>\vec{a}' \parallel \vec{b} \rightarrow \vec{a}' = k\vec{b}</math></p> $(\vec{a} - \vec{a}') \perp \vec{b} \rightarrow (\vec{a} - \vec{a}') \cdot \vec{b} = 0 \rightarrow \vec{a} \cdot \vec{b} - (k\vec{b}) \cdot \vec{b} = 0$ $\rightarrow \vec{a} \cdot \vec{b} - k(\vec{b} \cdot \vec{b}) = 0 \rightarrow \vec{a} \cdot \vec{b} - k\ \vec{b}\ ^2 = 0 \rightarrow k = \frac{\vec{a} \cdot \vec{b}}{\ \vec{b}\ ^2}$ $\rightarrow \vec{a}' = k\vec{b} = \frac{\vec{a} \cdot \vec{b}}{\ \vec{b}\ ^2} \vec{b}$ <p><b>روش دوم:</b> در مثلث قائم الزاویه، زاویه‌ی بین دو بردار <math>\vec{a}</math> و <math>\vec{b}</math> را <math>\theta</math> می‌نامیم.</p> $\cos \theta = \frac{\ \vec{a}'\ }{\ \vec{a}\ } \rightarrow \ \vec{a}'\  = \ \vec{a}\  \cos \theta$ $\vec{a}' = k\vec{b} \rightarrow \ \vec{a}'\  = \ k\vec{b}\  \rightarrow \ \vec{a}'\  = k\ \vec{b}\ $ $k = \frac{\ \vec{a}'\ }{\ \vec{b}\ } = \frac{\ \vec{a}\  \cos \theta}{\ \vec{b}\ } = \frac{\ \vec{a}\  \times \ \vec{b}\  \cos \theta}{\ \vec{b}\  \times \ \vec{b}\ } = \frac{\vec{a} \cdot \vec{b}}{\ \vec{b}\ ^2}$ $\rightarrow \vec{a}' = k\vec{b} = \frac{\vec{a} \cdot \vec{b}}{\ \vec{b}\ ^2} \vec{b}$	۱۳
<p>فرض کنید که <math>\theta</math> زاویه بین دو بردار <math>\vec{a}</math> و <math>\vec{b}</math> باشد. در این صورت:</p> $\vec{a} \cdot \vec{b} = (2)(1) + (-1)(-1) + (2)(0) = 2 + 1 + 0 = 3$ $\ \vec{a}\  = \sqrt{4 + 1 + 4} = \sqrt{9} = 3$ $\ \vec{b}\  = \sqrt{1 + 1 + 0} = \sqrt{2}$ $\cos \theta = \frac{\vec{a} \cdot \vec{b}}{\ \vec{a}\  \times \ \vec{b}\ } = \frac{3}{3 \times \sqrt{2}} = \frac{1}{\sqrt{2}} \rightarrow \theta = \frac{\pi}{4}$	۱۴
$\vec{a} \cdot \vec{b} = a_1 b_1 + a_2 b_2 + a_3 b_3 = (m)(2) + (0)(-2) + (2)(0) = 2m$ $\cos \theta = \frac{\vec{a} \cdot \vec{b}}{\ \vec{a}\  \times \ \vec{b}\ } \rightarrow \frac{1}{2} = \frac{2m}{(\sqrt{m^2 + 4})(2\sqrt{2})} \rightarrow \frac{\sqrt{2}}{2} = \frac{m}{\sqrt{m^2 + 4}}$ $\rightarrow \sqrt{2} \times \sqrt{m^2 + 4} = 2m \rightarrow 2(m^2 + 4) = 4m^2 \rightarrow 2m^2 = 8$ $\rightarrow m^2 = 4 \rightarrow m = 2, m = -2$ <p>جواب <math>m = -2</math> قابل قبول نیست.</p>	۱۵

$\vec{u} = \vec{a} + \vec{b} = (1, 1, 1)$ $\vec{v} = 2\vec{c} - \vec{b} = (3, -4, 0) \rightarrow \ \vec{v}\  = \sqrt{9 + 16 + 0} = 5$ $\vec{u} \cdot \vec{v} = (1)(3) + (1)(-4) + (1)(0) = 3 - 4 + 0 = -1$ $\vec{u}' = \frac{\vec{u} \cdot \vec{v}}{\ \vec{v}\ ^2} \vec{v} = \frac{-1}{25} \times (3, -4, 0) = \left(-\frac{3}{25}, \frac{4}{25}, 0\right)$	<p>۱۶</p>
---	-----------



# فصل سوم

## (( هندسه ۳ ))



### درس ۳: ضرب خارجی دو بردار و کاربرد

۱	<p>نادرست: برای دو بردار واحد <math>\vec{i} = (1, 0, 0)</math> و <math>\vec{j} = (0, 1, 0)</math></p> $\vec{i} \times \vec{j} = \begin{vmatrix} \vec{i} & \vec{j} & \vec{k} \\ 1 & 0 & 0 \\ 0 & 1 & 0 \end{vmatrix} = (0, 0, 1) = \vec{k}$
۲	<p>زاویه‌ی بین دو بردار <math>\vec{a}</math> و <math>\vec{b}</math> همان زاویه‌ی بین دو بردار <math>2\vec{a}</math> و <math>2\vec{b}</math> مفروض می‌باشد. پس:</p> $\ 2\vec{a} \times 2\vec{b}\  = \ 2\vec{a}\  \times \ 2\vec{b}\  \cos(30^\circ) = 2(6)(4)\left(\frac{1}{2}\right) = 24$
۳	<p>چون هر سه بردار <math>\vec{a}</math> و <math>\vec{b}</math> و <math>\vec{c}</math> در یک صفحه واقعند، پس حجم متوازی السطوح بنا شده توسط این سه بردار برابر صفر است. زیرا کلاً با سه بردار واقع بر یک صفحه، متوازی السطوحی ایجاد نمی‌شود.</p>
۴	<p>با معلوم بودن مختصات سه رأس مثلث <math>ABC</math>، مساحت مثلث را می‌توان با استفاده از ضرب خارجی به شکل زیر به دست آورد.</p> <div style="display: flex; align-items: center;"> <div style="flex: 1;"> <math display="block">\vec{a} = \vec{CA} = \vec{OA} - \vec{OC} = (2, -1, 3) - (-1, 1, 0) = (3, -2, 3)</math> <math display="block">\vec{b} = \vec{CB} = \vec{OB} - \vec{OC} = (3, 1, 4) - (-1, 1, 0) = (4, 0, 4)</math> <math display="block">\vec{a} \times \vec{b} = \begin{vmatrix} -2 &amp; 3 &amp; 3 &amp; -2 \\ 0 &amp; 4 &amp; 4 &amp; 0 \end{vmatrix} = (-8, 0, 8)</math> </div> <div style="flex: 1; text-align: center;"> <p>پس مساحت مثلث مورد نظر به صورت زیر است.</p> <math display="block">S = \frac{1}{2} \ \vec{a} \times \vec{b}\  = \frac{1}{2} \sqrt{(8)^2 + (0)^2 + (8)^2} = \frac{1}{2} \sqrt{64 + 0 + 64} = \frac{1}{2} \times 8\sqrt{2} = 4\sqrt{2}</math> </div> </div>
۵	<p>درست، برابر هر بردار مانند <math>\vec{a}</math> ثابت می‌شود که <math>\vec{a} \times \vec{a} = \vec{0}</math></p>
۶	<p>اگر <math>A(-1, 2, 0)</math> و <math>B(1, 0, -1)</math> و <math>C(0, -1, 1)</math> سه رأس مثلث <math>ABC</math> باشند، مساحت <math>ABC</math> را با استفاده از ضرب خارجی به شکل زیر به دست می‌آید.</p> <div style="display: flex; align-items: center;"> <div style="flex: 1;"> <math display="block">\vec{a} = \vec{CA} = \vec{OA} - \vec{OC} = (-1, 2, 0) - (0, -1, 1) = (-1, 3, -1)</math> <math display="block">\vec{b} = \vec{CB} = \vec{OB} - \vec{OC} = (1, 0, -1) - (0, -1, 1) = (1, 1, -2)</math> <math display="block">\vec{a} \times \vec{b} = \begin{vmatrix} 3 &amp; -1 &amp; -1 &amp; -1 \\ 1 &amp; -2 &amp; -2 &amp; 1 \end{vmatrix} = (-5, -3, -4)</math> </div> <div style="flex: 1; text-align: center;"> </div> </div>

<p>پس مساحت مثلث مورد نظر به صورت زیر است.</p> $S = \frac{1}{2} \ \vec{a} \times \vec{b}\  = \frac{1}{2} \sqrt{(-5)^2 + (-3)^2 + (-4)^2} = \frac{1}{2} \sqrt{25 + 9 + 16} = \frac{1}{2} \times \sqrt{50} = \frac{5}{2} \sqrt{2}$	
$\vec{a} \cdot \vec{b} = \ \vec{a}\  \times \ \vec{b}\  \times \cos \theta \rightarrow 10 = 3 \times 5 \times \cos \theta \rightarrow \cos \theta = \frac{2}{3}$ $\frac{\sin^2 \theta = 1 - \cos^2 \theta}{\sin^2 \theta = 1 - \left(\frac{2}{3}\right)^2} \rightarrow \sin^2 \theta = 1 - \frac{4}{9} \rightarrow \sin \theta = \frac{\sqrt{5}}{3}$ $\ \vec{a} \times \vec{b}\  = \ \vec{a}\  \times \ \vec{b}\  \sin \theta = 3 \times 5 \times \frac{\sqrt{5}}{3} = 5\sqrt{5}$ $S_{\Delta} = \frac{1}{2} \ \vec{a} \times \vec{b}\  = \frac{1}{2} \times 5\sqrt{5} = \frac{5}{2} \sqrt{5}$	۷
$\vec{b} \times \vec{c} = \begin{vmatrix} \hat{i} & \hat{j} & \hat{k} \\ 2 & 2 & 2 \\ -3 & 0 & 2 \end{vmatrix} = (6, 4, -4)$ $\vec{a} \cdot (\vec{b} \times \vec{c}) = (1)(6) + (0)(4) + (-1)(-4) = 6 + 0 + 4 = 10$ $v =  \vec{a} \cdot (\vec{b} \times \vec{c})  = 10$	۸
$\vec{a} = -\vec{k} - \vec{j} = (0, -1, -1)$ $\ \vec{a}\  = \sqrt{(0)^2 + (-1)^2 + (-1)^2} = \sqrt{0 + 1 + 1} = \sqrt{2}$ $\ \vec{b}\  = \sqrt{(2)^2 + (-1)^2 + (-2)^2} = \sqrt{4 + 1 + 4} = 3$ $\vec{a} \cdot \vec{b} = (0)(2) + (-1)(-1) + (-1)(-2) = 0 + 1 + 2 = 3$ $\cos \alpha = \frac{\vec{a} \cdot \vec{b}}{\ \vec{a}\  \times \ \vec{b}\ } = \frac{3}{\sqrt{2} \times 3} = \frac{\sqrt{2}}{2} \rightarrow \alpha = 45^\circ$ <p>(ب) کافی است، بردار <math>\vec{a} \times \vec{b}</math> را تعیین کنید.</p> $\vec{a} \times \vec{b} = \begin{vmatrix} \hat{i} & \hat{j} & \hat{k} \\ -1 & -1 & 0 \\ -1 & -2 & 2 \end{vmatrix} = (1, -2, 2)$	۹
$\vec{b} \times \vec{c} = \begin{vmatrix} \hat{i} & \hat{j} & \hat{k} \\ -1 & 2 & 2 \\ 1 & 2 & 3 \end{vmatrix} = (-4, 2, 5)$ $\vec{a} \cdot (\vec{b} \times \vec{c}) = (1)(-4) + (1)(2) + (0)(5) = -4 + 2 + 0 = -2$ <p>چون حاصل <math>\vec{a} \cdot (\vec{b} \times \vec{c})</math> برابر صفر نیست، پس سه بردار داده شده روی یک صفحه نیستند.</p>	۱۰
<p>الف :</p> $\vec{b} = \vec{i} + \vec{k} \rightarrow \vec{b} = (1, 0, 1) \rightarrow 2\vec{b} = (2, 0, 2)$ $2\vec{b} - \vec{c} = (2, 0, 2) - (0, 2, 1) = (2, 0, 2) + (0, -2, -1) = (2, -2, 1)$ $\ 2\vec{b} - \vec{c}\  = \sqrt{(2)^2 + (-2)^2 + (1)^2} = \sqrt{4 + 4 + 1} = 3$ <p>ب :</p>	۱۱

$\vec{a} = 2\vec{i} + 3\vec{j} - \vec{k} = (2, 3, -1)$ $\vec{b} + \vec{c} = (1, 0, 1) + (0, 2, 1) = (1, 2, 2)$ $\vec{a} \times (\vec{b} + \vec{c}) = \begin{vmatrix} 2 & 3 & -1 \\ 1 & 2 & 2 \\ 1 & 2 & 2 \end{vmatrix} = (8, -5, 1)$ <p>اکنون مساحت مثلث مورد نظر را به شکل زیر به دست می آوریم.</p> $S = \ \vec{a} \times (\vec{b} + \vec{c})\  = \sqrt{(8)^2 + (-5)^2 + (1)^2} = \sqrt{64 + 25 + 1} = \sqrt{90} = 3\sqrt{10}$	
$\vec{a} = \vec{i} + \vec{j} = (1, 1, 0) \text{ و } \vec{b} = (0, 1, 1) \text{ و } \vec{c} = \vec{i} + \vec{k} = (1, 0, 1)$ $\vec{b} \times \vec{c} = \begin{vmatrix} 0 & 1 & 1 \\ 1 & 0 & 1 \\ 1 & 0 & 1 \end{vmatrix} = (1, 1, -1)$ $\vec{a} \cdot (\vec{b} \times \vec{c}) = (1)(1) + (1)(1) + (0)(-1) = 2$ $\vec{b} \times \vec{c} = \begin{vmatrix} 0 & 1 & 1 \\ 1 & 0 & 1 \\ 1 & 0 & 1 \end{vmatrix} = (1, 1, -1) \rightarrow \ \vec{b} \times \vec{c}\  = \sqrt{1+1+1} = \sqrt{3}$ $h = \frac{ \vec{a} \cdot (\vec{b} \times \vec{c}) }{\ \vec{b} \times \vec{c}\ } = \frac{2}{\sqrt{3}} \quad \text{اندازه‌ی ارتفاع متوازی السطوح}$	۱۲
<p>وقتی گفته می شود که <math>\vec{a} \times \vec{b} = \vec{0}</math>، نتیجه می شود که دو بردار <math>\vec{a}</math> و <math>\vec{b}</math> موازیند. لذا وجود دارد یک عدد حقیقی و غیر صفر مانند <math>k</math> که <math>\vec{b} = k\vec{a}</math> یعنی:</p> $\vec{b} = k(4, -4, 2) = (4k, -4k, 2k)$ <p>پس:</p> $\ \vec{b}\  = \sqrt{(4k)^2 + (-4k)^2 + (2k)^2} = \sqrt{16k^2 + 16k^2 + 4k^2} = \sqrt{36k^2} = 6 k $ <p>از طرفی چون <math>\ \vec{b}\  = 12</math>، پس نتیجه می شود:</p> $6 k  = 12 \rightarrow  k  = 2 \rightarrow k = \pm 2$ <p>و بنابر صورت مساله باید حالت <math>k = -2</math> قابل قبول باشد. در نهایت بردار <math>\vec{b}</math> بدین شکل خواهد بود:</p> $\vec{b} = (-8, 8, -4)$	۱۳
<p>الف: درست. در واقع <math>\vec{i} \times \vec{j}</math> بر <math>\vec{i}</math> عمود است.</p> <p>ب: گزینه‌ی ۳، چون حاصل ضرب خارجی دو بردار بر هر دو بردار عمود است، لذا فقط بردار مورد ۳ عمود بر <math>\vec{a}</math> و <math>\vec{b}</math> نیست؟</p>	۱۴
<p>صفر، زیرا:</p> $((\vec{i} \times \vec{k}) \times \vec{i}) \cdot \vec{j} = (\vec{j} \times \vec{i}) \cdot \vec{j} = -\vec{k} \cdot \vec{j} = 0$	۱۵
$\vec{u} = \vec{a} - \vec{j} = (-2, -1, 1)$ $\vec{u} \times \vec{b} = \begin{vmatrix} \vec{i} & \vec{j} & \vec{k} \\ -2 & -1 & 1 \\ 1 & -2 & 3 \end{vmatrix} = -\vec{i} + 7\vec{j} + 5\vec{k} = (-1, 7, 5)$	۱۶

$\ \vec{u} \times \vec{b}\  = \sqrt{1 + 49 + 25} = \sqrt{75} = 5\sqrt{3}$ $S = \frac{1}{2} \ \vec{u} \times \vec{b}\  = \frac{1}{2} (5\sqrt{3})$	
<p>چون سه بردار داده شده، روی یک صفحه قرار دارند، پس <math>\vec{a} \cdot (\vec{b} \times \vec{c}) = 0</math>، لذا برای تعیین مقدار <math>m</math>، به شکل زیر عمل می‌کنیم.</p> $\vec{b} \times \vec{c} = \left( \begin{vmatrix} -1 & 1 \\ m & -1 \end{vmatrix}, \begin{vmatrix} 1 & 1 \\ -1 & 1 \end{vmatrix}, \begin{vmatrix} 1 & -1 \\ 1 & m \end{vmatrix} \right) = (1-m, 2, m+1)$ $\vec{a} \cdot (\vec{b} \times \vec{c}) = (m)(1-m) + (-1)(2) + (1)(m+1)$ $= m - m^2 - 2 + m + 1 = -m^2 + 2m - 1$ $\vec{a} \cdot (\vec{b} \times \vec{c}) = 0 \rightarrow -m^2 + 2m - 1 = 0 \rightarrow m^2 - 2m + 1 = 0$ $\rightarrow (m-1)^2 = 0 \rightarrow m = 1$ <p style="text-align: right;">روش دوم:</p> $\vec{a} \cdot (\vec{b} \times \vec{c}) = \begin{vmatrix} m & -1 & 1 \\ 1 & -1 & 1 \\ 1 & m & -1 \end{vmatrix} = m^2 - 2m + 1 = (m-1)^2$ $\vec{a} \cdot (\vec{b} \times \vec{c}) = 0 \rightarrow (m-1)^2 = 0 \rightarrow m = 1$	<p>۱۷</p>