

نام.....

باسمه تعالی

نام خانوادگی.....

اداره کل آموزش و پرورش فارس

پایه : سوم .شعبه:.....



کارشناس سنجش و ارزشیابی تحصیلی

اداره آموزش و پرورش ناحیه ۲ شیراز

نام درس: تمرین دوره ای فصل ۲ و ۳

نام آموزشگاه: دبستان پسرانه غیردولتی دانشگاه

۱. پسرم با رقم های ۶، ۰، ۲، ۹ بزرگترین و کوچکترین عدد چهار رقمی را بنویس .

کوچکترین به عدد : بزرگترین به عدد :

به حروف : به حروف :

۲. یک دینار کشوری به اندازه ی ۱۱۰۰ تومان ارزش دارد . ۴ دینار این کشور چند تومان ارزش دارد ؟

۲. در یک کفه ی ترازو یک خربزه و در کفه ی دیگر ترازو یک وزنه ی ۲ کیلوگرمی و یک وزنه ی نیم کیلویی و

یک وزنه ی ربع کیلویی گذاشتیم تا ترازو میزان بایستد . جرم خربزه کیلو گرم و گرم است.

۳. در جای خالی علامت (> = <) بگذار .

۲۷۰ ریال ۲۷۰۰ تومان

۲ کیلومتر و ۴ متر ۲۴۰۰ متر

۶۳۷۸ ۶۳۸۷

۱۰ بسته صدتایی ۱۰۰ تاده تا

$\frac{2}{6}$ $\frac{2}{5}$

$\frac{2}{3}$ $\frac{1}{3}$

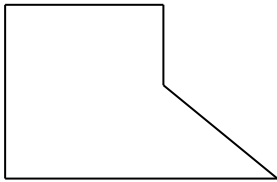
$\frac{8}{8}$ $\frac{7}{7}$

ربع نصف

خمس ثلث

۱ $\frac{3}{3}$

۴. در شکل زیر چند زاویه می بینی؟


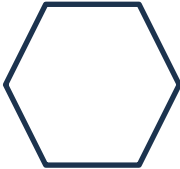


چند زاویه راست می بینی؟ آن ها را مشخص کن.

چند زاویه ی تند می بینی؟

چند زاویه ی باز می بینی؟

۵. در شکل های زیر ربع و خمس را نشان بده.



۶. پویا و آتین تصمیم گرفتن یک کتاب را بخوانند. در هفته ی اول پویا $\frac{3}{4}$ کتاب و آتین $\frac{2}{4}$ کتاب را خواندند. با

کشیدن شکل نشان بده پویا بیشتر کتاب خوانده یا آتین؟

۷. عقربه ی بزرگ ساعت چند دقیقه حرکت کند تا زاویه راست درست شود؟

۸. پسر کسرها را از کوچک به بزرگ بنویس.

$$\frac{7}{9}, \frac{2}{9}, \frac{3}{9}, \frac{5}{9}$$

۹. کدام مقایسه درست انجام شده است؟ کنار آن تیک بزن.

$$\frac{2}{8} > \frac{5}{8}$$

$$\frac{2}{5} > \frac{4}{5}$$

$$\frac{1}{5} > \frac{1}{4}$$

$$\frac{1}{2} > \frac{1}{4}$$

$$\frac{9}{9} = 1$$

$$\frac{4}{8} < \frac{4}{9}$$

$$\frac{2}{4} > \frac{1}{2}$$

$$\frac{2}{5} > \frac{3}{5}$$

۱۰. برای شکل روبرو ۳ کسر تساوی بنویس.

