


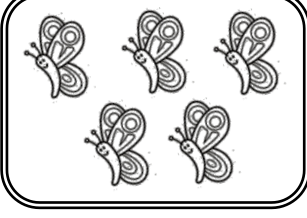

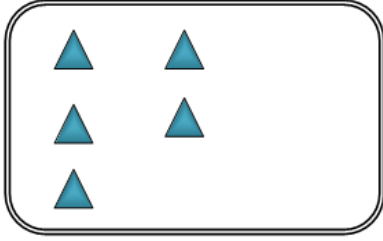
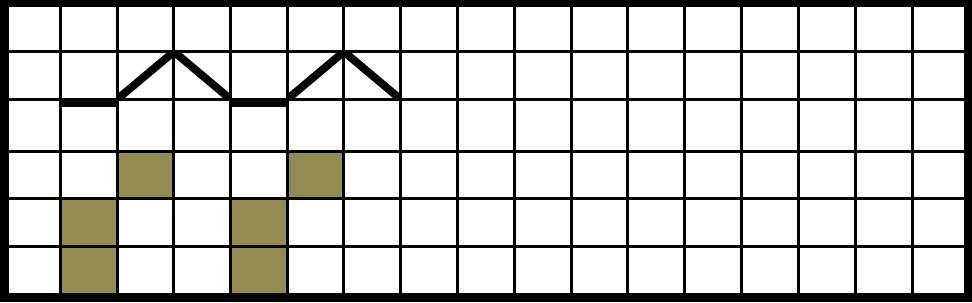




<p>پایه: اول شعبه: تاریخ آزمون: ۱۴۰۲/۱۰/۰۴ مدت زمان امتحان: تعداد صفحات:</p>	 دبستان پسرانه ی غیر دولتی دانشگاه شیراز آزمون پایش شماره ی ۱	<p>نام و نام خانوادگی: نام پدر: شماره ی صندلی: نام درس: ریاضی</p>
--	--	--

سؤالات	ردیف
<p>تعداد هر تصویر را نوشته و هر جا لازم بود علامت $< = >$ قرار دهید.</p> <div style="display: flex; justify-content: space-around; align-items: flex-end;"> <div style="border: 1px solid black; border-radius: 15px; padding: 10px; width: 15%;">  </div> <div style="border: 1px solid black; border-radius: 15px; padding: 10px; width: 15%;">  </div> <div style="border: 1px solid black; border-radius: 15px; padding: 10px; width: 15%;">  </div> <div style="border: 1px solid black; border-radius: 15px; padding: 10px; width: 15%;">  </div> </div> <div style="display: flex; justify-content: space-around; margin-top: 10px;"> <div style="display: flex; gap: 20px;"> <div style="border: 1px solid black; border-radius: 50%; width: 40px; height: 40px;"></div> <div style="border: 1px solid black; width: 40px; height: 20px;"></div> <div style="border: 1px solid black; border-radius: 50%; width: 40px; height: 40px;"></div> </div> <div style="display: flex; gap: 20px;"> <div style="border: 1px solid black; border-radius: 50%; width: 40px; height: 40px;"></div> <div style="border: 1px solid black; width: 40px; height: 20px;"></div> <div style="border: 1px solid black; border-radius: 50%; width: 40px; height: 40px;"></div> </div> </div>	۱
<p>در سمت راست آن قدر شکل بکشید که تعداد آن با دسته ی سمت چپ برابر شود.</p> <div style="display: flex; justify-content: space-around; align-items: center; margin-top: 20px;"> <div style="border: 1px solid black; border-radius: 15px; padding: 10px; width: 20%;">  </div> <div style="border: 1px solid black; border-radius: 15px; padding: 10px; width: 20%;">  </div> </div>	۲
<p>الگو را ادامه دهید.</p> <div style="text-align: center; margin-top: 20px;">  </div>	۳
<p>شکل های هر دو دسته با هم چند تا می شوند؟ با عدد و چوب خط نشان دهید.</p> <div style="display: flex; justify-content: space-around; align-items: center; margin-top: 20px;"> <div style="border: 1px solid black; border-radius: 15px; padding: 10px; width: 15%;">  </div> <div style="border: 1px solid black; border-radius: 15px; padding: 10px; width: 15%;">  </div> <div style="border: 1px solid black; border-radius: 15px; width: 15%; height: 40px;"></div> <div style="border: 1px solid black; border-radius: 15px; width: 15%; height: 40px;"></div> </div>	۴

۵

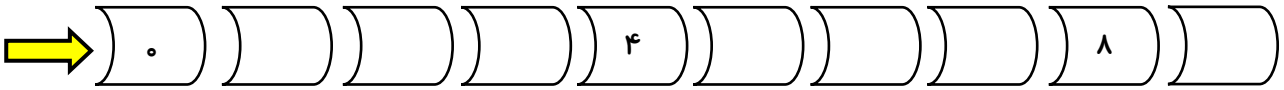
جدول زیر را کامل کنید.

۴	۶			۱	۲
۱	۲	۵	۴	۶	۳
۲	۵			۳	۴
۳	۴	۶	۲	۵	۱
۵	۱	۴	۳	۲	۶
۶	۳			۴	۵




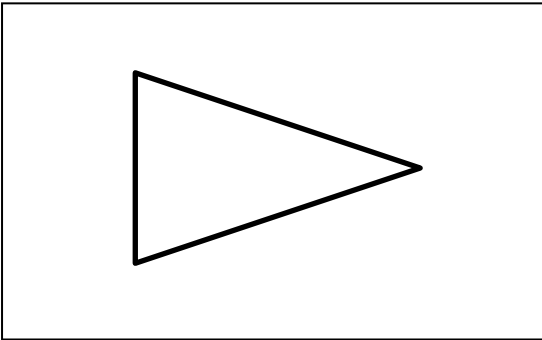
۶

جاهای خالی را با عدد مناسب کامل کنید.



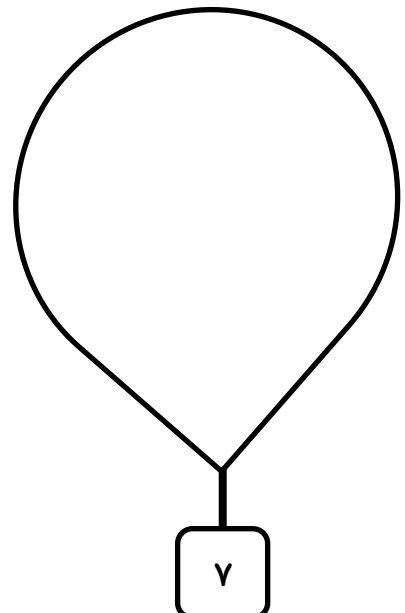
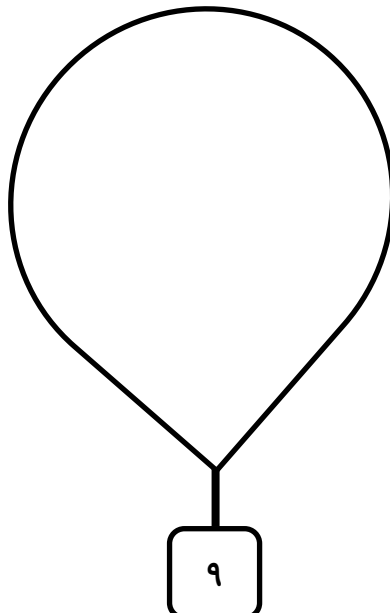
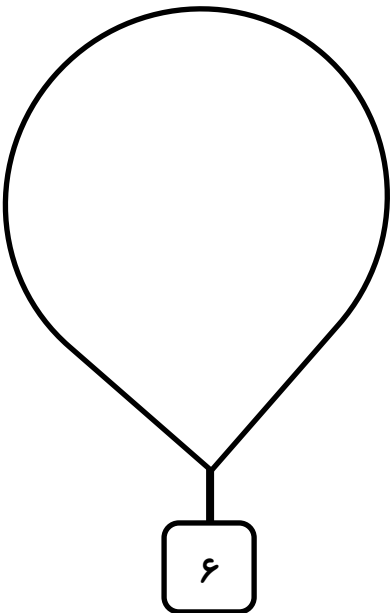
۷

با استفاده از خط کش، خطی بکشید که دو نیمه را مثل هم کند و هر دو نیمه را مثل هم رنگ کنید.



۸

برای هر عدد شکل بکشید.




۹

اگر سارا ۴ پرتقال داشته باشد و سینا ۳ سیب داشته باشد، با چوب خط نشان دهید هر دو با هم چند میوه

دارند؟

۱۰

شکل را طوری کامل کنید که دو نیمه مثل هم شوند.



باز خورد معاونت پایه:

نام و نام خانوادگی:

تاریخ و امضا:

اظهار نظر اولیای محترم:

نام و نام خانوادگی:

تاریخ و امضا:

اگر جاده ای پیدا کردید که هیچ مانعی در آن نبود، به احتمال زیاد آن جاده به جایی نمی رسد.

«فرانک کلارک»