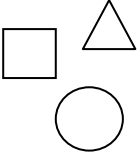


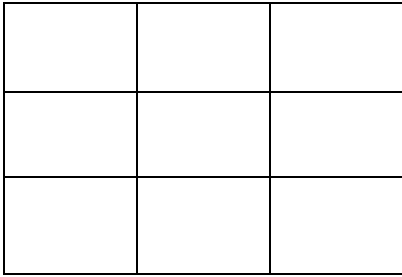
نام و نام خانوادگی: آزمون عملکردی ریاضی پایه اول سال تحصیلی ۹۳-۹۲

۱- با این شکل ها یک الگوی مشخص و یک الگوی نامشخص طراحی کن و آن را ادامه بده سپس





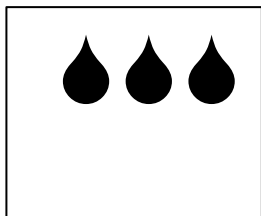
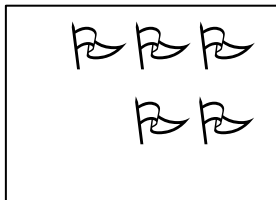
دور الگوی مشخص خط بکش.



۲- جدول شگفت انگیز زیر را با شکل های دلخواه کامل کن.



۳- دسته هایی که تعداد شکل هایشان مثل هم است با خط کش به هم وصل کن.



۴- مانند نمونه جدول ها را کامل کن.

↗	۱	۵
△	△ ۱	
○		

↗	🌸
▽	
☾	

۵- با شابلون شکلی بکش که گوشه نداشته باشد.



۶- قبل از طوطی یک گل بکش که به سمت چپ خم شده باشد.



۷- به تعداد انگشتان چوب خط بکش .



۸- برای هر دسته یکی بعد و یکی قبل را بکش .



نظر آموزگار: