



به نام خداوند جان و خرد  
دبستان پسرانه ی دانشگاه شیراز

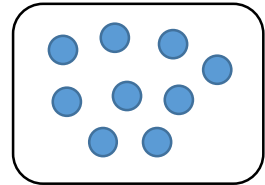
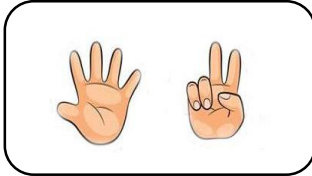
تاریخ :

آزمون مستمر ریاضی آذر

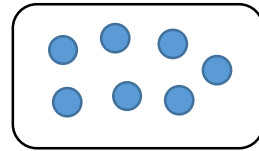
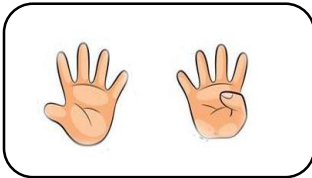
نام و نام خانوادگی :

صفحات: تا صفحه ی ۸۴

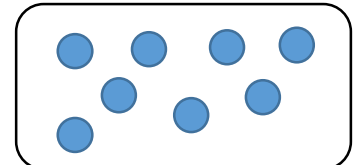

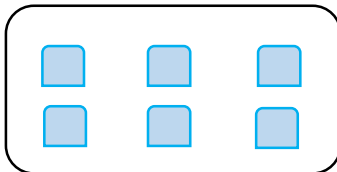
۱- تعداد انگشتان هر دست به اندازه ی کدام یک از شکل های سمت راست است با خط کش به هم



وصل کن.



۲- در هر دسته دور عدد مناسب خط بکش.

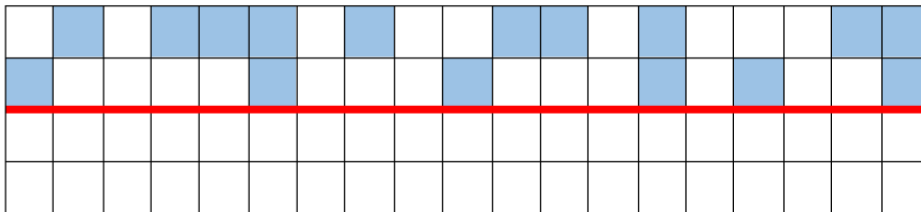


۵      ۷      ۶

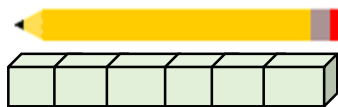
۴      ۷      ۵

۶      ۸      ۷

۳- طرف دیگر شکل ها را کامل کن.







۴- اندازه ی شکل چند تا چینه است؟ عدد آن را بنویس.



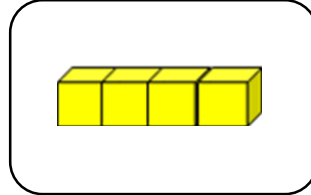
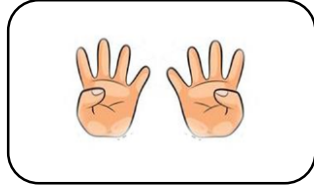
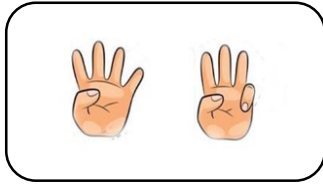
..... تا

۵- عدد هر دسته را بنویس و علامت مناسب (< = >) بگذار.



..... ○ .....

..... ○ .....



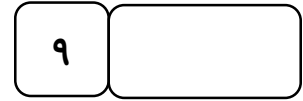
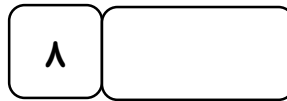
..... ○ .....

..... ○ .....

۶- عددهای قبل و بعد را بنویس.

	۶		۸	
--	---	--	---	--

۷- برای هر عدد چوب خط بکش.



۸- مربع شگفت انگیز را کامل کن.

	۲	۱	۳
۱			
		۴	
۳	۱		۴

باز خورد آموزگار:

مرفقی پاپیرو