



به نام خداوند جان و خرد
دبستان پسرانه ی دانشگاه شیراز

تاریخ:

آزمون مستمر ریاضی فروردین

نام و نام خانوادگی:

صفحات: تا صفحه ی ۱۶۸

۱- عدد های زیر را با توجه به الگو ادامه بده.

۰، ۶، ۱۲، ۶ ۶ ۶ ۶ ۶ ۶

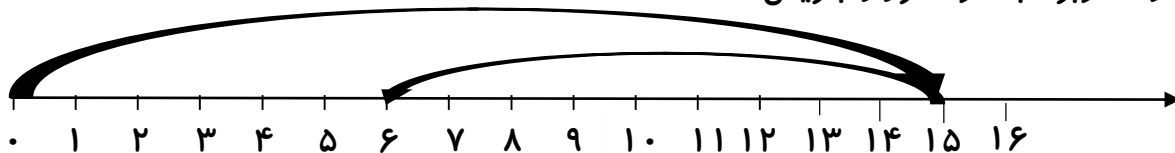
۱۴، ۲۴، ۳۴، ۶ ۶ ۶ ۶ ۶

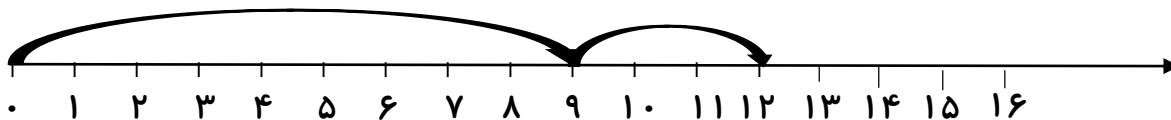
۲- حاصل جمع ها را پیدا کن و با چوب خط نشان بده.

$11 + 3 + 5 = \dots\dots\dots$

$5 + 5 + 5 + 10 = \dots\dots\dots$

۳- عبارت مربوط به هر محور را بنویس.






۴- عددهای قبل و بعد اعداد داده شده را بنویس.

..... - - - - ۸۴ - - - ۸۷ - -

۵- دسته های ده تایی درست کن و در جاهای خالی عدد مناسب بنویس.



ده تایی	یکی

با عدد:

با حروف:

۶- جدول زیر را با عدد و حروف کامل کن.

.....	هجده	هشتاد و هفت
۶۹	۷۰

۷- در جای خالی عدد مناسب بنویس.

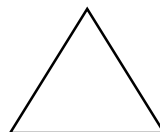
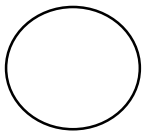
۹۰ می شود ده تایی

۶۶ می شود ده تایی و یکی

۱۰ می شود ده تایی

۷۸ می شود ده تایی و یکی

۸- نام هر شکل را بنویس.



.....

.....

.....

۹- اتوبوسی ۹ مسافر داشت. در ایستگاه اول ۴ مسافر سوار شدند در ایستگاه دوم ۶ مسافر پیاده شدند.
حالا چند مسافر در اتوبوس هستند؟ (با کمک چوب خط)

..... نفر در اتوبوس هستند.

۱۰- سه بسته ی ده تایی مداد روی میز بود. آموزگار ۴ بسته ی ۱۰ تایی دیگر مداد روی میز گذاشت.

حالا چند بسته ی ده تایی مداد روی میز قرار دارد؟ (با کمک شکل)

..... بسته ی ده تایی.

۱۱- در جاهای خالی شماره ی مناسب بنویس.


گل شماره ی کوتاه تر از گل شماره ی است.

گل شماره ی هم اندازه با گل شماره ی است.

گل شماره ی بلند ترین گل است.




۱



۲




۳



۴


۱۲- با توجه به ساعت، جاهای خالی را پر کن.



کمی به ساعت مانده است.



ساعت از گذشته است.



ساعت است.



زمان بین ساعت و است.

باز خورد آموزگار:

موفق باشید.