



به نام خداوند جان و خرد
دبستان پسرانه ی دانشگاه شیراز

تاریخ:

آزمون مستمر ریاضی اسفند

نام و نام خانوادگی:

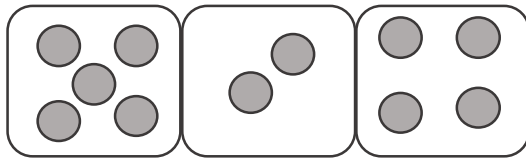
صفحات: تا صفحه ی ۱۶۱

۱- عدد های زیر را با توجه به الگو ادامه بده.

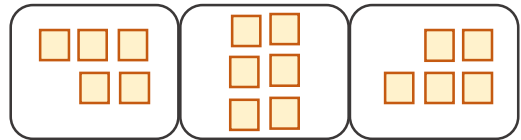
۴، ۶، ۸،،،،،،،،،،

۱۸، ۲۸، ۳۸،،،،،،،،،

۲- جمع مربوط به هر شکل را بنویس و پاسخ ها را مقایسه کن و علامت مناسب ($>$ = $<$) را انتخاب کن.



$<$



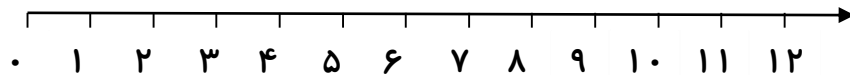
=

..... + + =

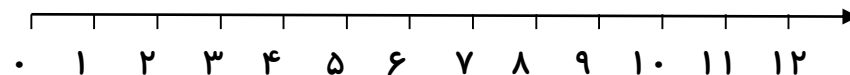
$>$

..... + + =

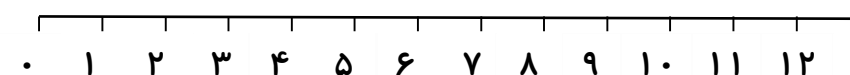
۳- جمع و تفریق های زیر را روی محور نشان بده.



$$۸ + ۳ = \dots\dots\dots$$



$$۱۲ - ۷ = \dots\dots\dots$$




$$۷ + ۴ - ۵ = \dots\dots\dots$$

۴- عددهای قبل و بعد اعداد داده شده را بنویس.

۶۲ - - - - ۵۵ - - - - - ۵۲

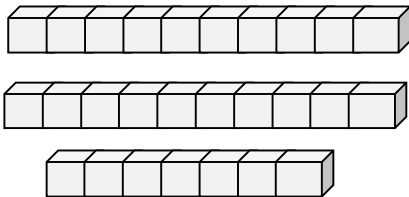
۵- دسته های ده تایی درست کن و جدول را کامل کن و با عدد و حروف بنویس.



ده تایی	یکی

به عدد:

به حروف:

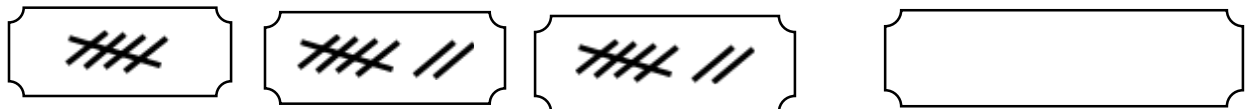


ده تایی	یکی

به عدد:

به حروف:

۶- حاصل جمع زیر را با کمک چوب خط پیدا کن.

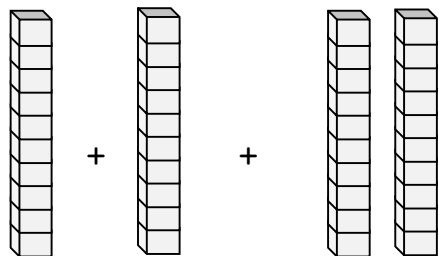


..... + + =

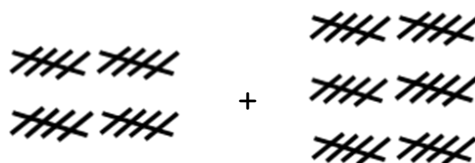
۷- جدول زیر را با عدد و حروف کامل کن.

.....	هشتاد و یک	شصت و چهار
۱۹	۴۳

۸- با توجه به شکل های داده شده، جمع ها را انجام بده.



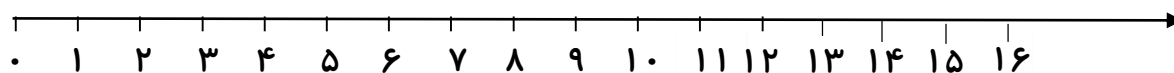
..... + + =



..... + =


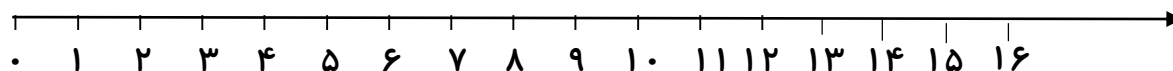
۹- در یک اتوبوس ۷ مسافر بودند. ایستگاه اول ۴ نفر و در ایستگاه بعد ۲ نفر سوار شدند. حالا چند نفر در اتوبوس هستند؟ (جواب را به دست آور و روی محور نشان بده.)

..... نفر در اتوبوس هستند.




۱۰- آرش ۱۵ تا ماشین داشت. ۳ تا ماشین به برادرش و ۵ تا را به دوستش داد. حالا آرش چند ماشین دارد؟ (جواب را به دست آور و روی محور نشان بده.)

..... ماشین دارد.



۱۱- جمله را با نوشتن عدد مناسب کامل کن.

بلندی گل بین تا است. 

۱۲- مربع شگفت انگیز را کامل کن.

۳	۱	۶	۷	۴	۲	۹	۸	۵
۸	۴	۵	۳	۶	۹	۲	۷	۱
۹	۷			۱	۸	۶	۴	
۷	۳			۹	۵	۱	۲	۸
۶	۸	۹	۴	۲	۱	۳	۵	۷
۲	۵			۷			۹	۶
۵	۶			۳			۱	۲
۱	۹	۳	۲	۸	۷	۵	۶	۴
۴	۲	۷	۱	۵	۶	۸	۳	۹

بازخورد آموزگار:

موفق باشید.