

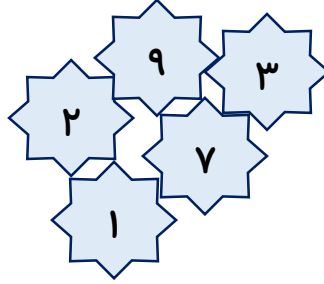
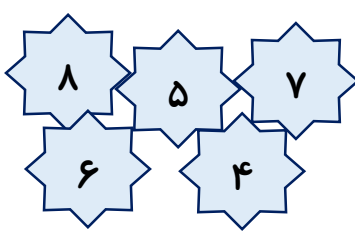
به نام خداوند جان و خرد

طراح: نوشین فردبحرینی

تمرین مروری ریاضی ۲

نام و نام خانوادگی:

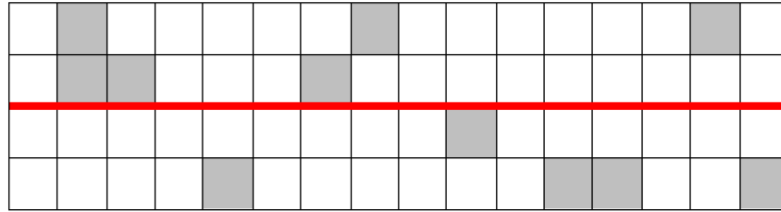
۱- به هر دو دسته با دقت نگاه کن، عددی که در هر دو دسته تکرار شده را پیدا کن و به تعداد آن



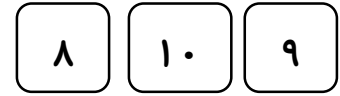
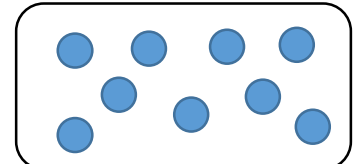
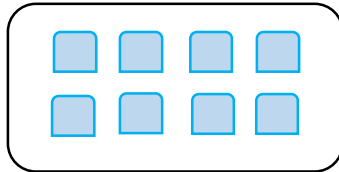
شکل بکش.



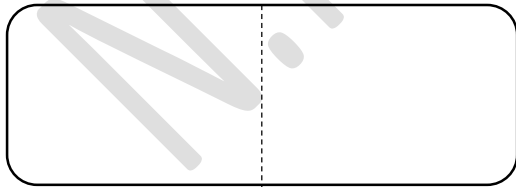
۲- طرف دیگر شکل را کامل کن.



۳- خانه های عدد مناسب را رنگ بزن.



۴- برای هر جمع شکل بکش و حاصل جمع را بنویس.



$$7 + 2 = \square$$



$$5 + 5 = \square$$

۵- عددهای قبل و بعد را بنویس.



