



به نام خداوند جان و خرد  
دبستان پسرانه ی دانشگاه شیراز

تاریخ:

آزمون مستمر ریاضی بهمن

نام و نام خانوادگی:

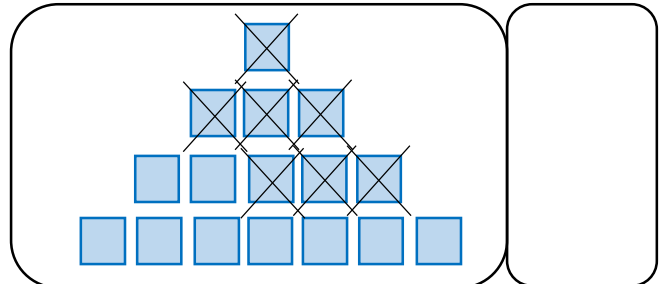
صفحات: تا صفحه ی ۱۳۳

۱- عدد ها را به ترتیب از کوچک به بزرگ مرتب کن و بنویس.

۳      ۷      ۴      ۵      ۲      ۶

..... ۶ ..... ۶ ..... ۶ ..... ۶ ..... ۶ ..... ۶


۲- پاسخ هر قسمت را بنویس و با چوب خط و عدد نشان بده و مقایسه کن و داخل  علامت مناسب ( $>$   $=$   $<$ ) بگذار.



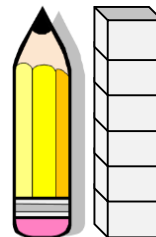
..... + ..... + ..... = .....

..... - ..... = .....

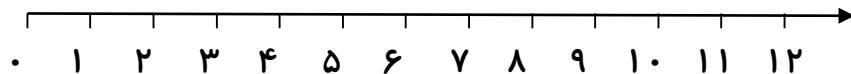
۳- اندازه ی بلندی هر شکل، چند  است؟ داخل  بنویس.



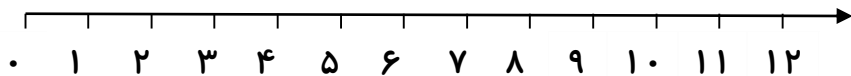
اندازه ی بلندی کدام شکل، بیشتر است؟ دور آن خط بکش.



۴- با کمک محور، جمع و تفریق را حل کن و پاسخ را بنویس.




$$5 + 2 + 4 = \dots\dots\dots$$




$$10 - 3 = \dots\dots\dots$$

۵- با جدا کردن دسته های ده تایی، جدول را کامل کن و عددی که هر شکل نشان می دهد را بنویس.




ده تایی	یکی




ده تایی	یکی

۶- الگوهای عددی را ادامه بده.

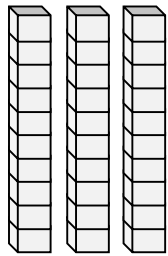
۵، ۷، ۹، .....  
  
 + ۲ + ۲

۰، ۱۰، ۲۰، .....  
  
 + ۱۰

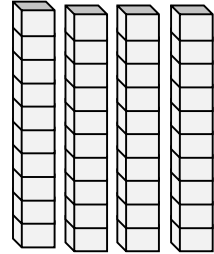
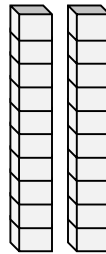
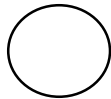
۷- با حروف بنویس.

.....	۱۱	.....	۱۶	.....	۱۵
.....	۱۲	.....	۱۸	.....	۱۳

۸- جمع کن و علامت مناسب ( $< = >$ ) را داخل  $\bigcirc$  قرار بده.



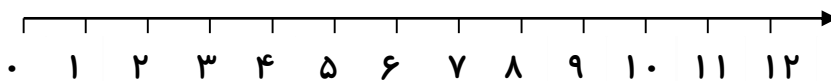
..... + ..... = .....



..... + ..... = .....

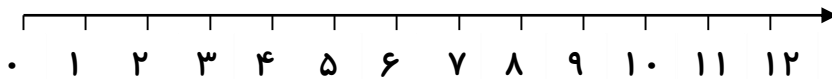
۹- ۸ شمع روشن بود، ۳ شمع خاموش شد. چند شمع روشن مانده است؟ ( جواب را به دست آور و روی محور نشان بده. )

..... شمع روشن مانده است.

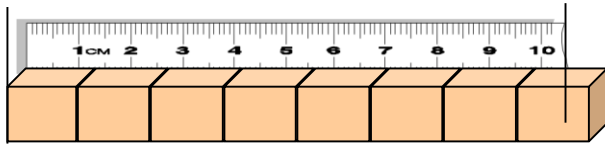



۱۰- ۵ طوطی روی درخت بودند. ۴ طوطی دیگر هم آمدند. چند طوطی روی درخت است؟ ( جواب را به دست آور و روی محور نشان بده. )

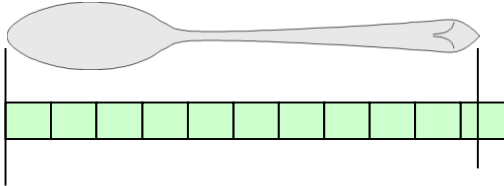
..... طوطی روی درخت است.




۱۱- جاهای خالی را با عددهای مناسب پر کن.




طول خط کش بین ..... تا ..... است. 



طول قاشق بین ..... تا ..... است. 

۱۲- مربع شگفت انگیز را کامل کن.

۳	۴	۶	۹	۱		۵	۲	۸
۸		۱	۶	۴	۲	۹	۷	۳
۷	۹	۲	۸	۳	۵	۶		۱
۲	۶	۷	۴		۸		۳	۹
	۳		۱	۷	۹	۴	۶	۲
۴	۱	۹	۳	۲	۶	۸		۷
۱				۶	۴	۷	۹	۵
	۲	۵	۷	۹		۳		۴
۹	۷	۴	۵	۸	۳	۲	۱	



باز خورد آموزگار: