


تعداد شکل های هر دسته را با چوب خط بشمار. باشکل ها دسته های ده تایی درست کن، جدول را کامل کن و عدد مربوط به هر دسته را بنویس.



یکی	ده تایی




یکی	ده تایی



یکی	ده تایی

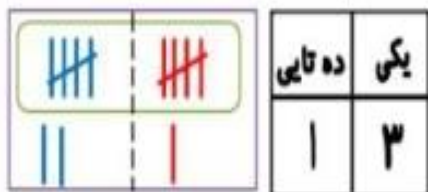


یکی	ده تایی

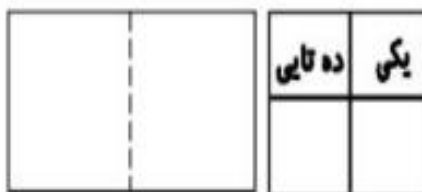


یکی	ده تایی

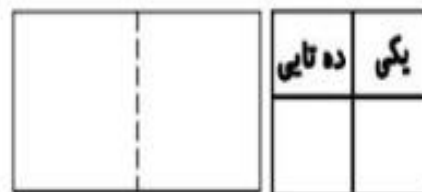
با توجه به جمع نوشته شده، چوب خط بکش. جدول را کامل کن و جواب جمع را بنویس.



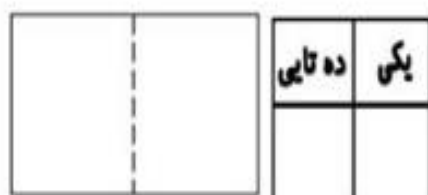
$$۷ + ۶ = \square$$



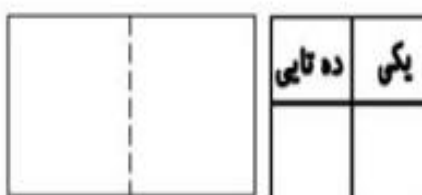
$$۸ + ۷ = \square$$



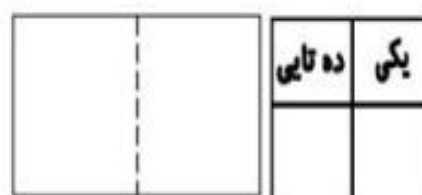
$$۹ + ۹ = \square$$



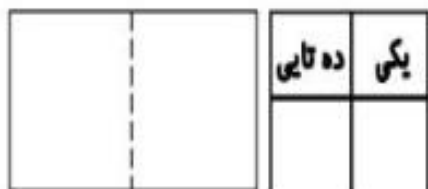
$$۶ + ۸ = \square$$



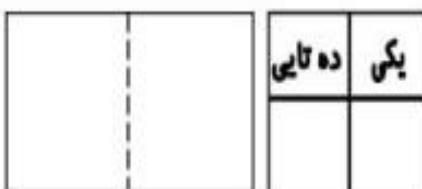
$$۷ + ۷ = \square$$



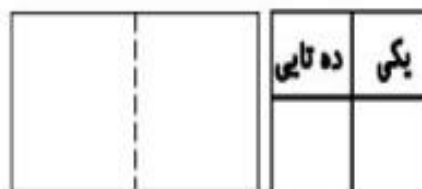
$$۸ + ۹ = \square$$



$$۸ + ۸ = \square$$



$$۹ + ۷ = \square$$



$$۶ + ۶ = \square$$