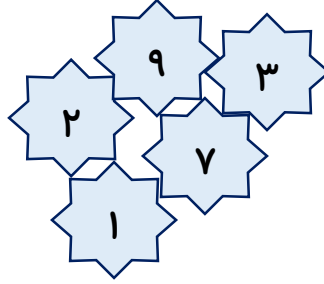
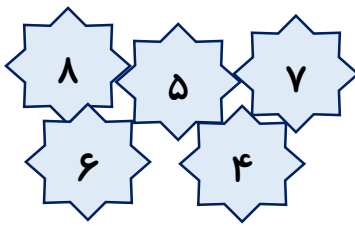


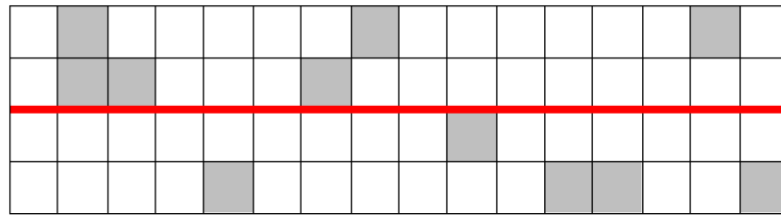
۱- به هر دو دسته با دقت نگاه کن، عددی که در هر دو دسته تکرار شده را پیدا کن و به تعداد آن



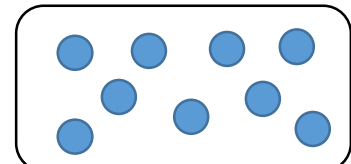

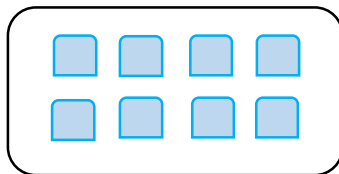
شکل بکش.




۲- طرف دیگر شکل را کامل کن.



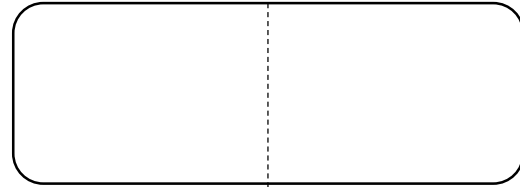
۳- خانه های عدد مناسب را رنگ بزن.



۴- برای هر جمع شکل بکش و حاصل جمع را بنویس.



$$7 + 2 = \square$$



$$5 + 5 = \square$$

۵- دو عدد را پیدا کن که جمع آن ها برابر با عدد بالای ستون باشد.

۱۰

|  |  |
|--|--|
|  |  |
|  |  |
|  |  |
|  |  |
|  |  |

۳

|  |  |
|--|--|
|  |  |
|  |  |
|  |  |
|  |  |

۶

|  |  |
|--|--|
|  |  |
|  |  |
|  |  |
|  |  |
|  |  |

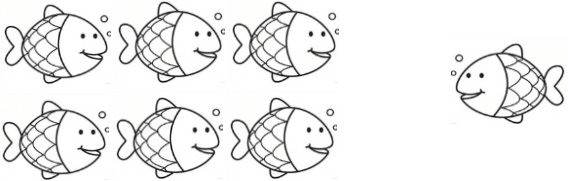
۶- در جاهای خالی علامت مناسب ( $<$   $=$   $>$ ) بگذار.

۷ ○ ۸


۱۰ ○ ۱۰

۹ ○ ۶

۷- برای شکل های زیر جمع یا تفریق بنویس.




..... □ ..... = .....




..... □ ..... = .....

۸- با توجه به عدد داده شده، شکل ها را دسته بندی کن و در جاهای خالی، عدد مناسب بنویس.




۴

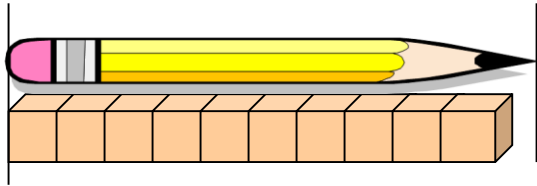


۱۰

..... دسته ی ده تایی و ..... یکی

..... دسته ی ده تایی و ..... یکی

۹- اندازه ی مداد کمی بلندتر از ..... است. 



۱۰- برای هر عدد، از یک رنگ استفاده کن و با رنگ کردن، جواب جمع را پیدا کن. سپس ردیف خالی را به دلخواه کامل کن.


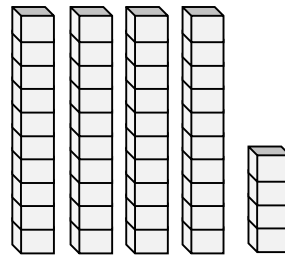

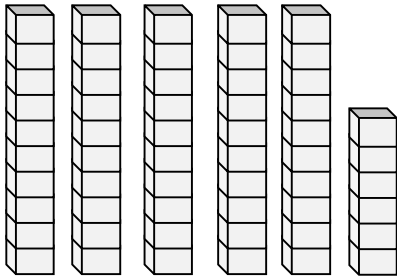
|  |  |  |  |  |  |  |
|--|--|--|--|--|--|--|
|  |  |  |  |  |  |  |
|--|--|--|--|--|--|--|

|  |  |  |  |  |  |  |  |
|--|--|--|--|--|--|--|--|
|  |  |  |  |  |  |  |  |
|--|--|--|--|--|--|--|--|

$$۲ + ۳ + ۱ = \dots\dots\dots$$

$$\dots\dots\dots + \dots\dots\dots + \dots\dots\dots = ۹$$

۱۱- جاهای خالی را با عدد مناسب کامل کن.



۱۲- مربع شگفت انگیز را کامل کن.

|   |   |   |   |   |   |
|---|---|---|---|---|---|
| ۱ | ۵ | ۲ | ۴ | ۶ |   |
| ۶ | ۴ |   |   | ۲ | ۵ |
| ۵ | ۲ |   |   | ۴ | ۶ |
|   | ۶ | ۴ | ۲ | ۵ |   |
| ۴ | ۱ | ۵ | ۶ | ۳ | ۲ |
| ۲ | ۳ | ۶ |   | ۱ | ۴ |



بازخورد آموزگار: