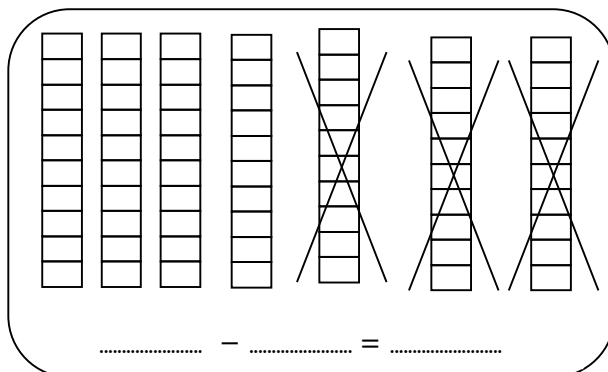
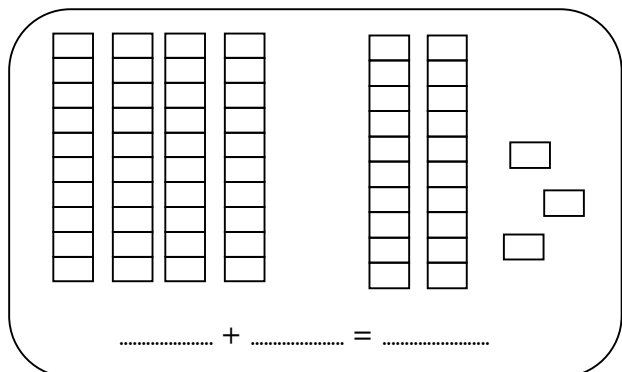
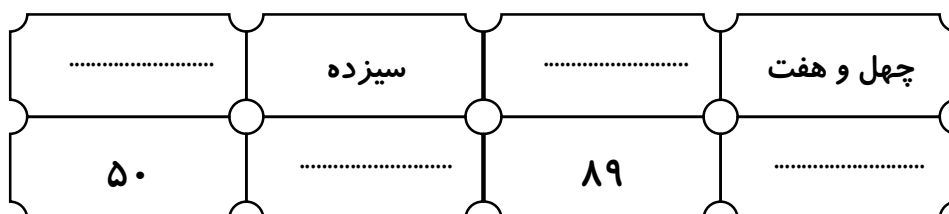




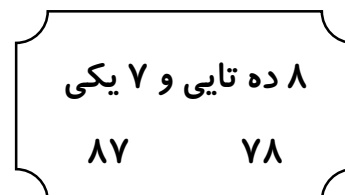
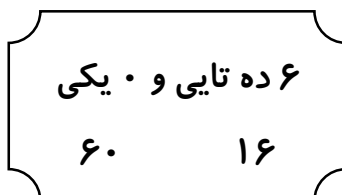
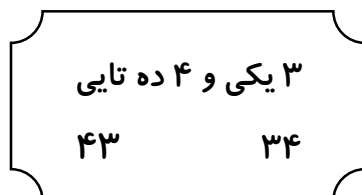
۵- با توجه به شکل ها، جمع و تفریق مناسب بنویس.



۶- عدد ها را با رقم و حروف بنویس.



۷- در هر قسمت، دور عدد مناسب خط بسته بکش.



۸- الگوی عددی را ادامه بده.

..... - ..... - ..... - ..... - ..... - ..... - ..... - ..... - ..... - ۱۰ - ۰

۹- معصومه ۲۸ مهره ی رنگی داشت. او ۱۰ تا مهره به خواهرش داد. حالا معصومه چند مهره دارد؟

( با رسم شکل )

۱۰- پاسخ مناسب بنویس.

$15 + 6 = \dots\dots\dots$


$10 + 25 + 5 + 10 = \dots\dots\dots$

$30 + 12 = \dots\dots\dots$

$5 + 5 + 10 + 20 - 10 = \dots\dots\dots$

۱۱- برای عدد زیر شکل بکش و جاهای خالی را پر کن.

۴۵



با عدد: .....

با حروف: .....

۱۲- عددهای قبل و بعد اعداد داده شده را بنویس.

$\dots\dots\dots - \dots\dots\dots - \dots\dots\dots - \dots\dots\dots - 91 - \dots\dots\dots - \dots\dots\dots$

$\dots\dots\dots - \dots\dots\dots - \dots\dots\dots - 18 - \dots\dots\dots - \dots\dots\dots$

$\dots\dots\dots - \dots\dots\dots - 59 - \dots\dots\dots - \dots\dots\dots$

۱۳- علی یک کارت ۵ امتیازی و دو کارت ۱۰ امتیازی داشت. علی روی هم چند امتیاز دارد. با چوب

خط نشان بده و جواب را بنویس.

۱۴- در جاهای خالی، علامت مناسب ( $>$   $=$   $<$ ) بگذار.

$27 + 0 \square 17 + 10$

$78 \square 87$


$71 + 5 \square 40$

$90 - 60 \square 10 + 50$

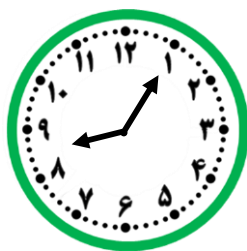
۱۵- هر ساعت چه زمانی را نشان می دهد.



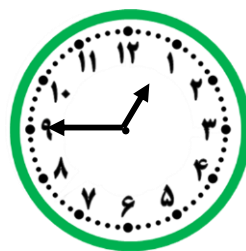
ساعت از ..... گذشته است.



ساعت ..... است.



زمان بین ساعت ..... و ..... است.



کسی به ساعت ..... مانده است.

بازخورد آموزگار:

