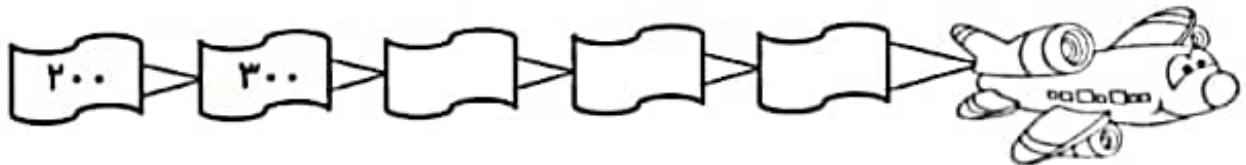
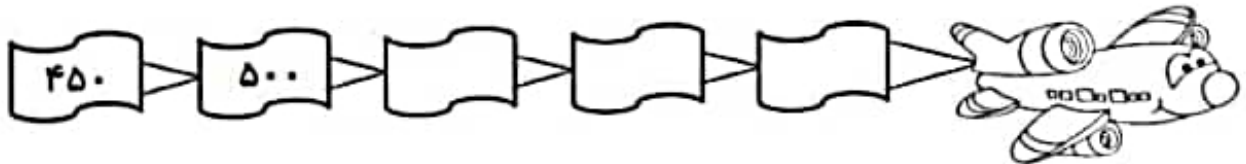
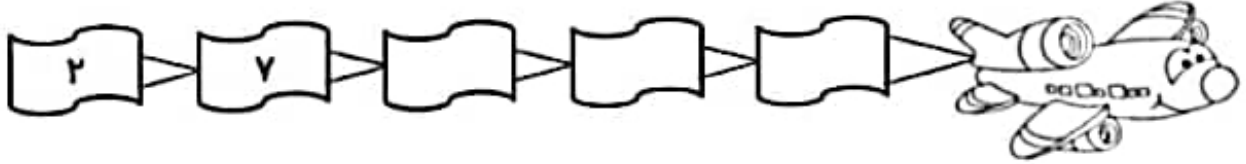


• دانش آموز خوب! الگوهای عددی زیر را ادامه بده.



۰، ۷، ۱۴، .....

۸، ۱۶، ۲۴، .....

• در یک کلاس، ۶ نیمکت وجود دارد. روی هر نیمکت ۳ دانش آموز می‌نشینند. جدول را کامل کن و الگوی عددی کشف شده را توضیح بده.

نیمکت						
دانش آموز						

• حالا که عالی تمرینات را انجام دادی، به الگوی عددی جدید کشف کن و تا ۶ الگو ادامه بده.



